

Arbeitsblatt

26.01.2014

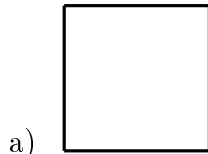
Kostenlos auf dw-aufgaben.de

Aufgaben-Quickname: 3288

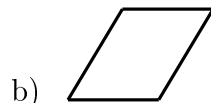
Aufgabe 1

Quick:
3288

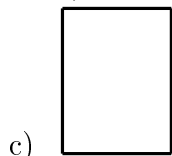
Um welche geometrische Figur handelt es sich hier? Mehrere Antworten sind möglich.



- ein Quadrat
- ein Trapez
- ein Dreieck
- ein Rechteck



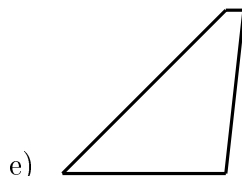
- ein Parallelogramm
- ein Rechteck
- eine Raute
- ein Kreis



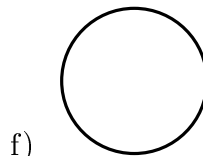
- ein Kreis
- ein Parallelogramm
- ein Rechteck
- eine Ellipse



- ein Trapez
- ein Parallelogramm
- eine Ellipse
- ein Kreis



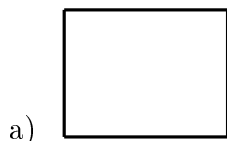
- ein Trapez
- ein Rechteck
- ein Parallelogramm
- eine Raute



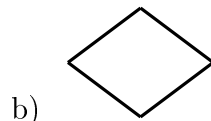
- ein Quadrat
- ein Kreis
- ein Dreieck
- ein Trapez

Aufgabe 2

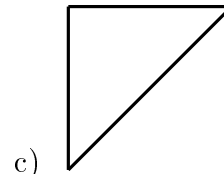
Um welche geometrische Figur handelt es sich hier?



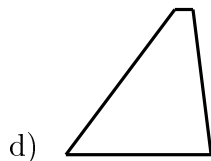
- ein Rechteck
- eine Raute
- ein Kreis
- ein Dreieck



- eine Raute
- eine Ellipse
- ein Dreieck
- ein Trapez



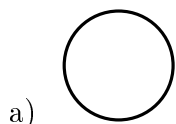
- ein Trapez
- ein Dreieck
- ein Quadrat
- ein Rechteck



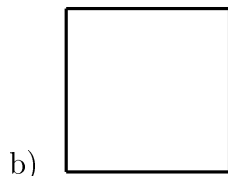
- ein Parallelogramm
- ein Trapez
- ein Kreis
- ein Rechteck

Aufgabe 3

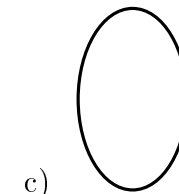
Um welche geometrische Figur handelt es sich hier?



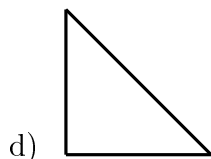
- ein Dreieck
- ein Quadrat
- ein Kreis
- ein Rechteck



- eine Ellipse
- ein Kreis
- ein Quadrat
- ein Dreieck




- ein Dreieck
- eine Ellipse
- ein Rechteck
- ein Quadrat




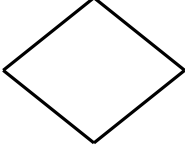
- eine Ellipse
- ein Kreis
- ein Dreieck
- ein Rechteck


Aufgabe 4


Um welche geometrische Figur handelt es sich hier?


- a) 
 ein Kreis
 ein Quadrat
 ein Rechteck
 ein Trapez

- d) 
 ein Quadrat
 eine Raute
 ein Dreieck
 eine Ellipse

- b) 
 eine Ellipse
 ein Trapez
 ein Rechteck
 eine Raute

- e) 
 ein Dreieck
 ein Trapez
 eine Ellipse
 ein Rechteck

- c) 
 ein Dreieck
 ein Kreis
 ein Quadrat
 ein Trapez

- f) 
 ein Rechteck
 eine Raute
 ein Trapez
 ein Dreieck

Viel Erfolg!