

Arbeitsblatt

05.11.2019

Kostenlos auf dw-aufgaben.de

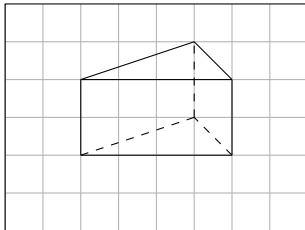
Aufgaben-Quickname: 4520

Aufgabe 1

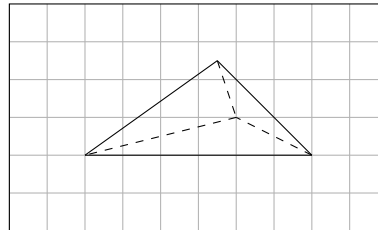
Quick:
4520

Vervollständige das Schrägbild, indem Du die fehlenden Linien einzeichnest. Zeichne sichtbare Linien durchgehend, verdeckte Linien gestrichelt ein.

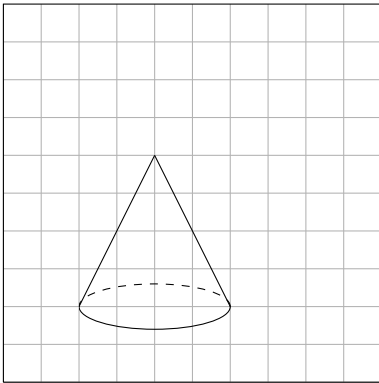
a) Körper: Ein Prisma



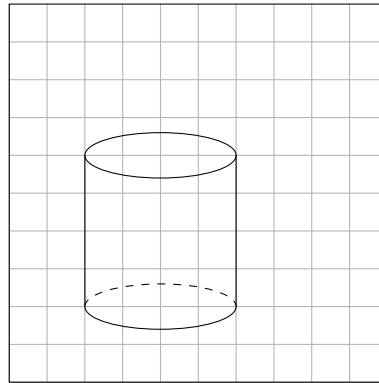
b) Körper: Ein Tetraeder



c) Körper: Ein Kegel



d) Körper: Ein Zylinder



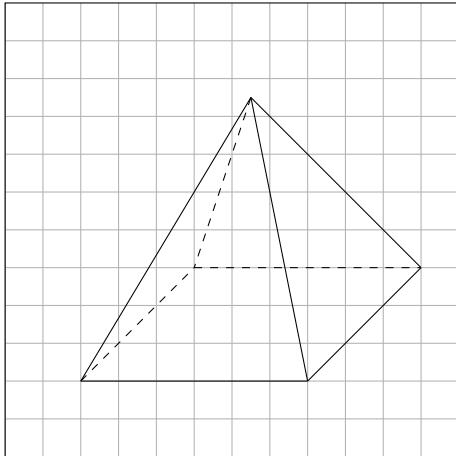
Aufgabe 2

Quick:
4520

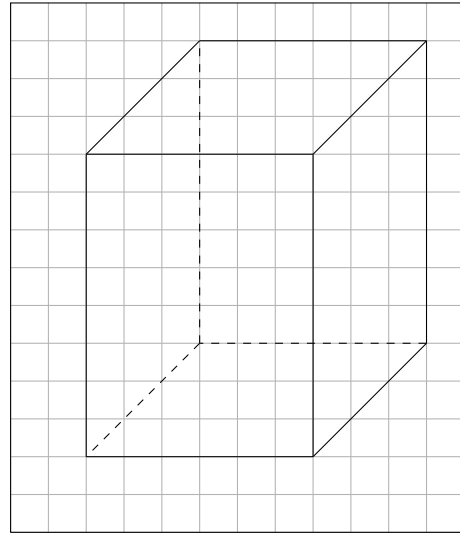
Vervollständige das Schrägbild, indem Du die fehlenden Linien einzeichnest. Zeichne

sichtbare Linien durchgehend, verdeckte Linien gestrichelt ein.

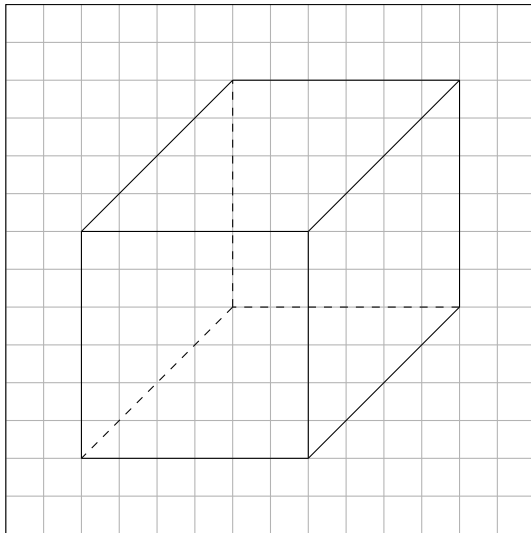
a) Körper: Eine Pyramide



b) Körper: Ein Quader



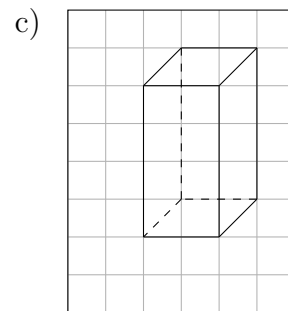
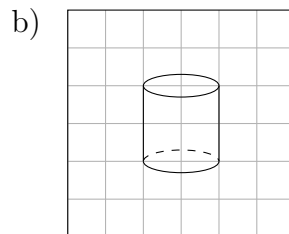
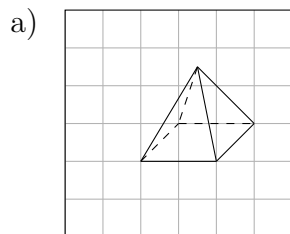
c) Körper: Ein Quader



Aufgabe 3

Vervollständige das Schrägbild, indem Du die fehlenden Linien einzeichnest. Zeichne sichtbare Linien durchgehend, verdeckte Linien gestrichelt ein.

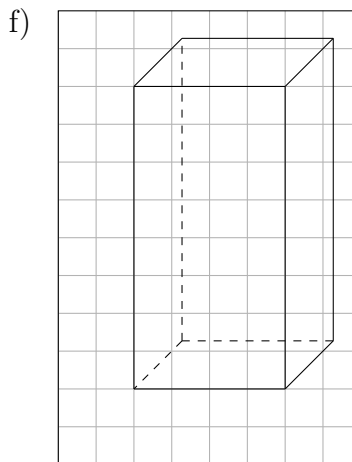
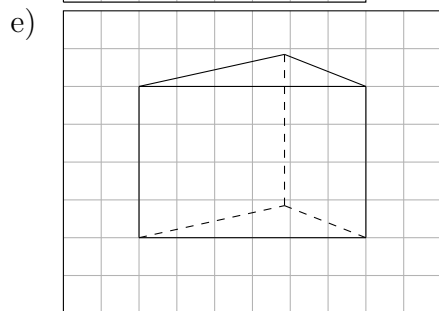
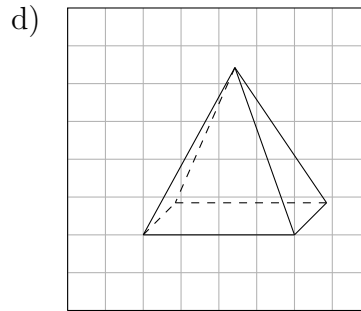
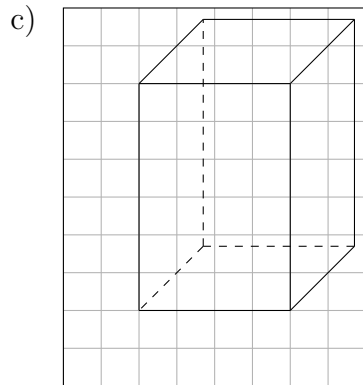
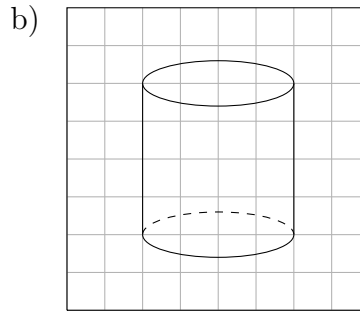
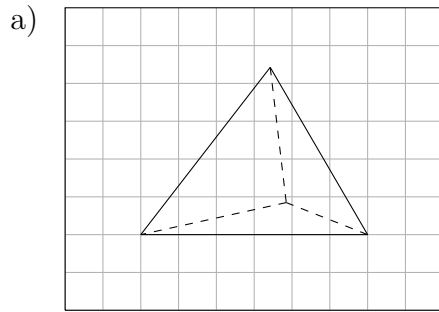
Quick:
4520



Aufgabe 4

Quick:
4520

Vervollständige das Schrägbild, indem Du die fehlenden Linien einzeichnest. Zeichne sichtbare Linien durchgehend, verdeckte Linien gestrichelt ein.



Viel Erfolg!