

# Arbeitsblatt

13.10.2017

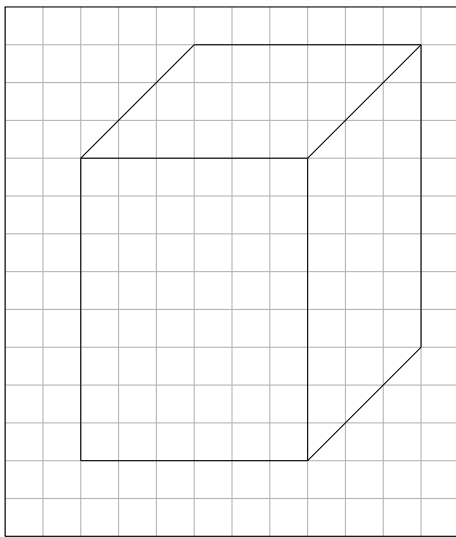
Kostenlos auf [dw-aufgaben.de](http://dw-aufgaben.de)

Aufgaben-Quickname: 4519

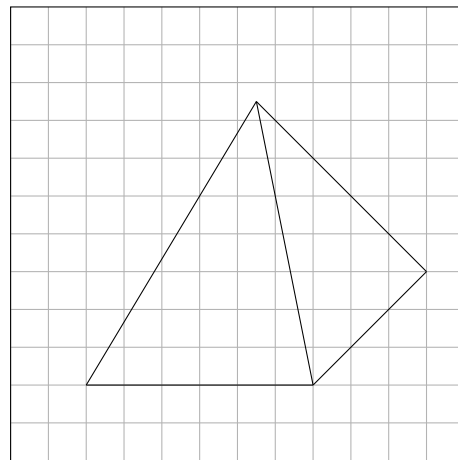
## Aufgabe 1

Vervollständige das Schrägbild, indem Du die fehlenden verdeckten Linien gestrichelt einzeichnest.

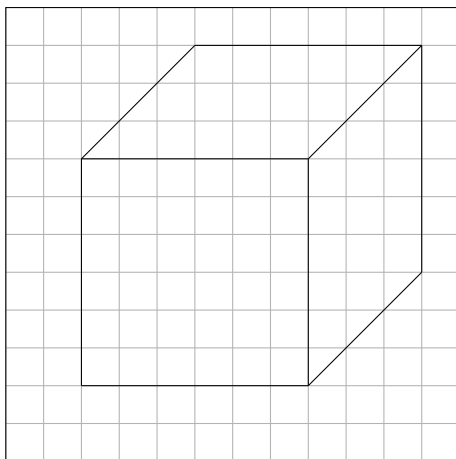
a) Körper: Ein Quader



b) Körper: Eine Pyramide



c) Körper: Ein Würfel

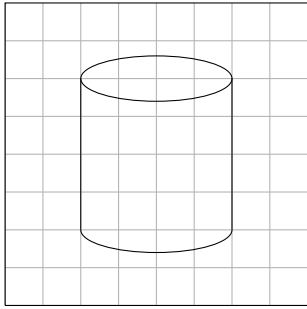


## Aufgabe 2

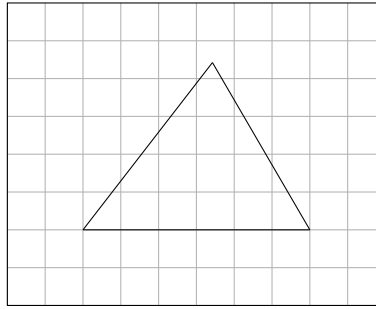
Vervollständige das Schrägbild, indem Du die fehlenden verdeckten Linien gestrichelt

einzeichnest.

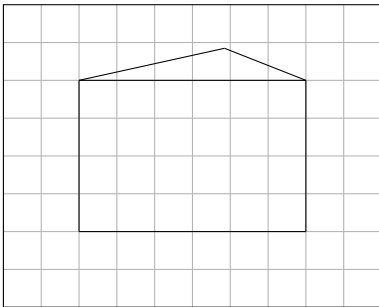
a) Körper: Ein Zylinder



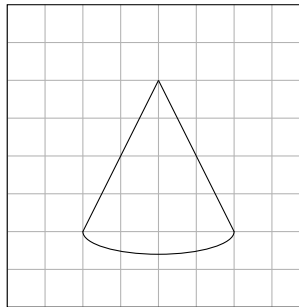
b) Körper: Ein Tetraeder



c) Körper: Ein Prisma

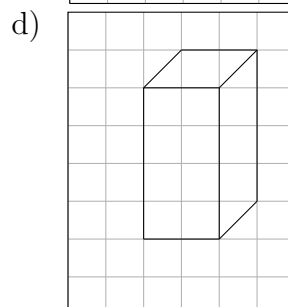
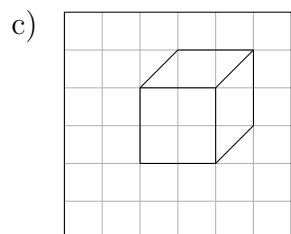
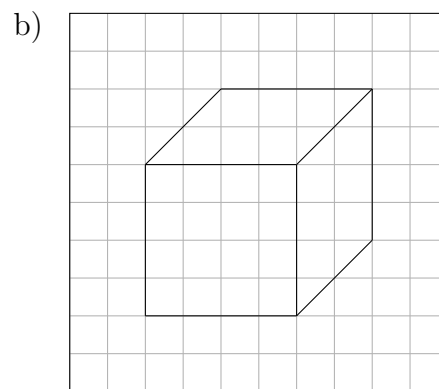
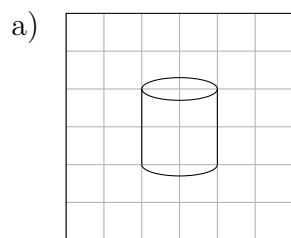


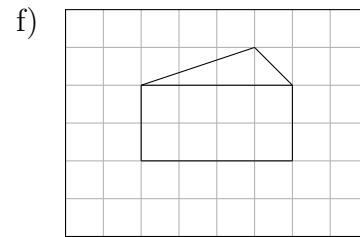
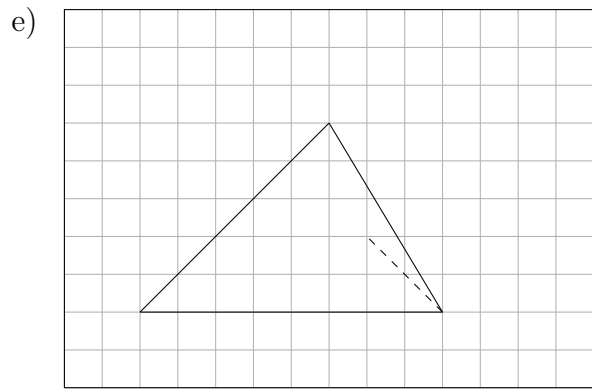
d) Körper: Ein Kegel



### Aufgabe 3

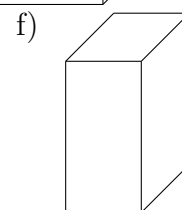
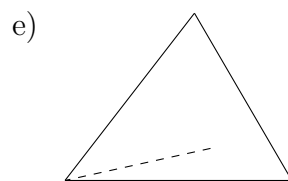

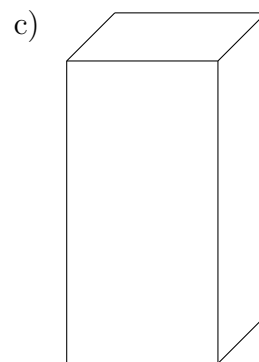
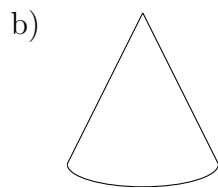
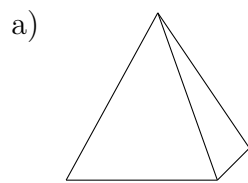
Vervollständige das Schrägbild, indem Du die fehlenden verdeckten Linien gestrichelt einzeichnest.





Aufgabe 4

Vervollständige das Schrägbild, indem Du die fehlenden verdeckten Linien gestrichelt einzeichnest.



Viel Erfolg!