

Arbeitsblatt

05.11.2019

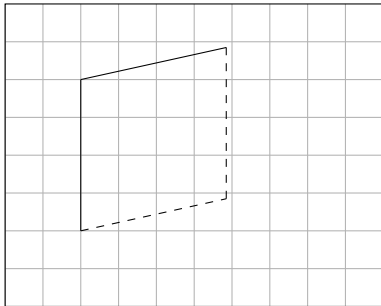
Kostenlos auf dw-aufgaben.de

Aufgaben-Quickname: 4520

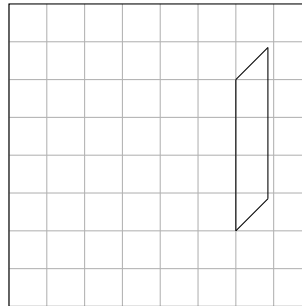
Aufgabe 1

Vervollständige das Schrägbild, indem Du die fehlenden Linien einzeichnest. Zeichne sichtbare Linien durchgehend, verdeckte Linien gestrichelt ein.

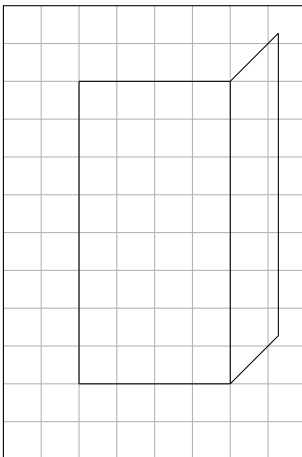
a) Körper: Ein Prisma



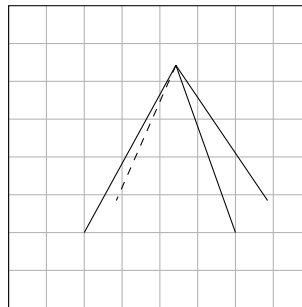
b) Körper: Ein Würfel



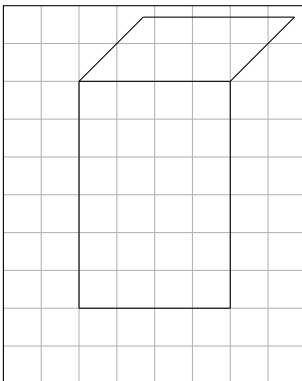
c) Körper: Ein Quader



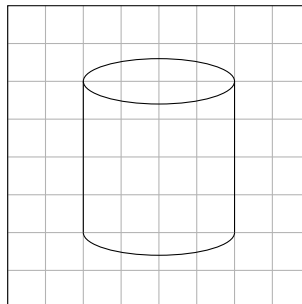
d) Körper: Eine Pyramide



e) Körper: Ein Quader



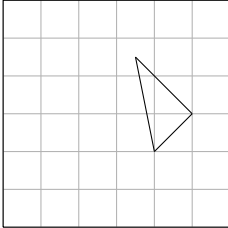
f) Körper: Ein Zylinder



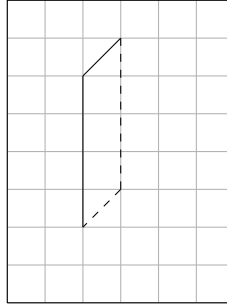
Aufgabe 2

Vervollständige das Schrägbild, indem Du die fehlenden Linien einzeichnest. Zeichne sichtbare Linien durchgehend, verdeckte Linien gestrichelt ein.

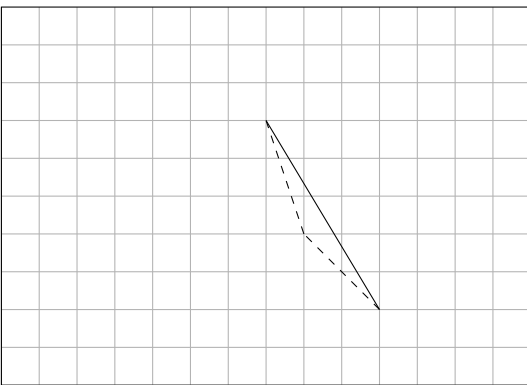
a) Körper: Eine Pyramide



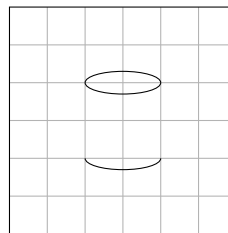
b) Körper: Ein Quader



c) Körper: Ein Tetraeder



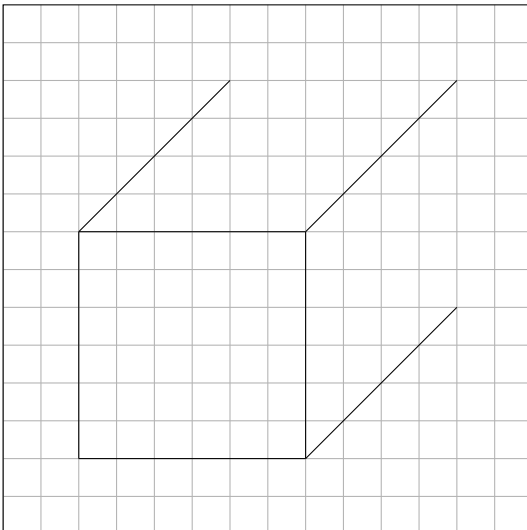
d) Körper: Ein Zylinder



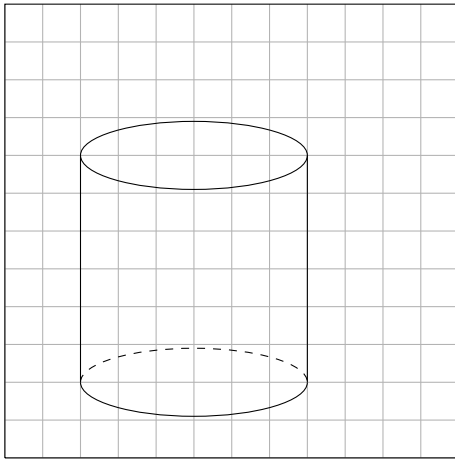
Aufgabe 3

Vervollständige das Schrägbild, indem Du die fehlenden Linien einzeichnest. Zeichne sichtbare Linien durchgehend, verdeckte Linien gestrichelt ein.

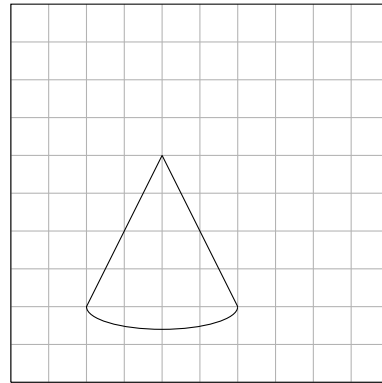
a) Körper: Ein Quader



b) Körper: Ein Zylinder

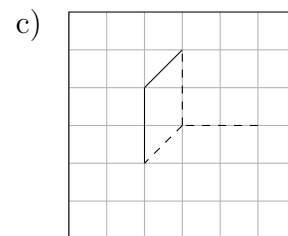
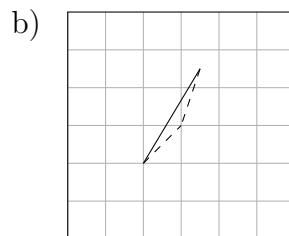
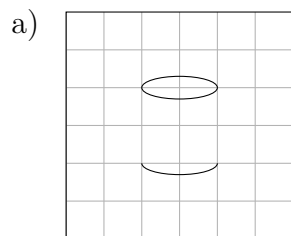


c) Körper: Ein Kegel



Aufgabe 4

Vervollständige das Schrägbild, indem Du die fehlenden Linien einzeichnest. Zeichne sichtbare Linien durchgehend, verdeckte Linien gestrichelt ein.



Viel Erfolg!