

Arbeitsblatt

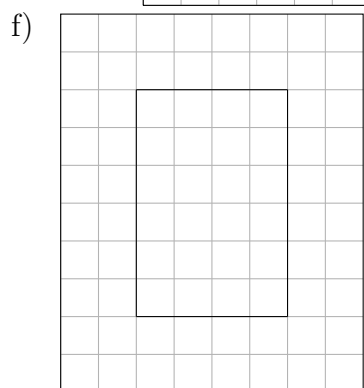
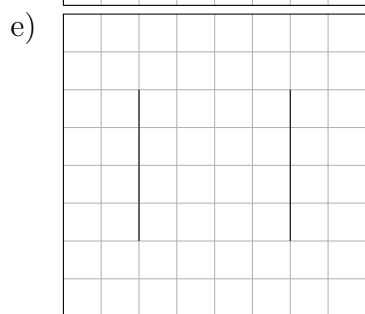
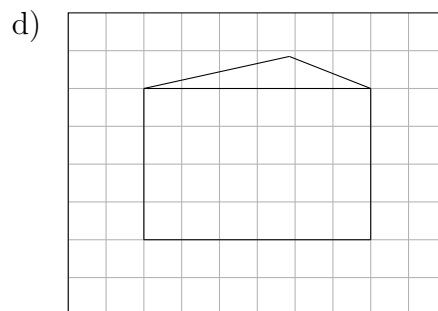
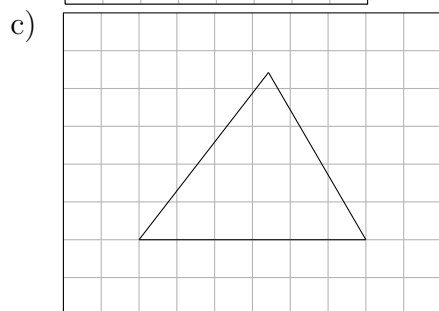
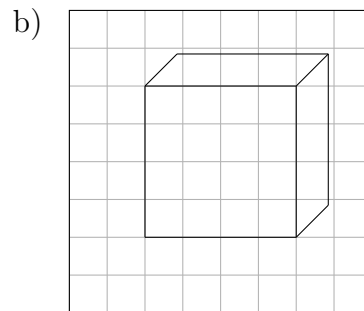
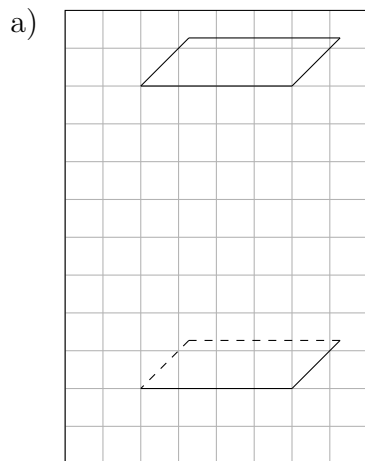
05.11.2019

Kostenlos auf dw-aufgaben.de

Aufgaben-Quickname: 4520

Aufgabe 1

Vervollständige das Schrägbild, indem Du die fehlenden Linien einzeichnest. Zeichne sichtbare Linien durchgehend, verdeckte Linien gestrichelt ein.

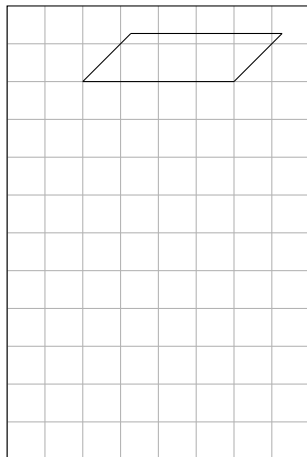


Aufgabe 2

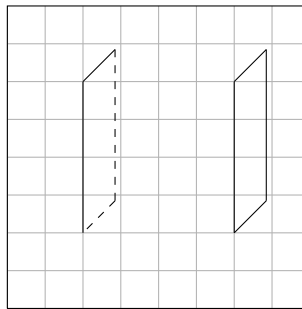
Vervollständige das Schrägbild, indem Du die fehlenden Linien einzeichnest. Zeichne

sichtbare Linien durchgehend, verdeckte Linien gestrichelt ein.


a) Körper: Ein Quader



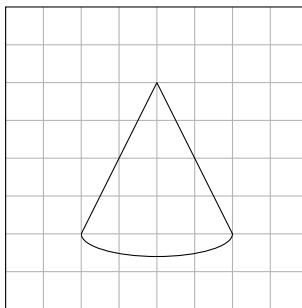
b) Körper: Ein Würfel



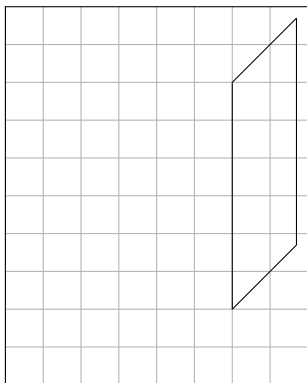
c) Körper: Ein Zylinder



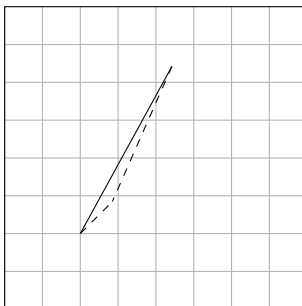
d) Körper: Ein Kegel



e) Körper: Ein Quader



f) Körper: Eine Pyramide

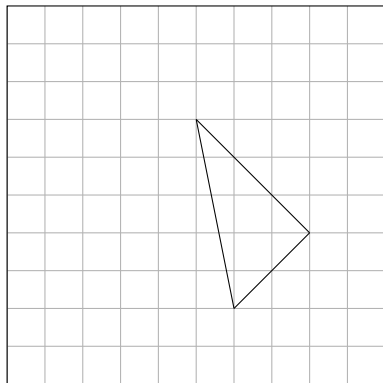


Aufgabe 3

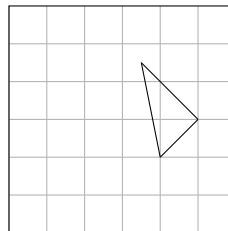
Vervollständige das Schrägbild, indem Du die fehlenden Linien einzeichnest. Zeichne

sichtbare Linien durchgehend, verdeckte Linien gestrichelt ein.

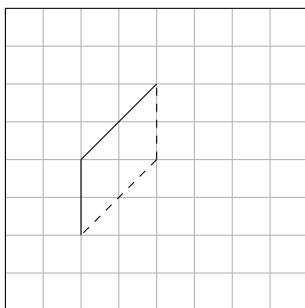
a) Körper: Eine Pyramide



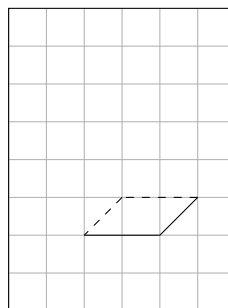
b) Körper: Eine Pyramide



c) Körper: Ein Quader



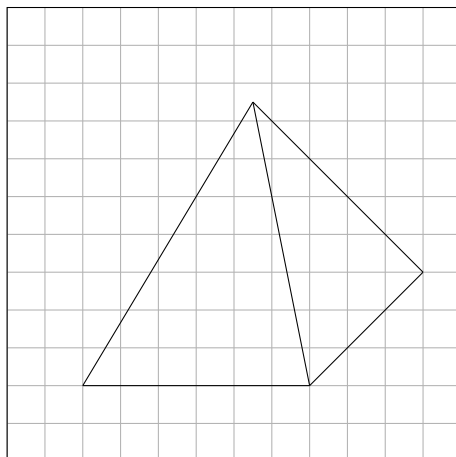
d) Körper: Ein Quader



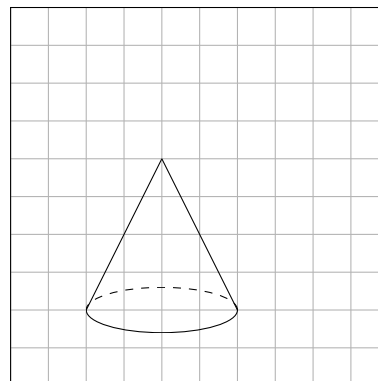
Aufgabe 4

Vervollständige das Schrägbild, indem Du die fehlenden Linien einzeichnest. Zeichne sichtbare Linien durchgehend, verdeckte Linien gestrichelt ein.

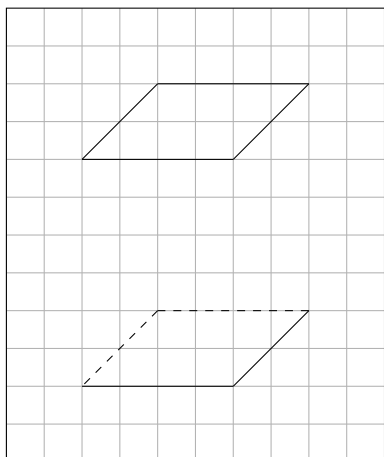
a) Körper: Eine Pyramide



b) Körper: Ein Kegel



c) Körper: Ein Quader



Viel Erfolg!