

Arbeitsblatt

25.02.2018

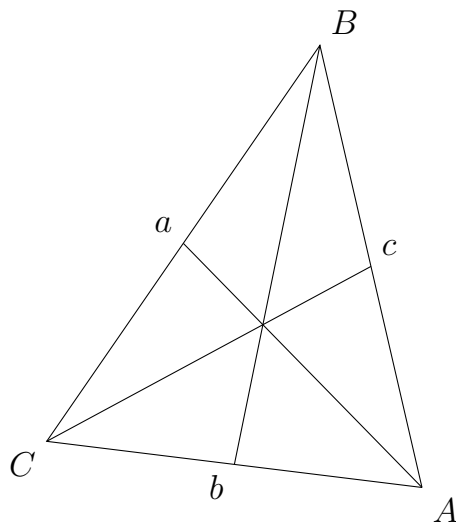
Kostenlos auf dw-aufgaben.de

Aufgaben-Quickname: 1432

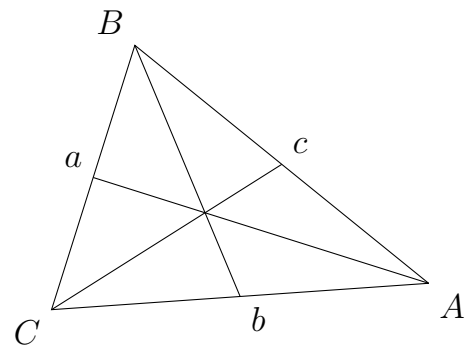
Aufgabe 1

Zeichne den Schwerpunkt S in das Dreieck ein.

a)



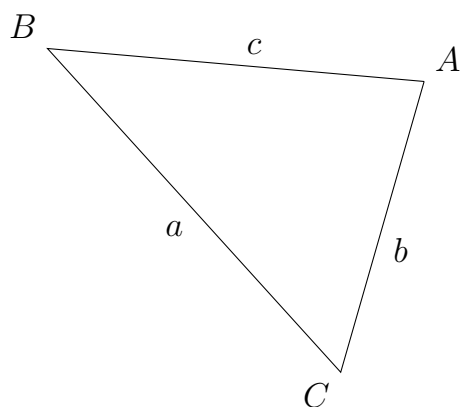
b)

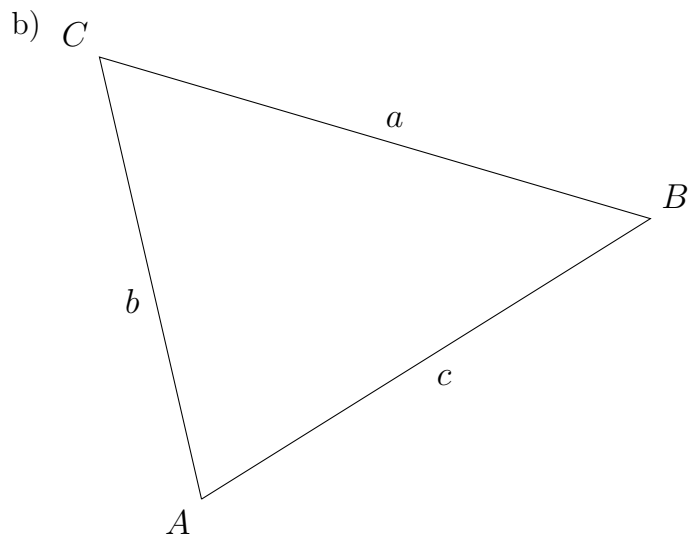


Aufgabe 2

Zeichne die Seitenhalbierenden und den Schwerpunkt S in das Dreieck ein.

a)





Aufgabe 3

Zeichne das zugehörige Dreieck, konstruiere die Seitenhalbierenden und zeichne den Schwerpunkt S ein.

- a) $a = 9,8$ cm, $b = 7$ cm, $c = 5$ cm b) $a = 10,3$ cm, $b = 5$ cm, $c = 8$ cm

Aufgabe 4

Zeichne das zugehörige Dreieck, konstruiere die Seitenhalbierenden und zeichne den Schwerpunkt S ein.

- a) $a = 11,1$ cm, $b = 8$ cm, $c = 5$ cm
b) $\beta = 57$ Grad, $a = 8,7$ cm, $\gamma = 57$ Grad

Viel Erfolg!