

Arbeitsblatt

25.02.2018

Kostenlos auf dw-aufgaben.de

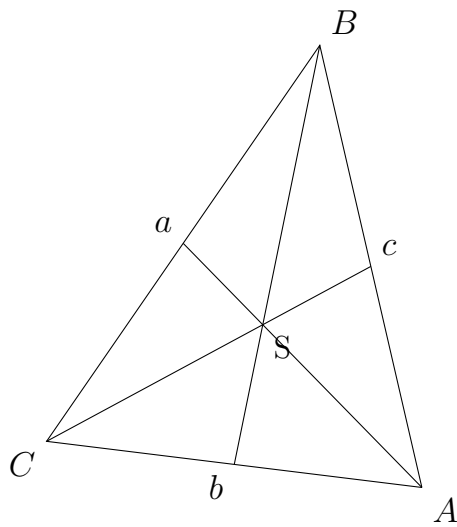
Aufgaben-Quickname: 1432

Aufgabe 1

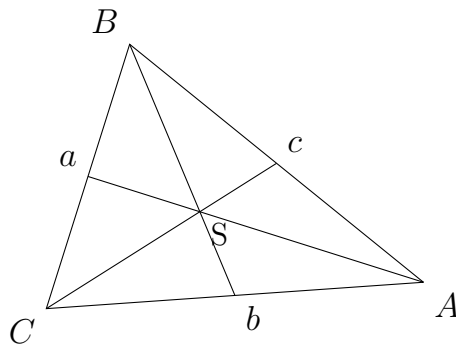
Zeichne den Schwerpunkt S in das Dreieck ein.

Quick:
1432

a)



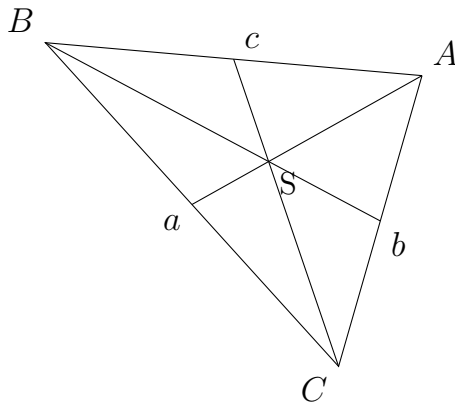
b)



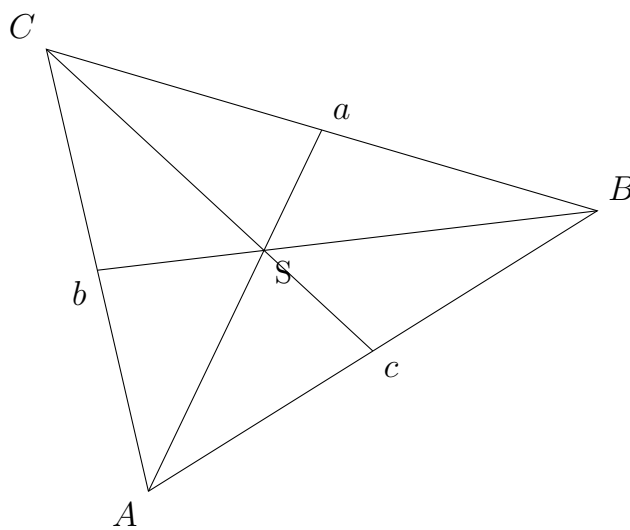
Aufgabe 2Quick:
1432

Zeichne die Seitenhalbierenden und den Schwerpunkt S in das Dreieck ein.

a)

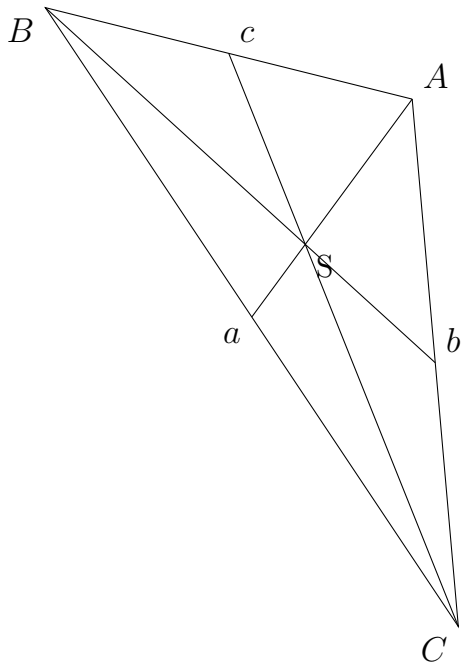


b)

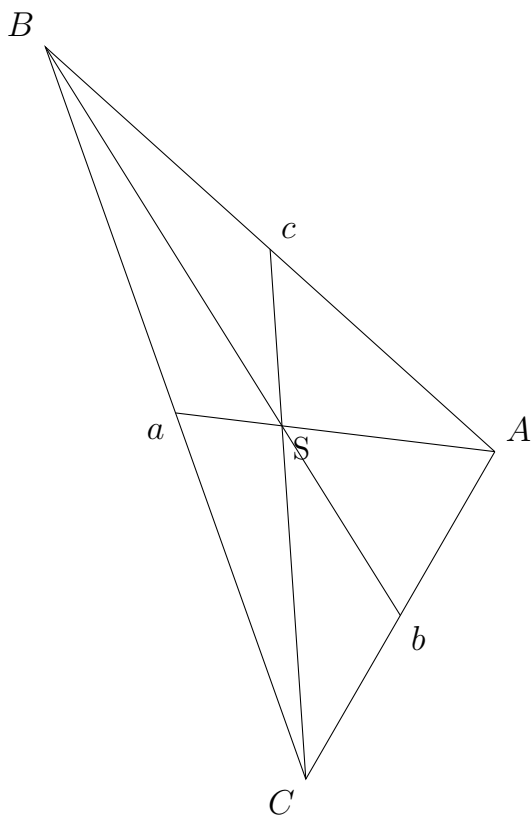
Aufgabe 3Quick:
1432

Zeichne das zugehörige Dreieck, konstruiere die Seitenhalbierenden und zeichne den Schwerpunkt S ein.

a) $a = 9,8 \text{ cm}$, $b = 7 \text{ cm}$, $c = 5 \text{ cm}$



b) $a = 10,3$ cm, $b = 5$ cm, $c = 8$ cm



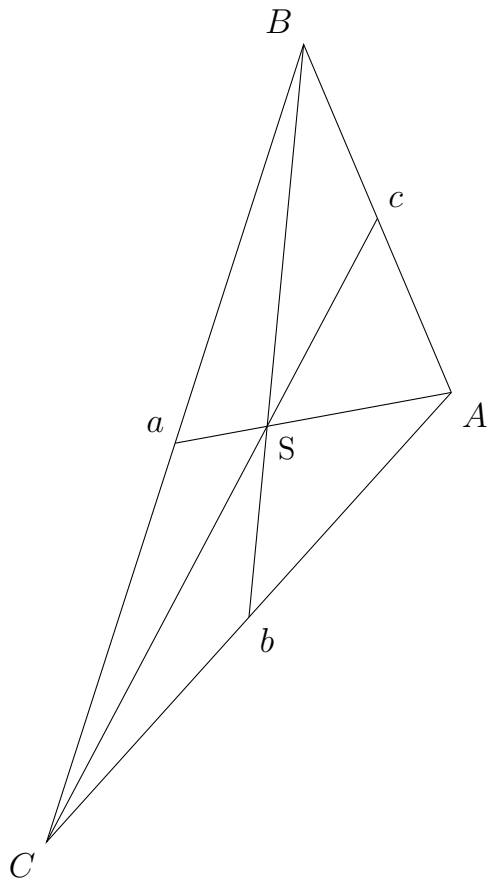
Aufgabe 4

Zeichne das zugehörige Dreieck, konstruiere die Seitenhalbierenden und zeichne den

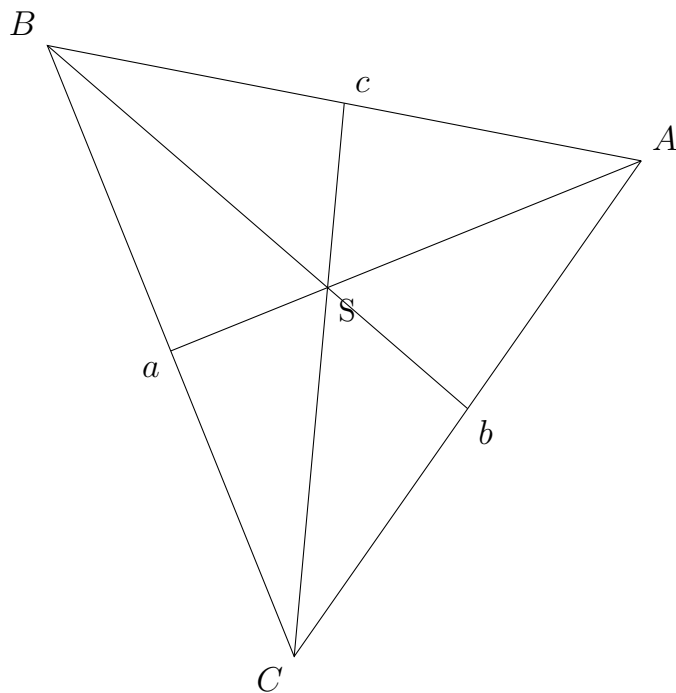
Quick:
1432

Schwerpunkt S ein.

a) $a = 11,1$ cm, $b = 8$ cm, $c = 5$ cm



b) $\beta = 57$ Grad, $a = 8,7$ cm, $\gamma = 57$ Grad



Viel Erfolg!