

# Arbeitsblatt

25.02.2018

Kostenlos auf [dw-aufgaben.de](http://dw-aufgaben.de)

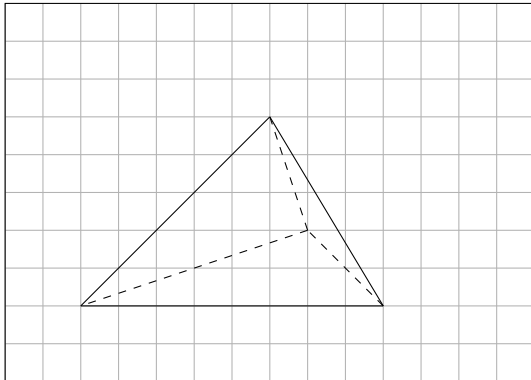
Aufgaben-Quickname: 6489

## Aufgabe 1

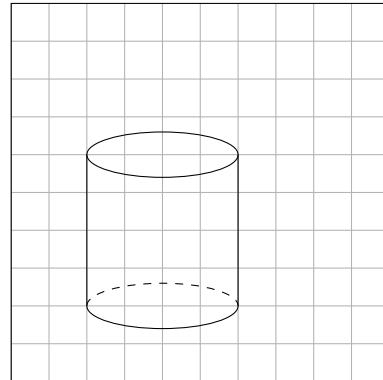
Quick:  
6489

Welcher geometrische Körper ist in dem Schrägbild dargestellt?

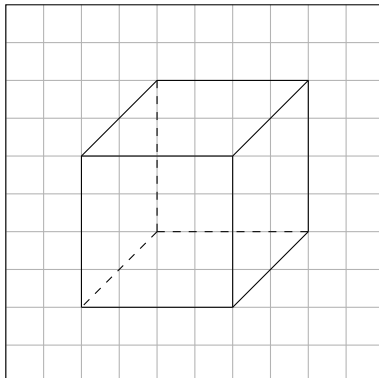
a) Körper: Ein Tetraeder



b) Körper: Ein Zylinder



c) Körper: Ein Würfel, damit auch ein Quader.

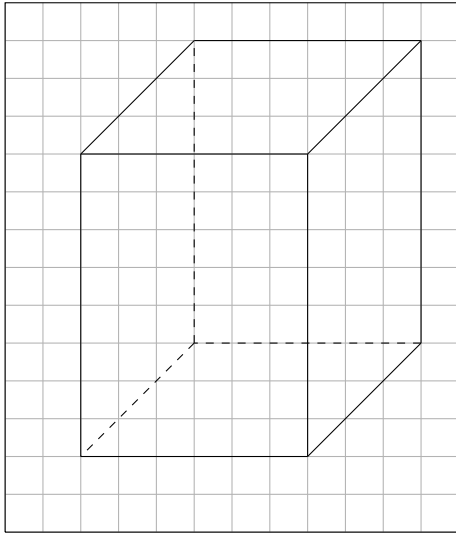


Aufgabe 2

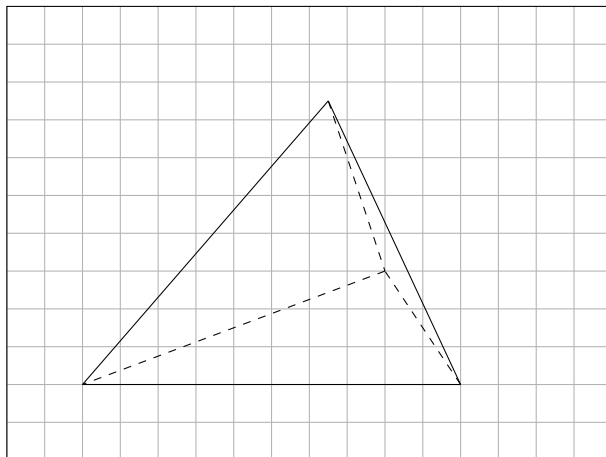
Quick:  
6489

Welcher geometrische Körper ist in dem Schrägbild dargestellt?

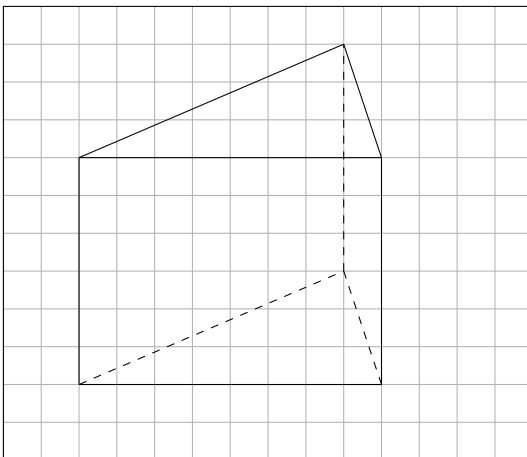
a) Körper: Ein Quader



b) Körper: Ein Tetraeder



c) Körper: Ein Prisma

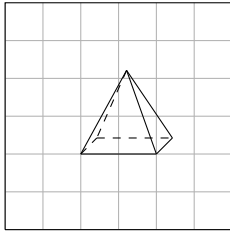


Aufgabe 3

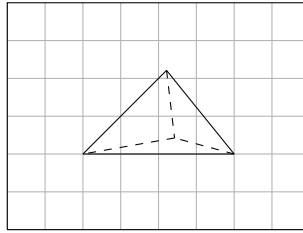
Quick:  
6489

Welcher geometrische Körper ist in dem Schrägbild dargestellt?

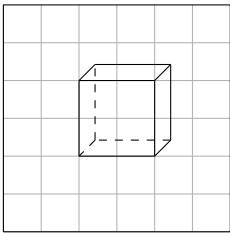
a) Körper: Eine Pyramide



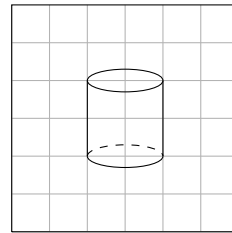
b) Körper: Ein Tetraeder



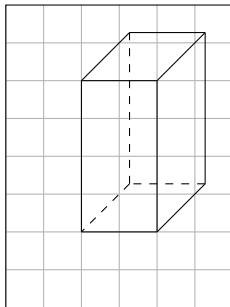
c) Körper: Ein Würfel, damit auch ein Quader.



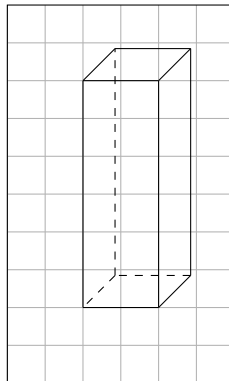
d) Körper: Ein Zylinder



e) Körper: Ein Quader



f) Körper: Ein Quader



Aufgabe 4

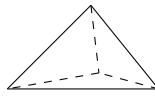
Quick:  
6489

Welcher geometrische Körper ist in dem Schrägbild dargestellt?

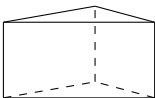
a) Körper: Eine Pyramide



b) Körper: Ein Tetraeder



c) Körper: Ein Prisma



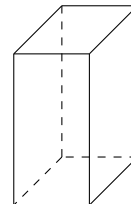
d) Körper: Ein Zylinder



e) Körper: Ein Würfel, damit auch ein Quader.



f) Körper: Ein Quader



Viel Erfolg!