

Arbeitsblatt

25.02.2018

Kostenlos auf dw-aufgaben.de

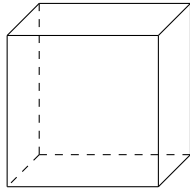
Aufgaben-Quickname: 6489

Aufgabe 1

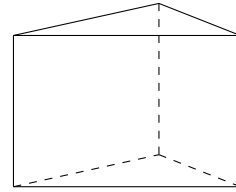
Quick:
6489

Welcher geometrische Körper ist in dem Schrägbild dargestellt?

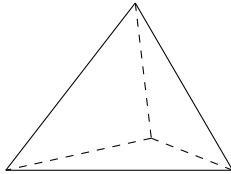
a) Körper: Ein Würfel, damit auch ein Quader.



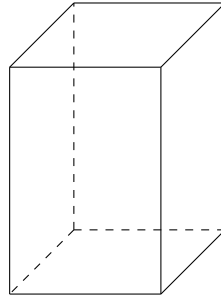
b) Körper: Ein Prisma



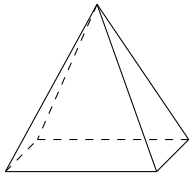
c) Körper: Ein Tetraeder



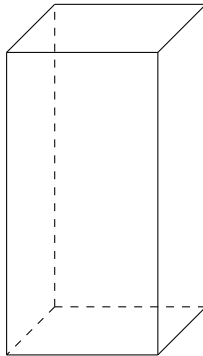
d) Körper: Ein Quader



e) Körper: Eine Pyramide



f) Körper: Ein Quader

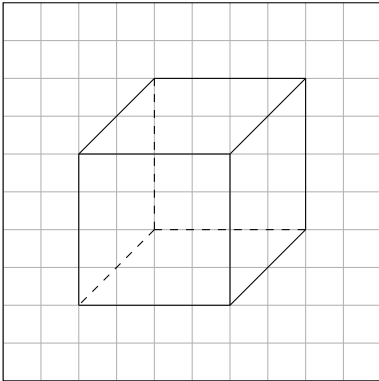


Aufgabe 2

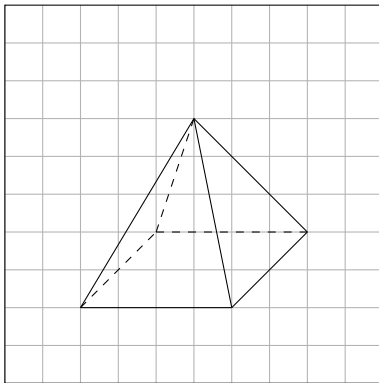
Quick:
6489

Welcher geometrische Körper ist in dem Schrägbild dargestellt?

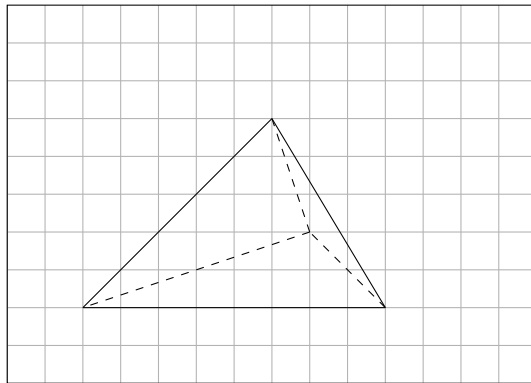
- a) Körper: Ein Würfel, damit auch ein Quader.



- b) Körper: Eine Pyramide



- c) Körper: Ein Tetraeder

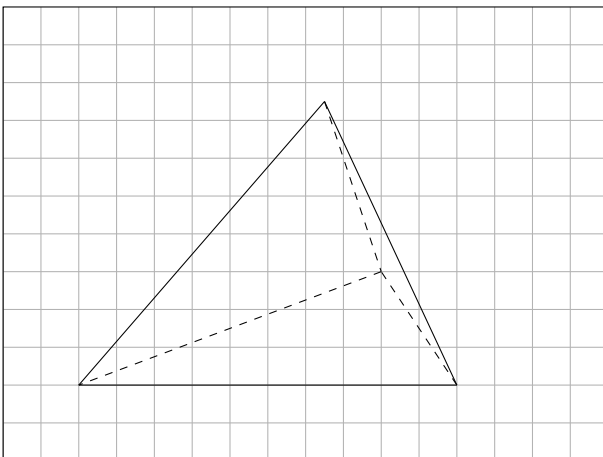


Aufgabe 3

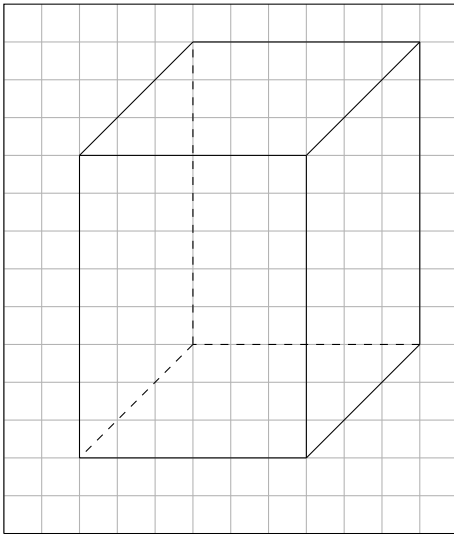
Quick:
6489

Welcher geometrische Körper ist in dem Schrägbild dargestellt?

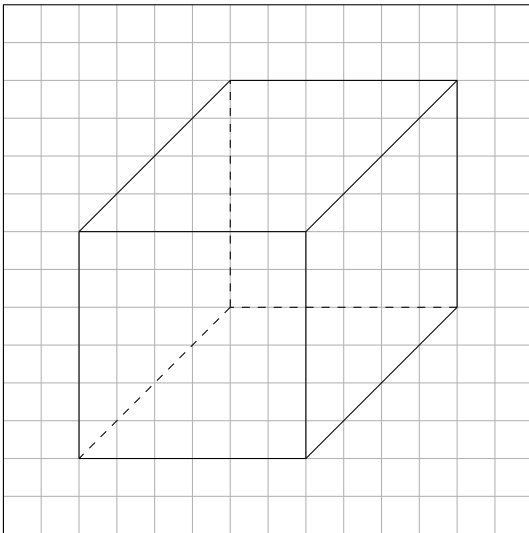
- a) Körper: Ein Tetraeder



b) Körper: Ein Quader



c) Körper: Ein Quader

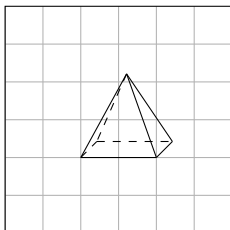


Aufgabe 4

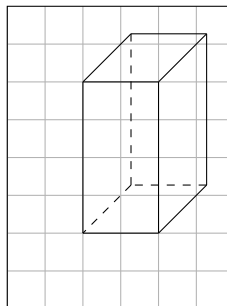
Welcher geometrische Körper ist in dem Schrägbild dargestellt?

Quick:
6489

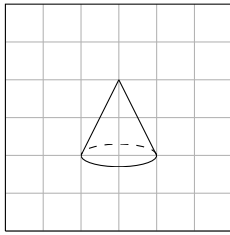
a) Körper: Eine Pyramide



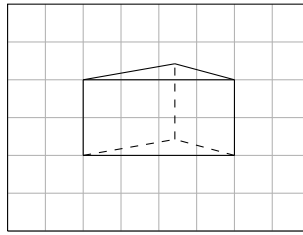
b) Körper: Ein Quader



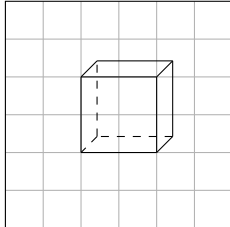
c) Körper: Ein Kegel



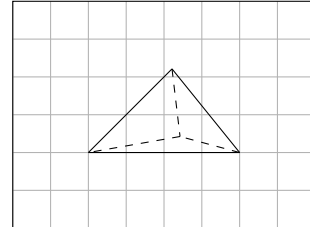
d) Körper: Ein Prisma



e) Körper: Ein Würfel, damit auch ein Quader.



f) Körper: Ein Tetraeder



Viel Erfolg!