

Arbeitsblatt

25.02.2018

Kostenlos auf dw-aufgaben.de

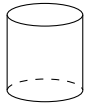
Aufgaben-Quickname: 6489

Aufgabe 1

Quick:
6489

Welcher geometrische Körper ist in dem Schrägbild dargestellt?

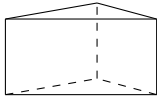
a) Körper: Ein Zylinder



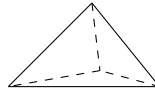
b) Körper: Eine Pyramide



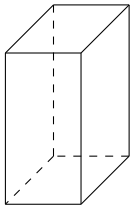
c) Körper: Ein Prisma



d) Körper: Ein Tetraeder



e) Körper: Ein Quader



f) Körper: Ein Kegel

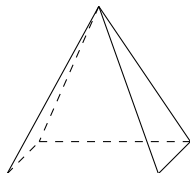


Aufgabe 2

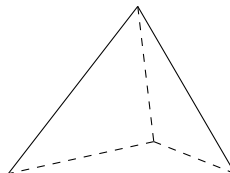
Quick:
6489

Welcher geometrische Körper ist in dem Schrägbild dargestellt?

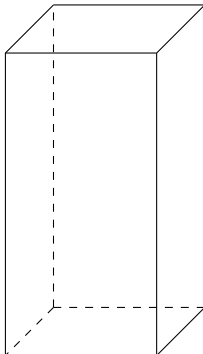
a) Körper: Eine Pyramide



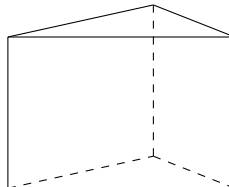
b) Körper: Ein Tetraeder



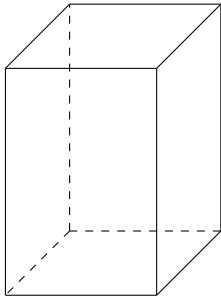
c) Körper: Ein Quader



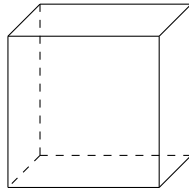
d) Körper: Ein Prisma



e) Körper: Ein Quader



f) Körper: Ein Würfel, damit auch ein Quader.

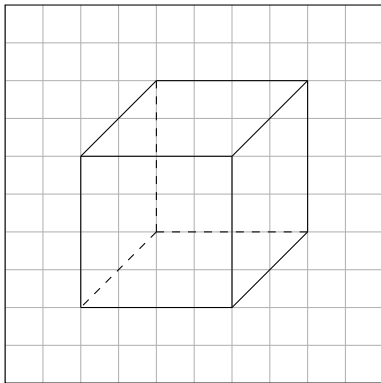


Aufgabe 3

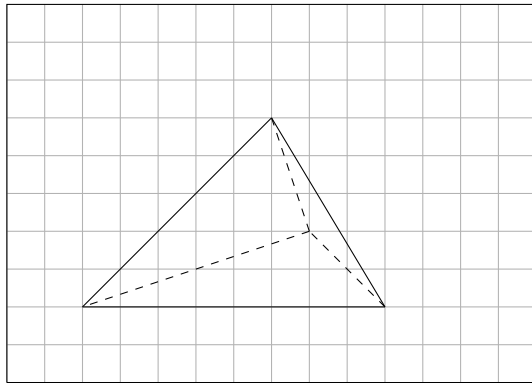
Welcher geometrische Körper ist in dem Schrägbild dargestellt?

Quick:
6489

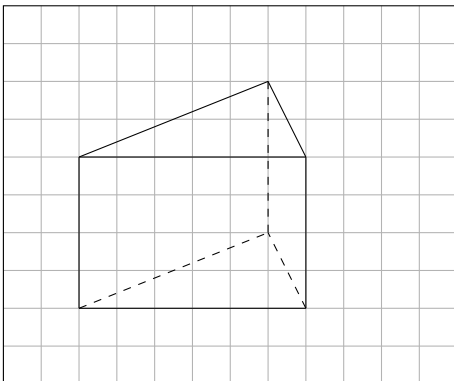
a) Körper: Ein Würfel, damit auch ein Quader.



b) Körper: Ein Tetraeder



c) Körper: Ein Prisma

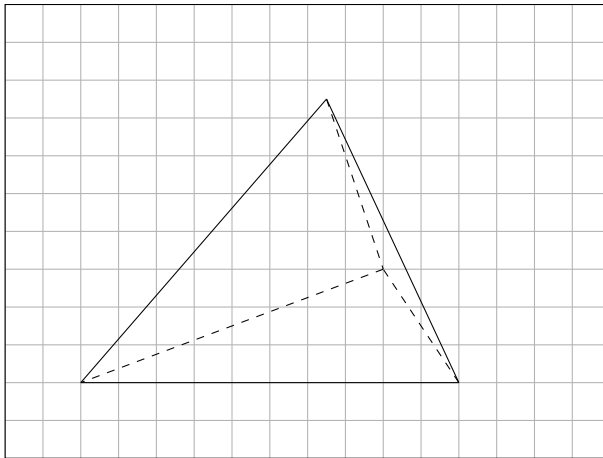


Aufgabe 4

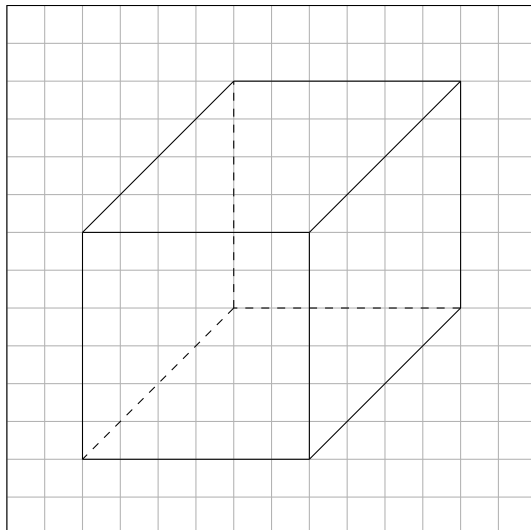
Quick:
6489

Welcher geometrische Körper ist in dem Schrägbild dargestellt?

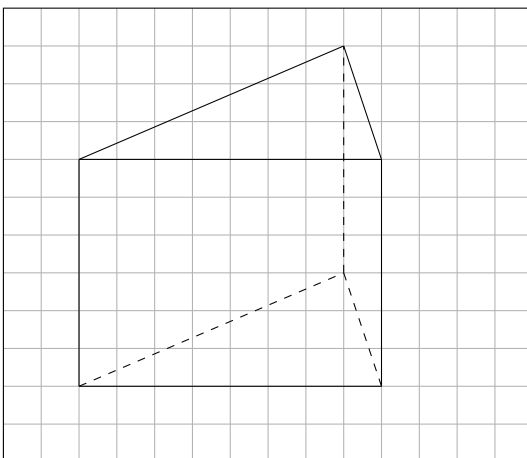
a) Körper: Ein Tetraeder



b) Körper: Ein Quader



c) Körper: Ein Prisma



Viel Erfolg!