

Arbeitsblatt

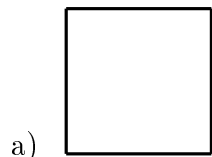
26.01.2014

Kostenlos auf dw-aufgaben.de


Aufgaben-Quickname: 3288

Aufgabe 1

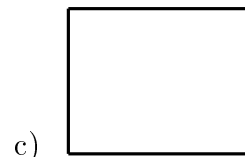
Um welche geometrische Figur handelt es sich hier?



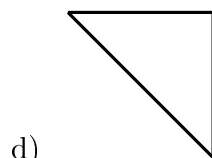
- ein Dreieck
- eine Ellipse
- ein Quadrat
- ein Kreis



- ein Rechteck
- ein Dreieck
- ein Kreis
- ein Quadrat




- ein Rechteck
- ein Kreis
- ein Dreieck
- eine Ellipse



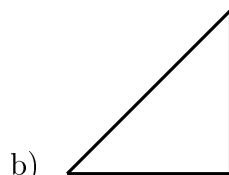
- ein Dreieck
- ein Kreis
- ein Quadrat
- eine Ellipse

Aufgabe 2

Um welche geometrische Figur handelt es sich hier?



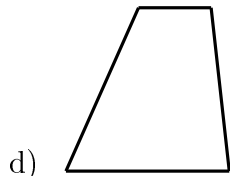
- eine Raute
- ein Dreieck
- ein Trapez
- ein Rechteck



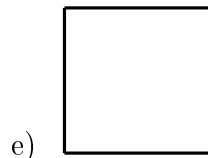
- eine Ellipse
- ein Rechteck
- ein Dreieck
- ein Kreis




- ein Rechteck
- eine Ellipse
- ein Quadrat
- eine Raute



- eine Raute
- ein Dreieck
- ein Trapez
- ein Rechteck



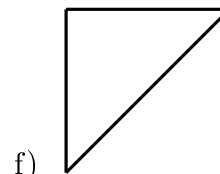

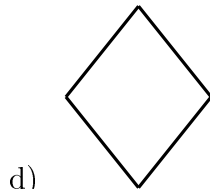
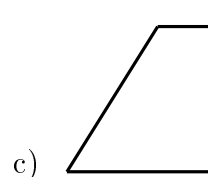
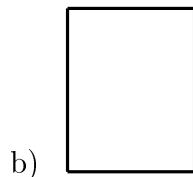

- eine Ellipse
- ein Kreis
- ein Quadrat
- ein Dreieck



- ein Parallelogramm
- ein Trapez
- eine Raute
- ein Kreis

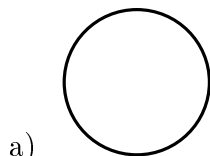
Aufgabe 3

Um welche geometrische Figur handelt es sich hier?



Aufgabe 4

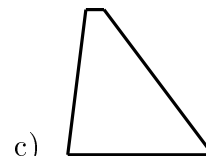
Um welche geometrische Figur handelt es sich hier?



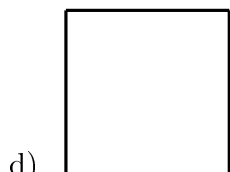
- ein Rechteck
- ein Kreis
- ein Trapez
- ein Dreieck



- ein Quadrat
- ein Rechteck
- ein Trapez
- ein Kreis



- eine Raute
- ein Rechteck
- ein Trapez
- eine Ellipse



- ein Parallelogramm
- eine Raute
- ein Rechteck
- ein Quadrat

Viel Erfolg!