

# Arbeitsblatt

25.02.2018

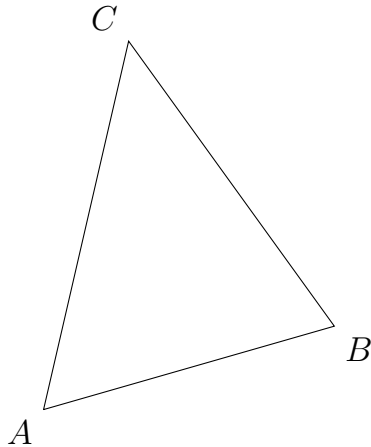
Kostenlos auf [dw-aufgaben.de](http://dw-aufgaben.de)

Aufgaben-Quickname: 4571

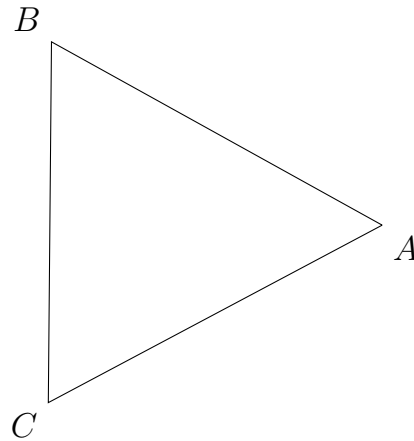
## Aufgabe 1

Zeichne in das Dreieck die entsprechenden Elemente ein.

a) Die Seitenhalbierende  $s_a$ :



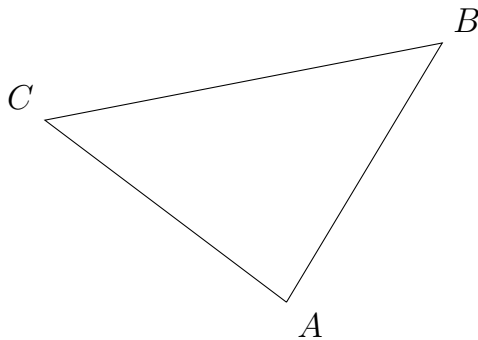
b) Die Seitenhalbierende  $s_b$ :



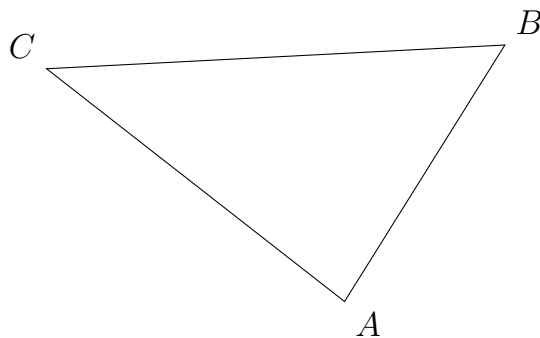
## Aufgabe 2

Zeichne in das Dreieck die entsprechenden Elemente ein.

a) Die Mittelsenkrechte von a:



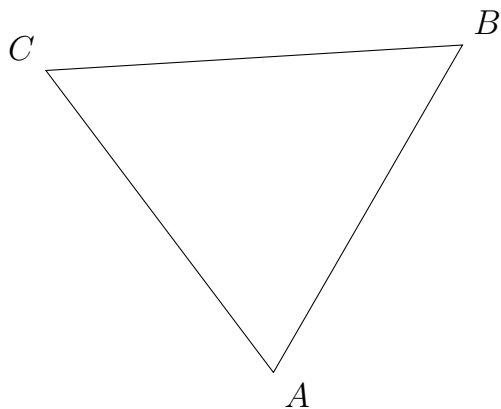
b) Die Mittelsenkrechte von b:



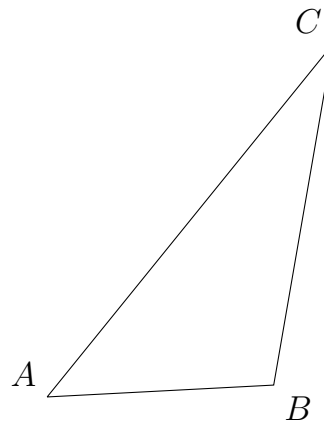
### Aufgabe 3

Zeichne in das Dreieck die entsprechenden Elemente ein.

a) Die Seitenhalbierende  $s_b$ :



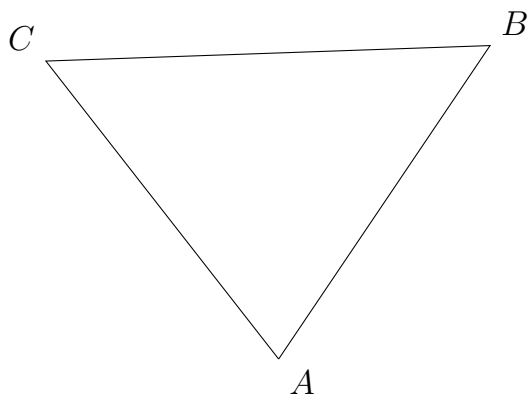
b) Die Höhe  $h_a$ :



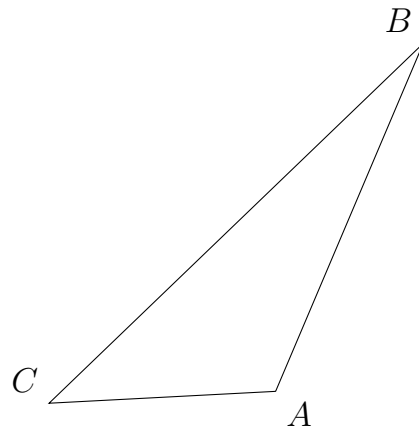
### Aufgabe 4

Zeichne in das Dreieck die entsprechenden Elemente ein.

a) Die Höhe  $h_b$ :



b) Die Mittelsenkrechte von c:



Viel Erfolg!