

Arbeitsblatt

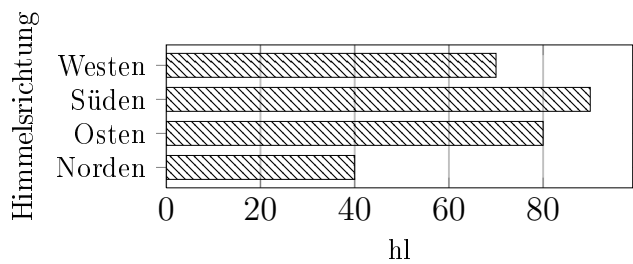
28.07.2013

Kostenlos auf dw-aufgaben.de

Aufgaben-Quickname: 5058

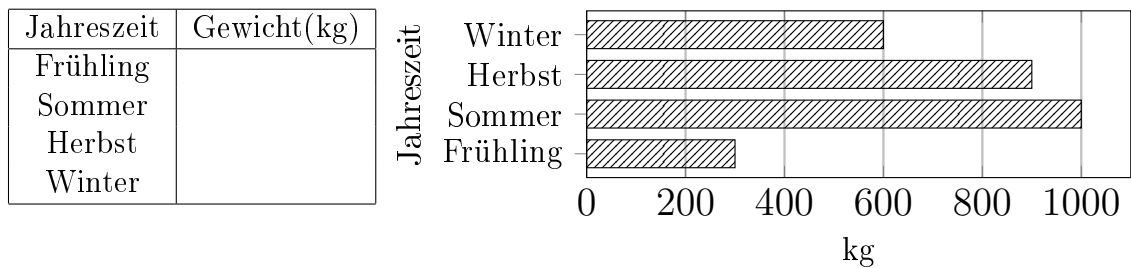
Aufgabe 1

Erstelle zu diesem Balkendiagramm eine Tabelle mit den Werten aus dem Diagramm.



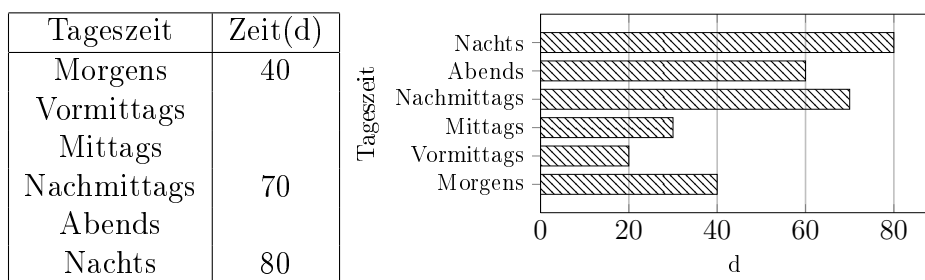
Aufgabe 2

Vervollständige die Tabelle mit den Werten aus dem Diagramm.



Aufgabe 3

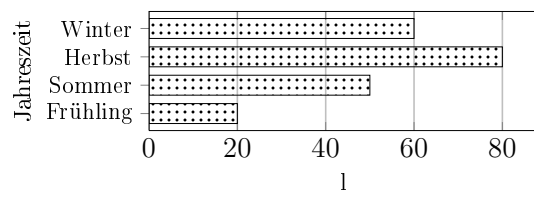
Vervollständige die Tabelle mit den Werten aus dem Diagramm.



Aufgabe 4

Vervollständige die Tabelle mit den Werten aus dem Diagramm.

Jahreszeit	Menge(l)
Frühling	80
Sommer	
Herbst	
Winter	



Viel Erfolg!