

Arbeitsblatt




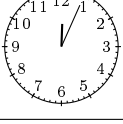
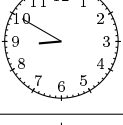

28.01.2014

Kostenlos auf dw-aufgaben.de

Aufgaben-Quickname: 5166

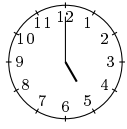
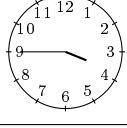
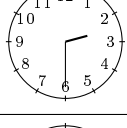
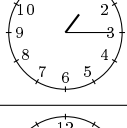
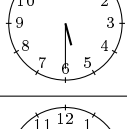
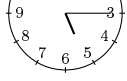
Aufgabe 1

Ordne die Ziffernblätter der richtigen Zeitangabe zu.

Uhrdarstellung			Zeitangabe
	A	1	vier Minuten nach Zwölf
	B	2	zehn vor Neun
	C	3	elf nach Sechs
	D	4	neunundzwanzig Minuten vor Neun
	E	5	zwei nach halb Zehn
	F	6	siebzehn nach Eins

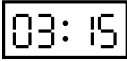

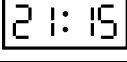

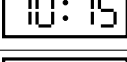

Aufgabe 2

Ordne die Ziffernblätter der richtigen Zeitangabe zu.

Uhrdarstellung			Zeitangabe
	A	1	halb Sechs
	B	2	viertel nach Eins
	C	3	Fünf
	D	4	viertel nach Fünf
	E	5	viertel vor Vier
	F	6	halb Drei

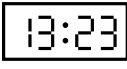
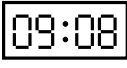
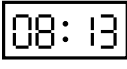
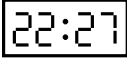
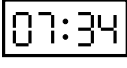
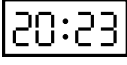
Aufgabe 3

Ordne die Zeitanzeigen der richtigen Zeitangabe zu.

Uhrdarstellung			Zeitangabe
	A	1	viertel nach Zehn
	B	2	viertel nach Drei
	C	3	viertel vor Elf
	D	4	halb Eins
	E	5	viertel nach Neun
	F	6	halb Elf

Aufgabe 4

Ordne die Zeitanzeigen der richtigen Zeitangabe zu.

Uhrdarstellung			Zeitangabe
	A	1	drei vor halb Elf
	B	2	sechszwanzig Minuten vor Acht
	C	3	dreiundzwanzig Minuten nach Acht
	D	4	acht Minuten nach Neun
	E	5	dreizehn nach Acht
	F	6	sieben vor halb Zwei

Viel Erfolg!