

Arbeitsblatt

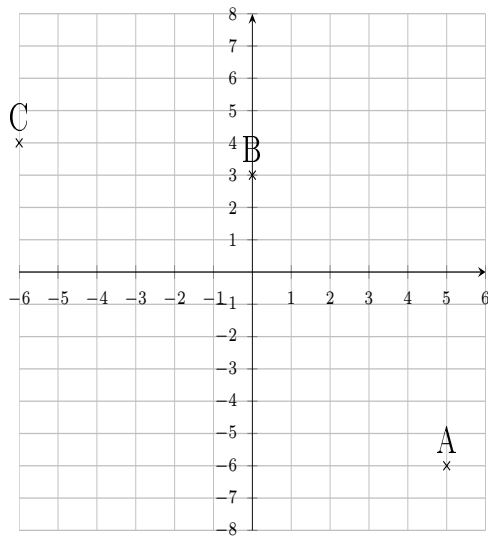
31.12.2013

Kostenlos auf dw-aufgaben.de

Aufgaben-Quickname: 6381

Aufgabe 1

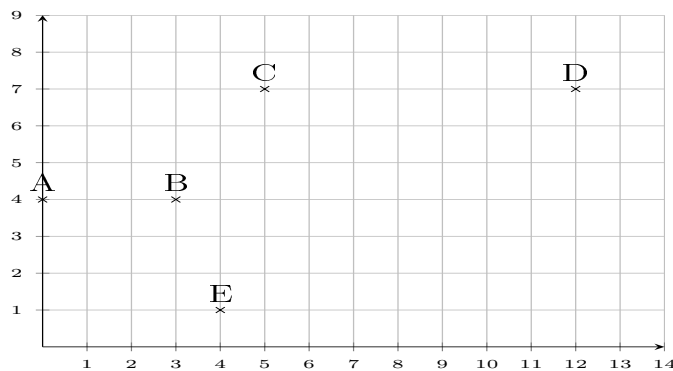
Welcher Punkt gehört zu welchem Koordinatenpaar? Trage die Buchstaben richtig ein.

Quick:
6381

A	C	B
(5 -6)	(-6 4)	(0 3)

Aufgabe 2

Welcher Punkt gehört zu welchem Koordinatenpaar? Trage die Buchstaben richtig ein.

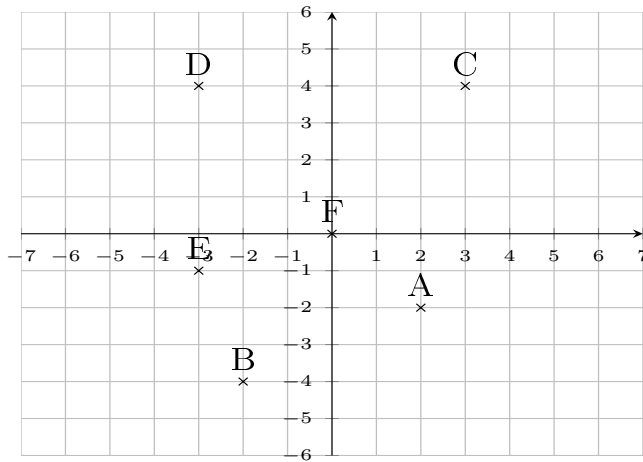
Quick:
6381

D	C	B	E	A
(12 7)	(5 7)	(3 4)	(4 1)	(0 4)

Aufgabe 3

Quick:
6381

Welcher Punkt gehört zu welchem Koordinatenpaar? Trage die Buchstaben richtig ein.

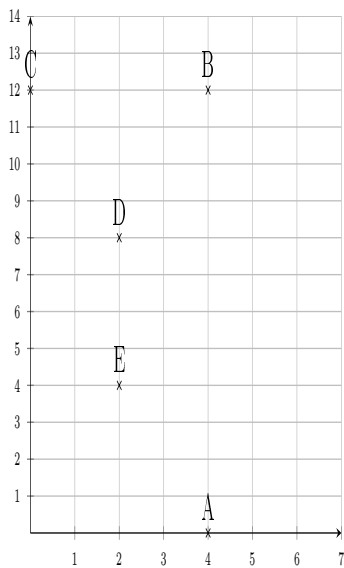


C	B	E	D	F	A
(3 4)	(-2 -4)	(-3 -1)	(-3 4)	(0 0)	(2 -2)

Aufgabe 4

Quick:
6381

Welcher Punkt gehört zu welchem Koordinatenpaar? Trage die Buchstaben richtig ein.



A	B	E	C	D
(4 0)	(4 12)	(2 4)	(0 12)	(2 8)

Viel Erfolg!