

Arbeitsblatt

29.01.2016

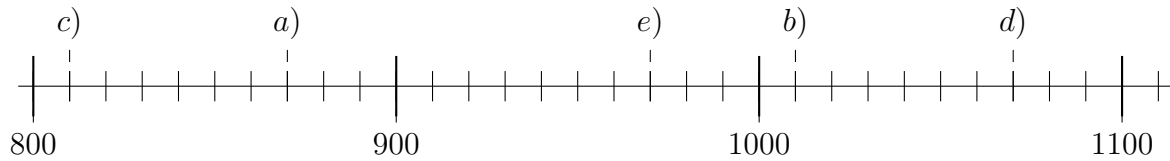
Kostenlos auf dw-aufgaben.de

Aufgaben-Quickname: 7730

Aufgabe 1

Quick:
7730

Welche Zahlen sind am Zahlenstrahl eingezeichnet?

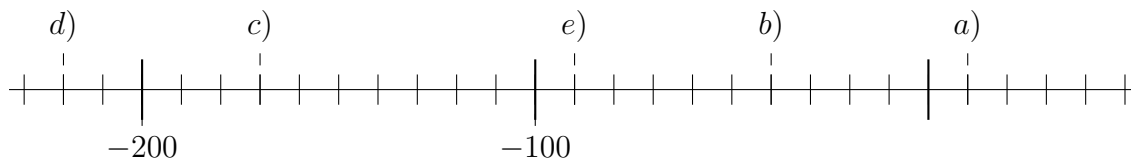


a)= 870 b)= 1010 c)= 810 d)= 1070 e)= 970

Aufgabe 2

Quick:
7730

Welche Zahlen sind am Zahlenstrahl eingezeichnet?

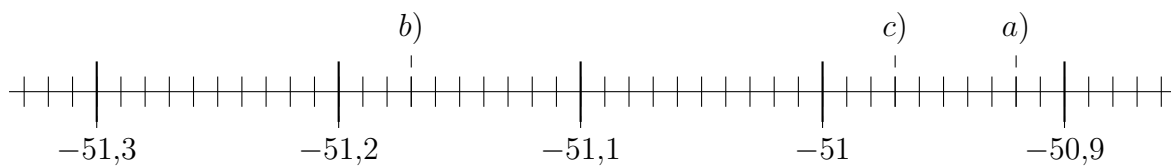


a)= 10 b)= -40 c)= -170 d)= -220 e)= -90

Aufgabe 3

Quick:
7730

Welche Zahlen sind am Zahlenstrahl eingezeichnet?

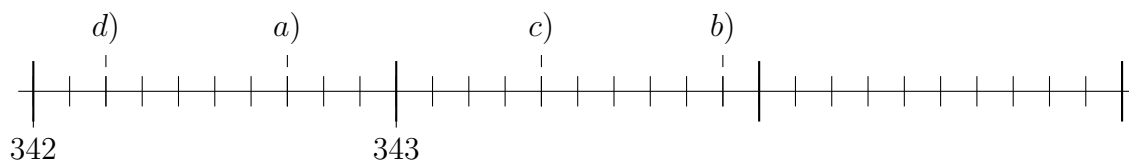


a)= -50,92 b)= -51,17 c)= -50,97

Aufgabe 4

Quick:
7730

Welche Zahlen sind am Zahlenstrahl eingezeichnet?



a)= 342,7 b)= 343,9 c)= 343,4 d)= 342,2

Viel Erfolg!