

# Arbeitsblatt

12.06.2015

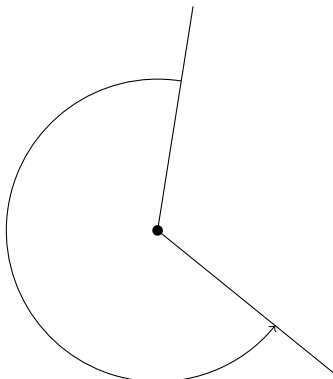
Kostenlos auf [dw-aufgaben.de](http://dw-aufgaben.de)

Aufgaben-Quickname: 3113

## Aufgabe 1

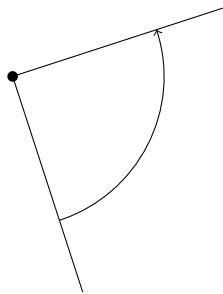
Um was für einen Winkel handelt es sich? Kreuze an!

a)



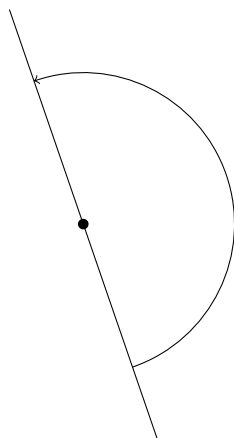
- überstumpfer Winkel
- gestreckter Winkel
- Nullwinkel

b)



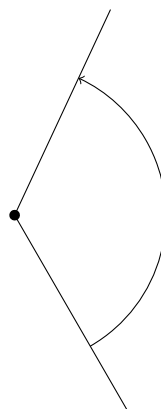
- spitzer Winkel
- rechter Winkel
- stumpfer Winkel

c)



- stumpfer Winkel
- spitzer Winkel
- gestreckter Winkel

d)

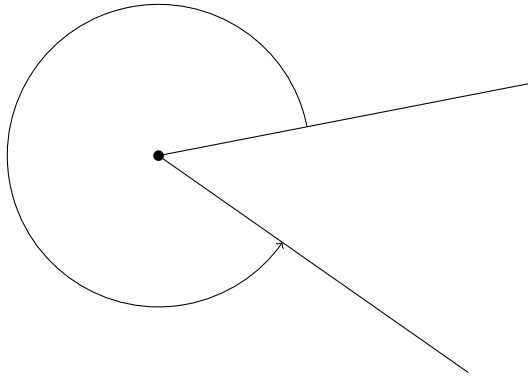


- rechter Winkel
- stumpfer Winkel
- spitzer Winkel

## Aufgabe 2

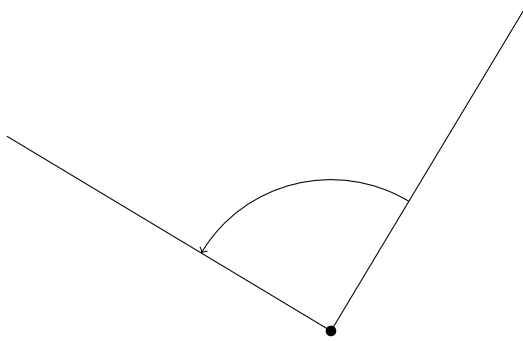
Um was für einen Winkel handelt es sich? Kreuze an!

a)



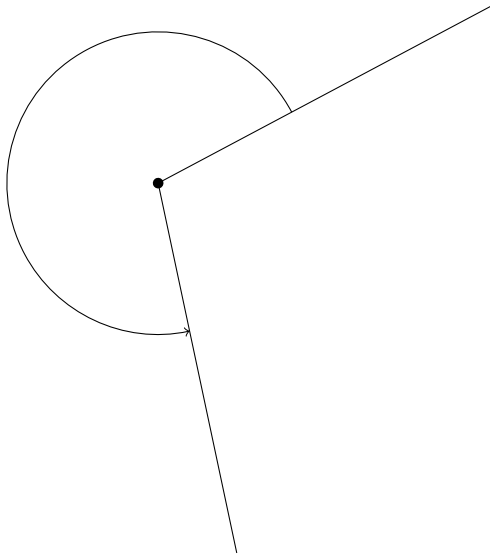
- rechter Winkel
- spitzer Winkel
- überstumpfer Winkel

b)



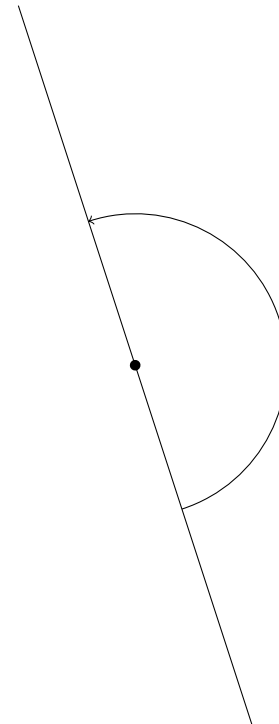
- stumpfer Winkel
- spitzer Winkel
- rechter Winkel

c)



- gestreckter Winkel
- überstumpfer Winkel
- rechter Winkel

d)

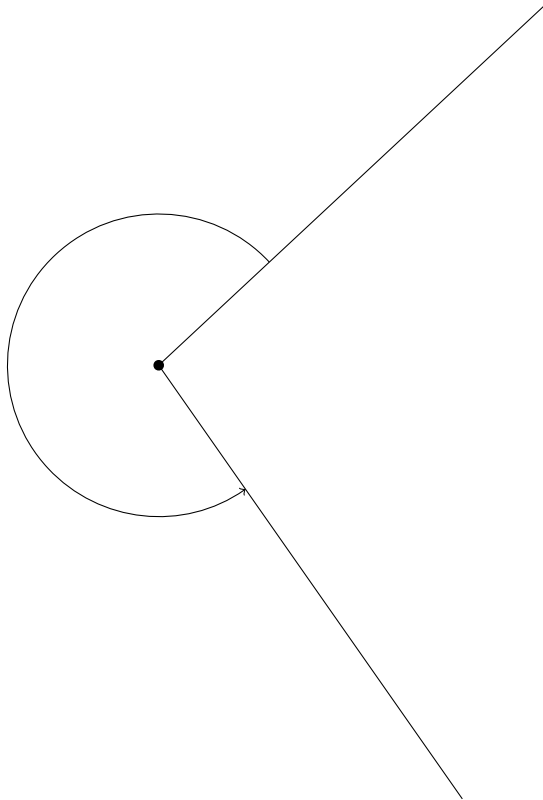


- spitzer Winkel
- gestreckter Winkel
- stumpfer Winkel

### Aufgabe 3

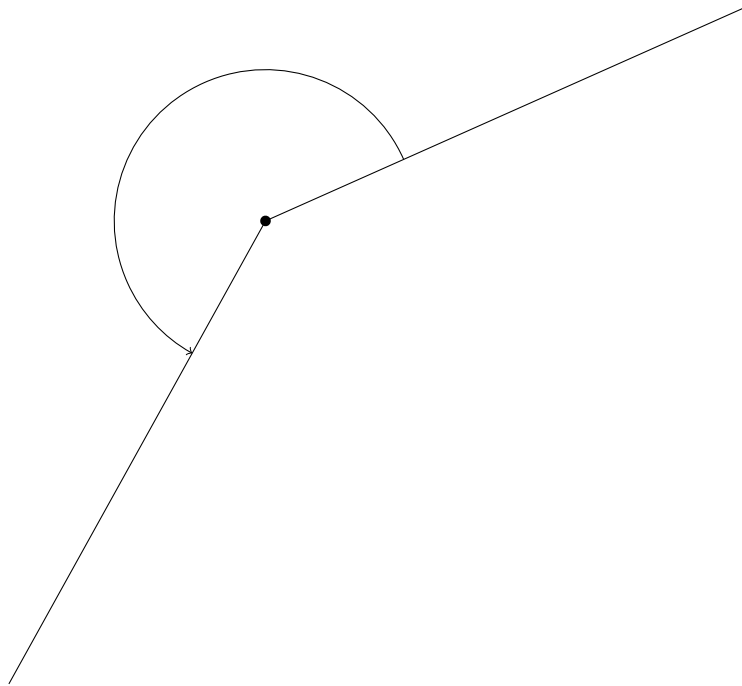
Um was für einen Winkel handelt es sich? Kreuze an!

a)



- überstumpfer Winkel
- stumpfer Winkel
- rechter Winkel

b)

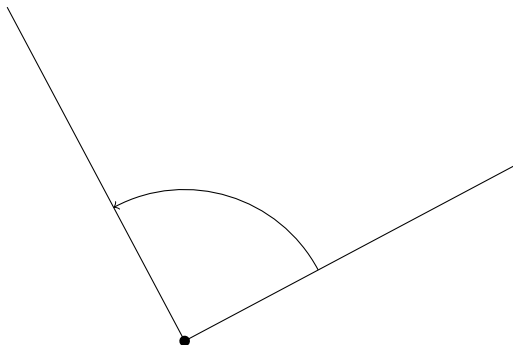


- stumpfer Winkel
- rechter Winkel
- überstumpfer Winkel

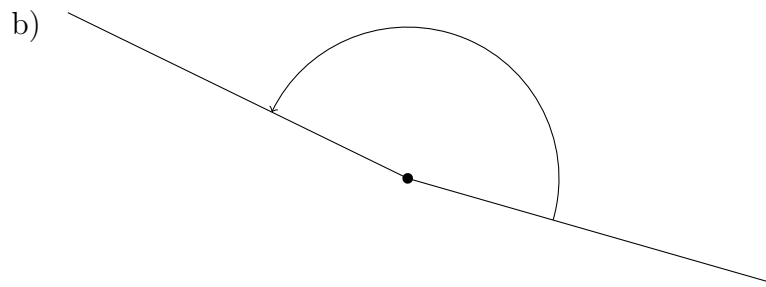
#### Aufgabe 4

Um was für einen Winkel handelt es sich? Kreuze an!

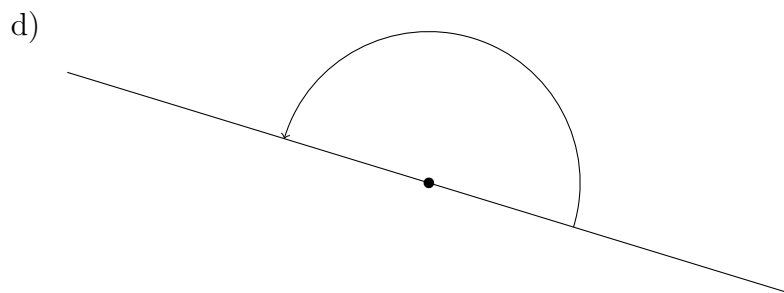
a)



- rechter Winkel
- gestreckter Winkel
- überstumpfer Winkel

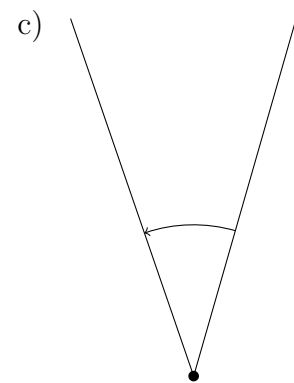


- rechter Winkel
- gestreckter Winkel
- stumpfer Winkel



- gestreckter Winkel
- rechter Winkel
- stumpfer Winkel

Viel Erfolg!



- rechter Winkel
- spitzer Winkel
- stumpfer Winkel