

Arbeitsblatt

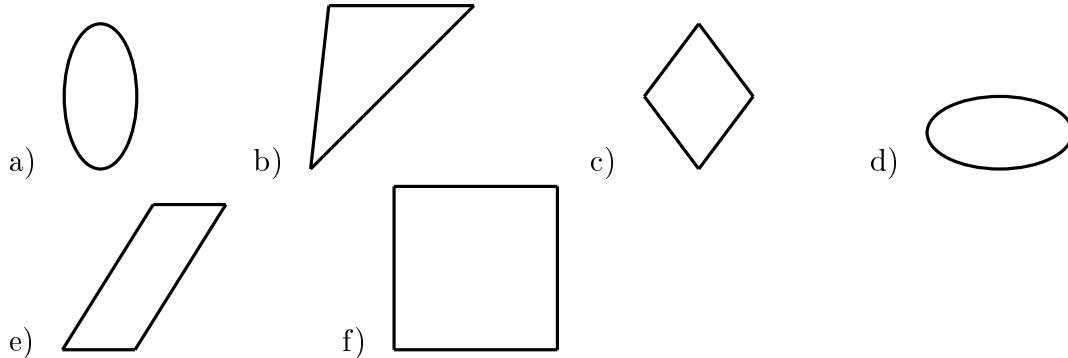
26.01.2014

Kostenlos auf dw-aufgaben.de

Aufgaben-Quickname: 3288

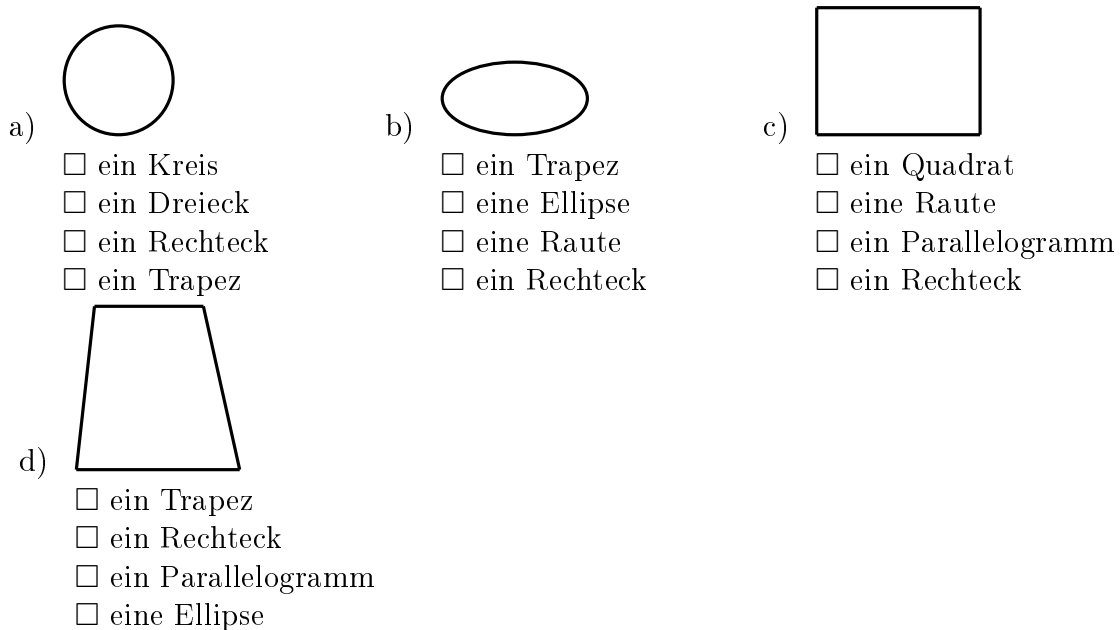
Aufgabe 1

Um welche geometrische Figur handelt es sich hier?



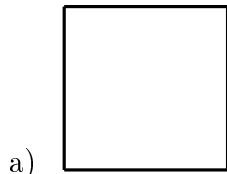
Aufgabe 2

Um welche geometrische Figur handelt es sich hier?

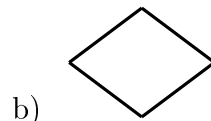


Aufgabe 3

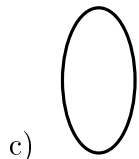
Um welche geometrische Figur handelt es sich hier? Mehrere Antworten sind möglich.



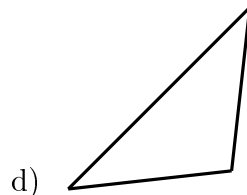
- ein Rechteck
- ein Trapez
- eine Ellipse
- ein Quadrat



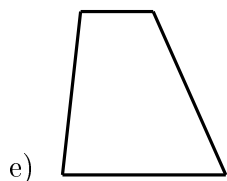
- ein Rechteck
- ein Dreieck
- eine Raute
- ein Parallelogramm



- eine Ellipse
- ein Trapez
- ein Rechteck
- ein Parallelogramm



- eine Raute
- ein Quadrat
- ein Kreis
- ein Dreieck



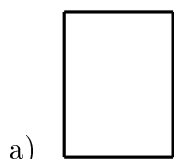
- eine Raute
- ein Parallelogramm
- ein Dreieck
- ein Trapez



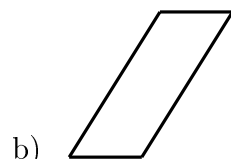
- ein Rechteck
- ein Kreis
- ein Parallelogramm
- eine Ellipse

Aufgabe 4

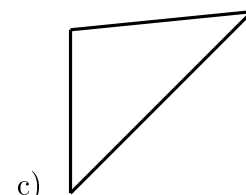
Um welche geometrische Figur handelt es sich hier?



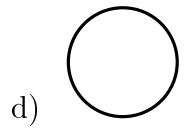
- ein Rechteck
- ein Dreieck
- eine Ellipse
- ein Trapez



- ein Parallelogramm
- ein Trapez
- ein Dreieck
- eine Ellipse



- ein Rechteck
- eine Ellipse
- ein Quadrat
- ein Dreieck



- ein Quadrat
- ein Kreis
- ein Rechteck
- ein Parallelogramm

Viel Erfolg!