

# Arbeitsblatt

26.02.2015

Kostenlos auf [dw-aufgaben.de](http://dw-aufgaben.de)

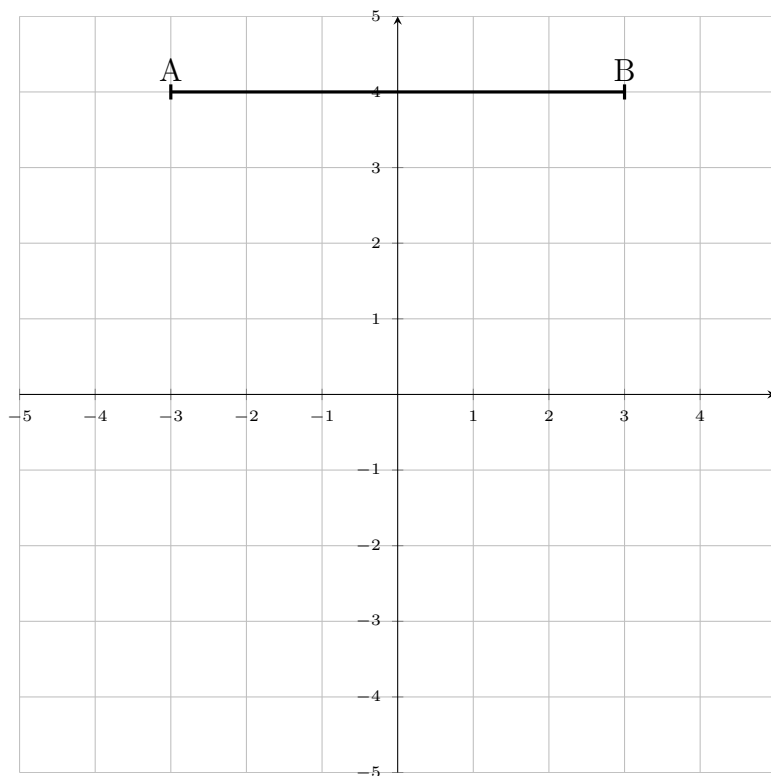
Aufgaben-Quickname: 3912

## Aufgabe 1

Miss die Länge der Strecke auf einen Millimeter genau.

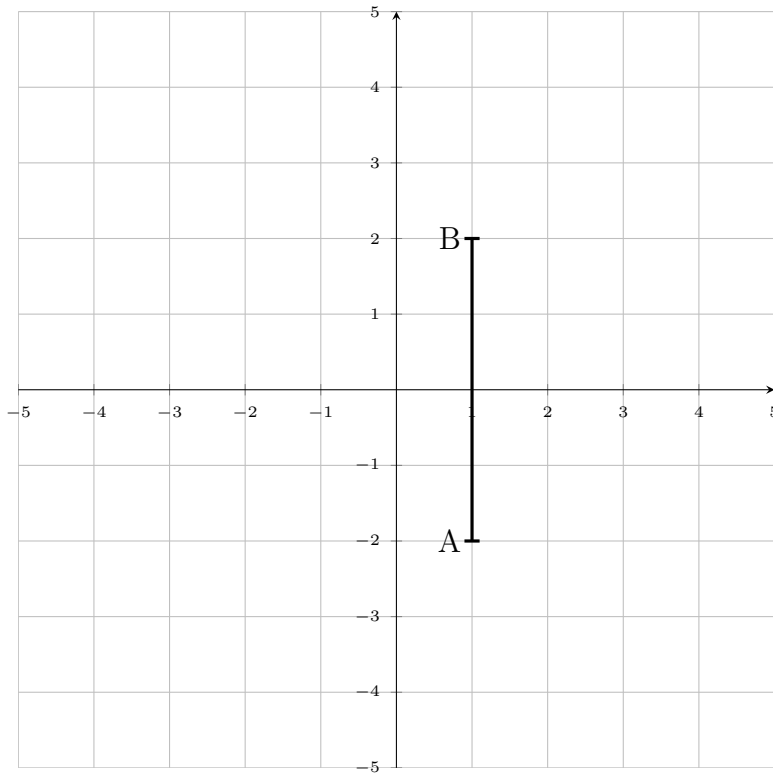
Quick:  
3912

a)



Länge der Strecke: 6cm

b)



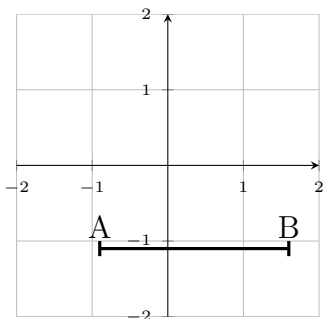
Länge der Strecke: 4cm

Aufgabe 2

Miss die Länge der Strecke auf einen Millimeter genau.

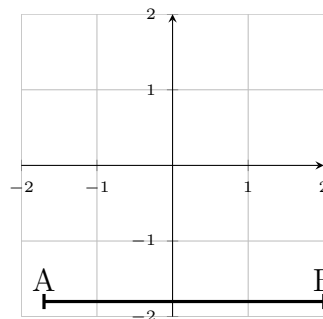
Quick:  
3912

a)



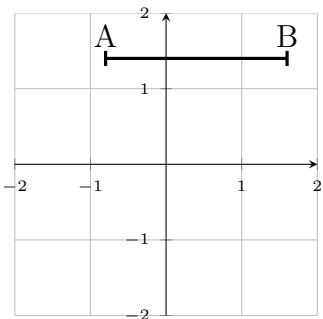
Länge der Strecke: 2,5cm

b)



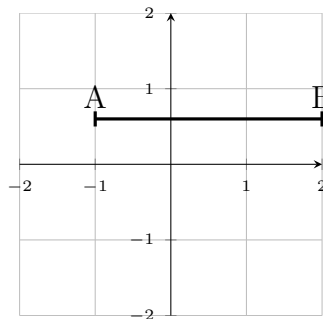
Länge der Strecke: 3,7cm

c)



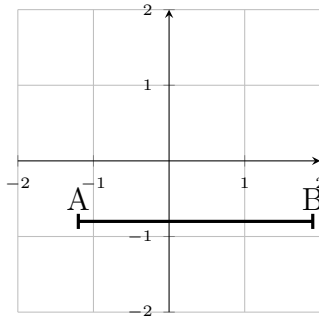
Länge der Strecke: 2,4cm

d)



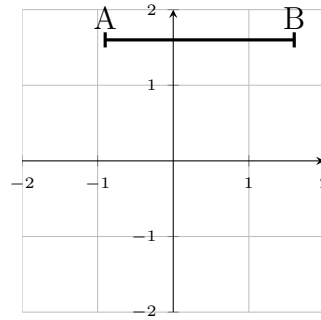
Länge der Strecke: 3cm

e)



Länge der Strecke: 3,1cm

f)



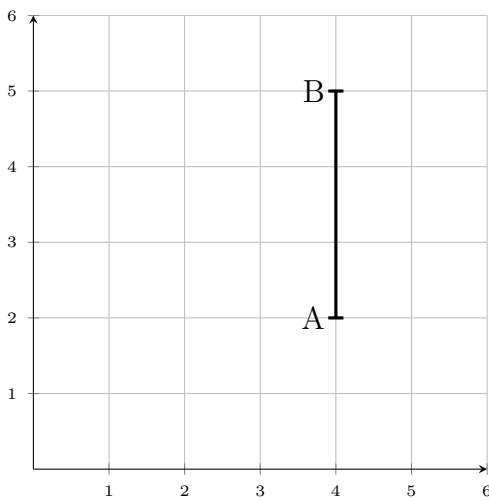
Länge der Strecke: 2,5cm

Aufgabe 3

Miss die Länge der Strecke auf einen Millimeter genau.

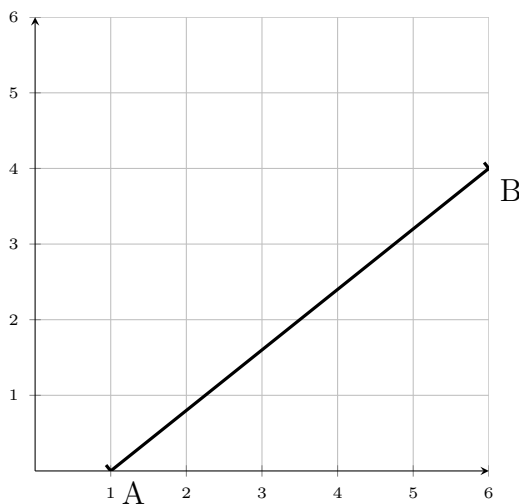
Quick:  
3912

a)

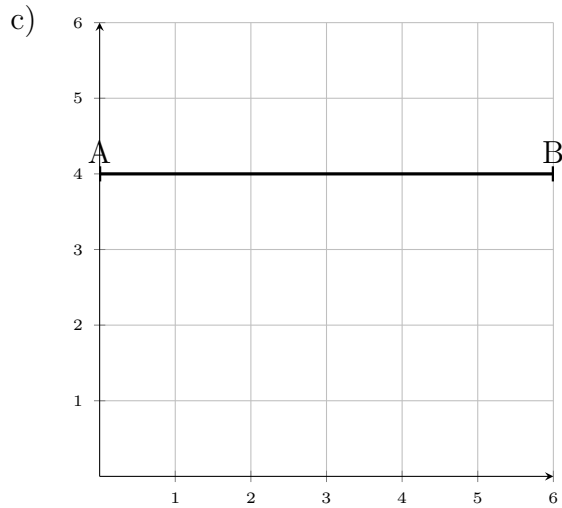


Länge der Strecke: 3cm

b)



Länge der Strecke: 6,4cm

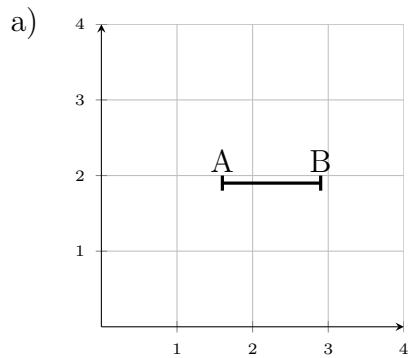


Länge der Strecke: 6cm

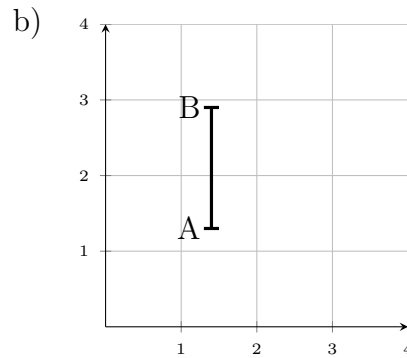
Aufgabe 4

Miss die Länge der Strecke auf einen Millimeter genau.

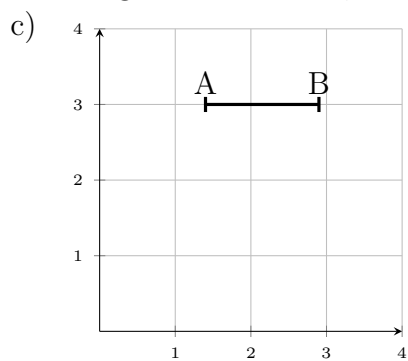
Quick:  
3912



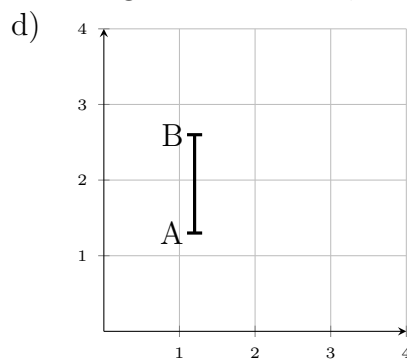
Länge der Strecke: 1,3cm



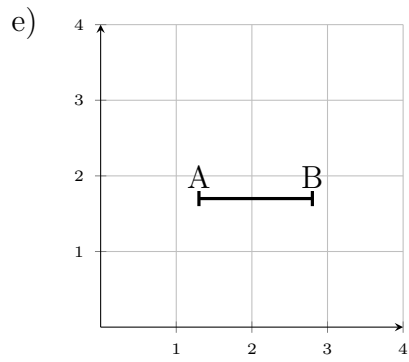
Länge der Strecke: 1,6cm



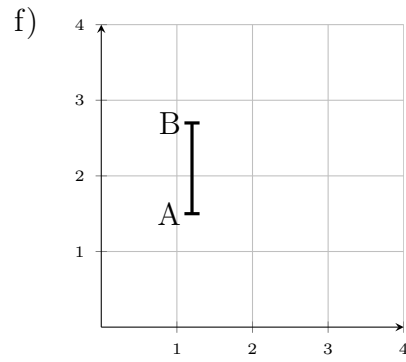
Länge der Strecke: 1,5cm



Länge der Strecke: 1,3cm



Länge der Strecke: 1,5cm



Länge der Strecke: 1,2cm

Viel Erfolg!