

Arbeitsblatt

05.11.2019

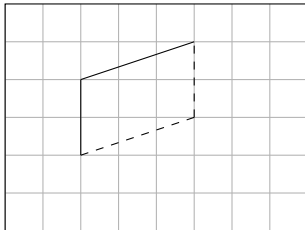
Kostenlos auf dw-aufgaben.de

Aufgaben-Quickname: 4520

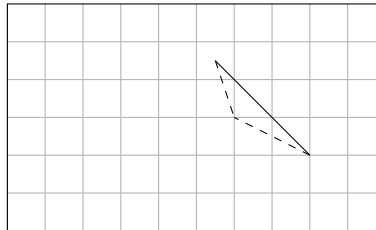
Aufgabe 1

Vervollständige das Schrägbild, indem Du die fehlenden Linien einzeichnest. Zeichne sichtbare Linien durchgehend, verdeckte Linien gestrichelt ein.

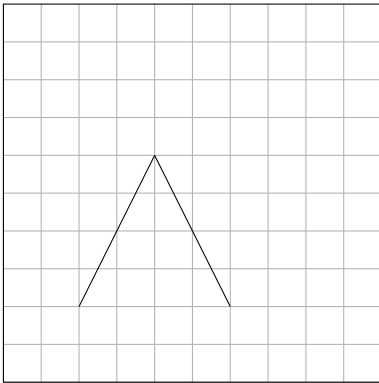
a) Körper: Ein Prisma



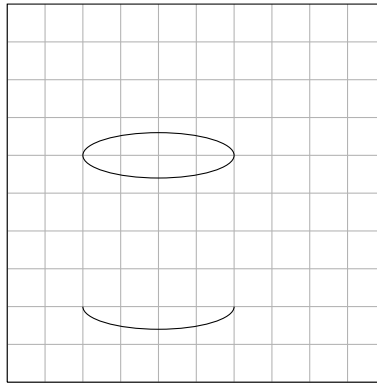
b) Körper: Ein Tetraeder



c) Körper: Ein Kegel



d) Körper: Ein Zylinder

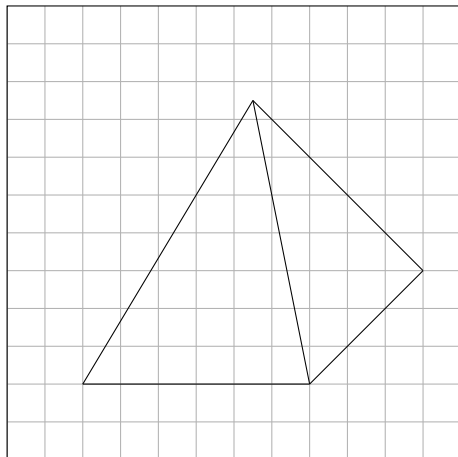


Aufgabe 2

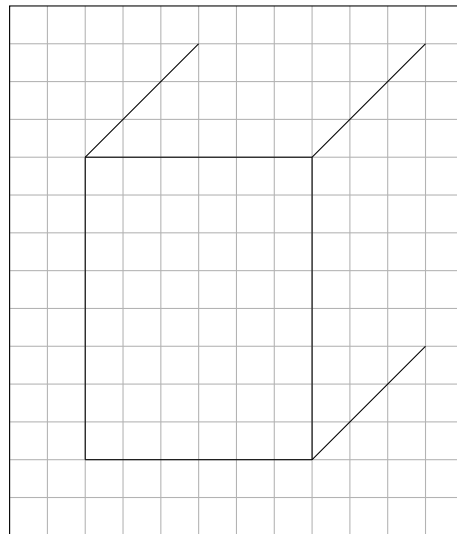
Vervollständige das Schrägbild, indem Du die fehlenden Linien einzeichnest. Zeichne

sichtbare Linien durchgehend, verdeckte Linien gestrichelt ein.

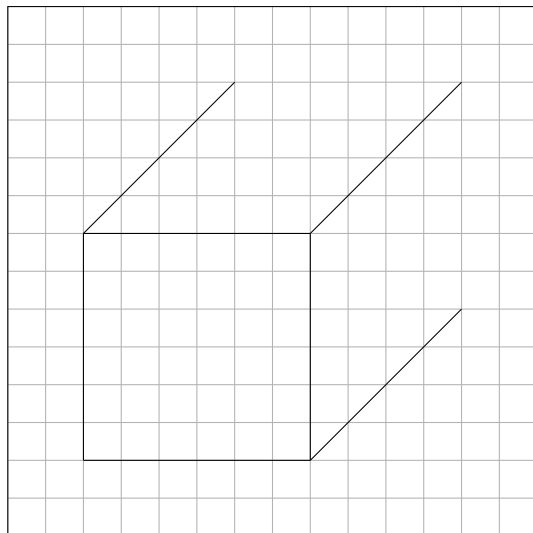
a) Körper: Eine Pyramide



b) Körper: Ein Quader

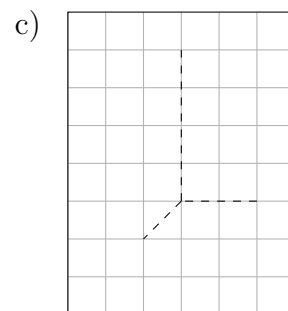
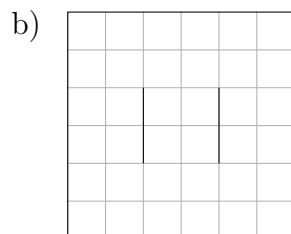
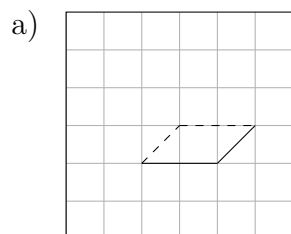


c) Körper: Ein Quader



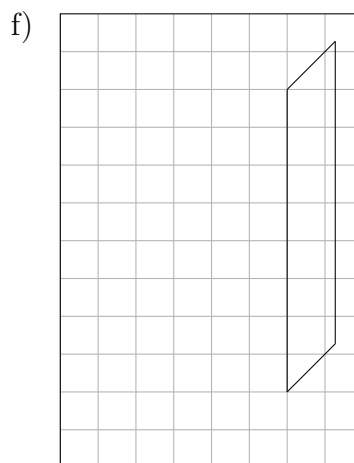
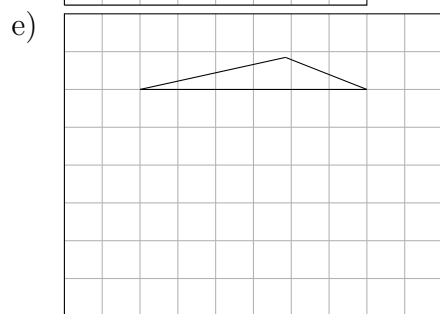
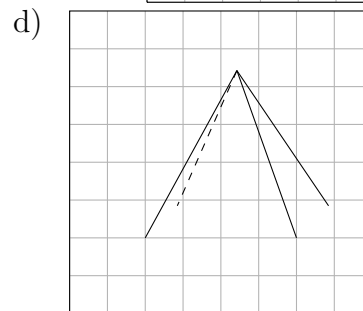
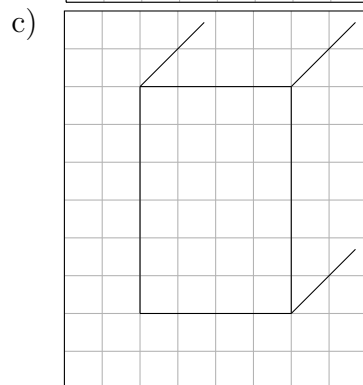
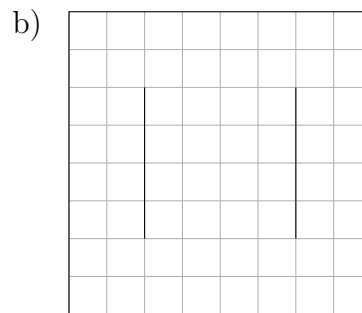
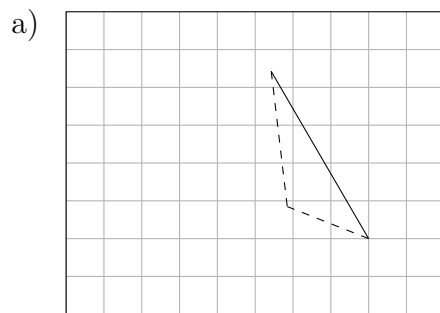
Aufgabe 3

Vervollständige das Schrägbild, indem Du die fehlenden Linien einzeichnest. Zeichne sichtbare Linien durchgehend, verdeckte Linien gestrichelt ein.



Aufgabe 4

Vervollständige das Schrägbild, indem Du die fehlenden Linien einzeichnest. Zeichne sichtbare Linien durchgehend, verdeckte Linien gestrichelt ein.



Viel Erfolg!