

Arbeitsblatt

16.06.2014

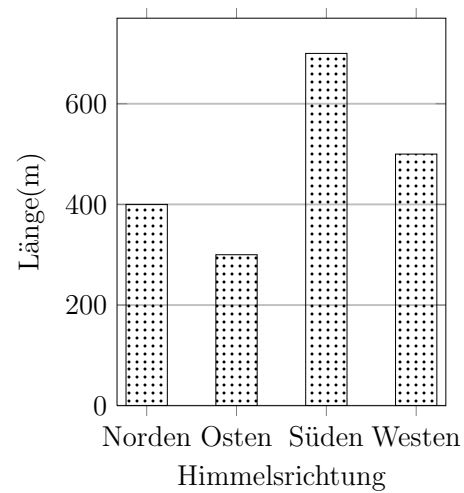
Kostenlos auf dw-aufgaben.de

Aufgaben-Quickname: 4626

Aufgabe 1

Vervollständige die Tabelle mit den Werten aus dem Diagramm.

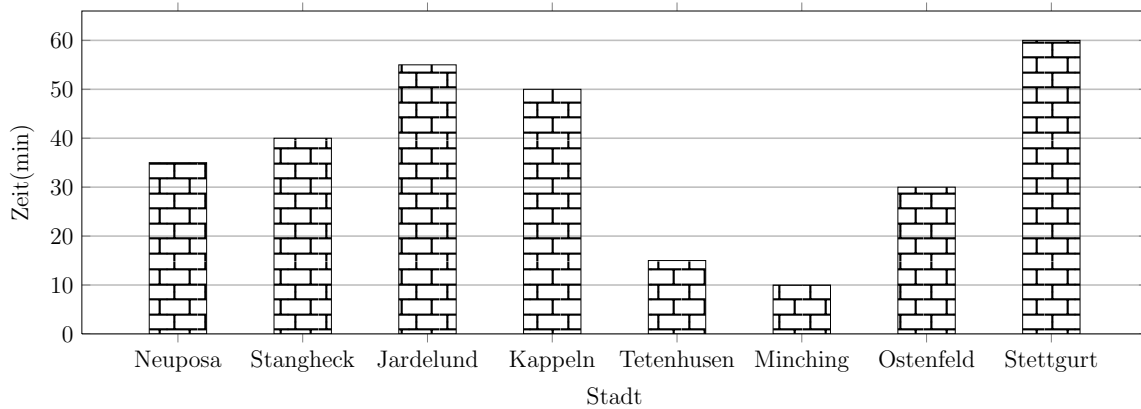
Himmelsrichtung	Länge(m)
Norden	
Osten	
Süden	700
Westen	



Aufgabe 2

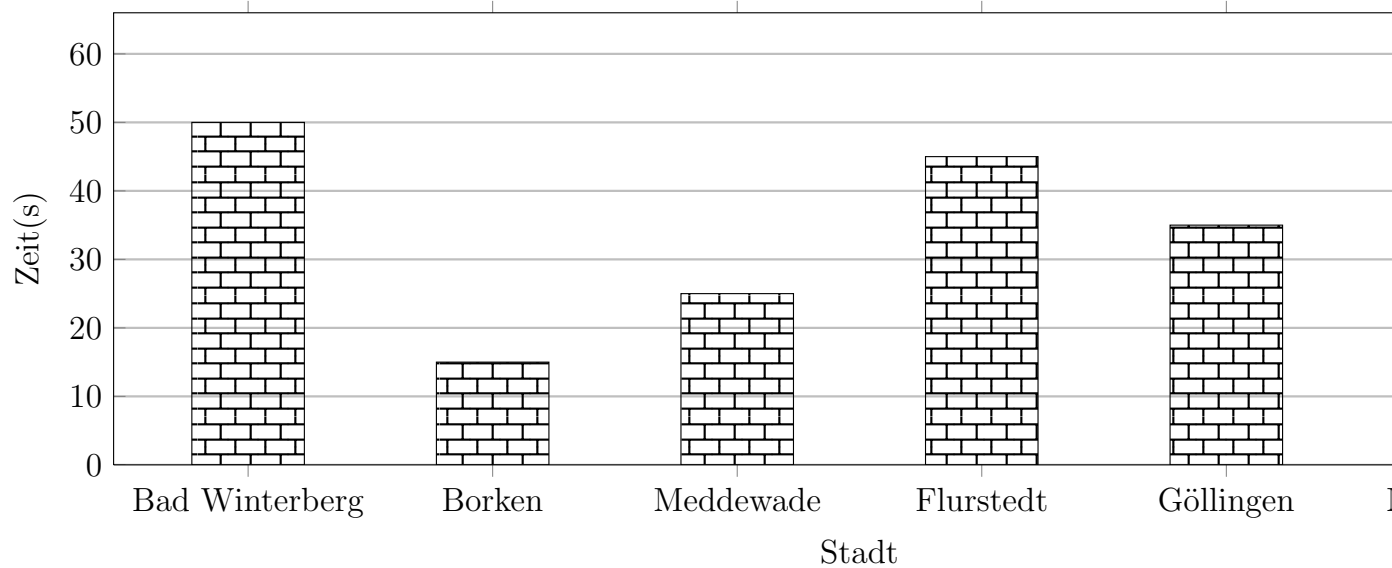
Vervollständige die Tabelle mit den Werten aus dem Diagramm.

Stadt	Zeit(min)
Neuposa	35
Stangheck	
Jardelund	
Kappeln	
Tetenhusen	15
Minching	
Ostenfeld	30
Stettgurt	



Aufgabe 3

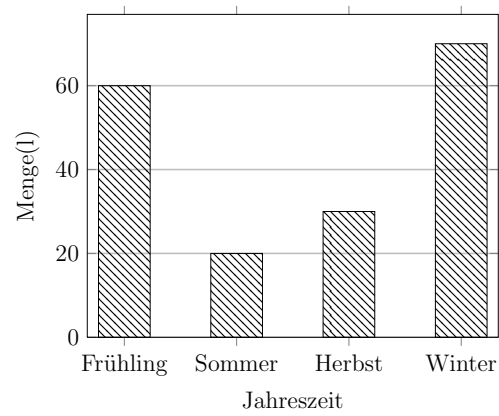
Erstelle zu diesem Säulendiagramm eine Tabelle mit den Werten aus dem Diagramm.



Aufgabe 4

Vervollständige die Tabelle mit den Werten aus dem Diagramm.

Jahreszeit	Menge(l)
Frühling	
Sommer	
Herbst	
Winter	



Viel Erfolg!