

# Arbeitsblatt

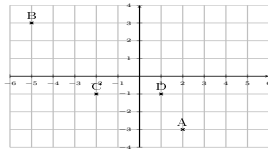
31.12.2013

Kostenlos auf [dw-aufgaben.de](http://dw-aufgaben.de)

Aufgaben-Quickname: 6381

## Aufgabe 1

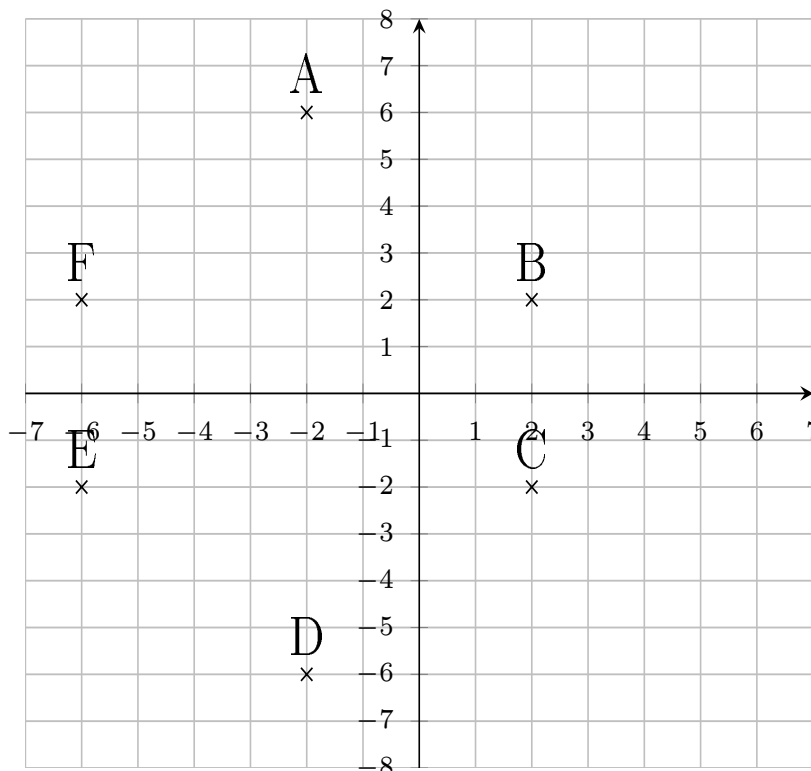
Welcher Punkt gehört zu welchem Koordinatenpaar? Trage die Buchstaben richtig ein.



(1 -1)	(-2 -1)	(-5 3)	(2 -3)

## Aufgabe 2

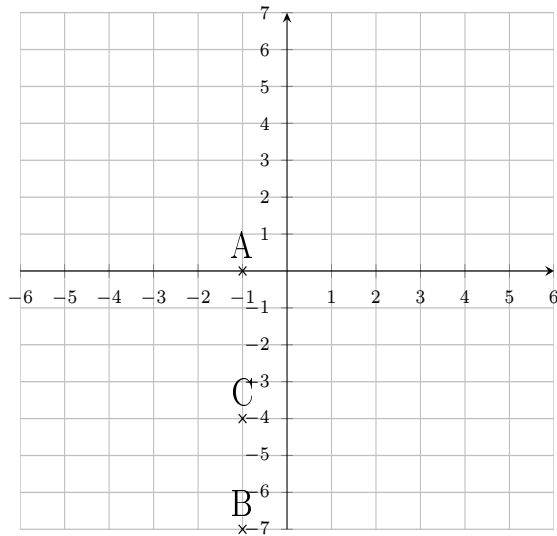
Welcher Punkt gehört zu welchem Koordinatenpaar? Trage die Buchstaben richtig ein.



(-2 6)	(2 -2)	(2 2)	(-2 -6)	(-6 -2)	(-6 2)

### Aufgabe 3

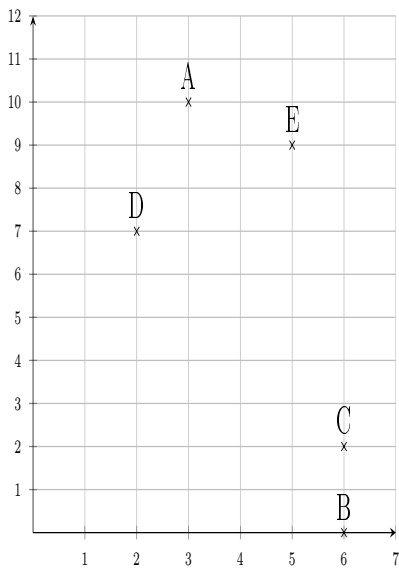
Welcher Punkt gehört zu welchem Koordinatenpaar? Trage die Buchstaben richtig ein.



(-1 -7)	(-1 0)	(-1 -4)

### Aufgabe 4

Welcher Punkt gehört zu welchem Koordinatenpaar? Trage die Buchstaben richtig ein.



(5 9)	(6 0)	(3 10)	(6 2)	(2 7)

Viel Erfolg!