

Arbeitsblatt

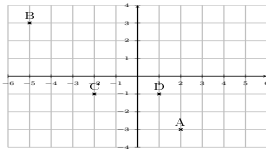
31.12.2013

Kostenlos auf dw-aufgaben.de

Aufgaben-Quickname: 6381

Aufgabe 1

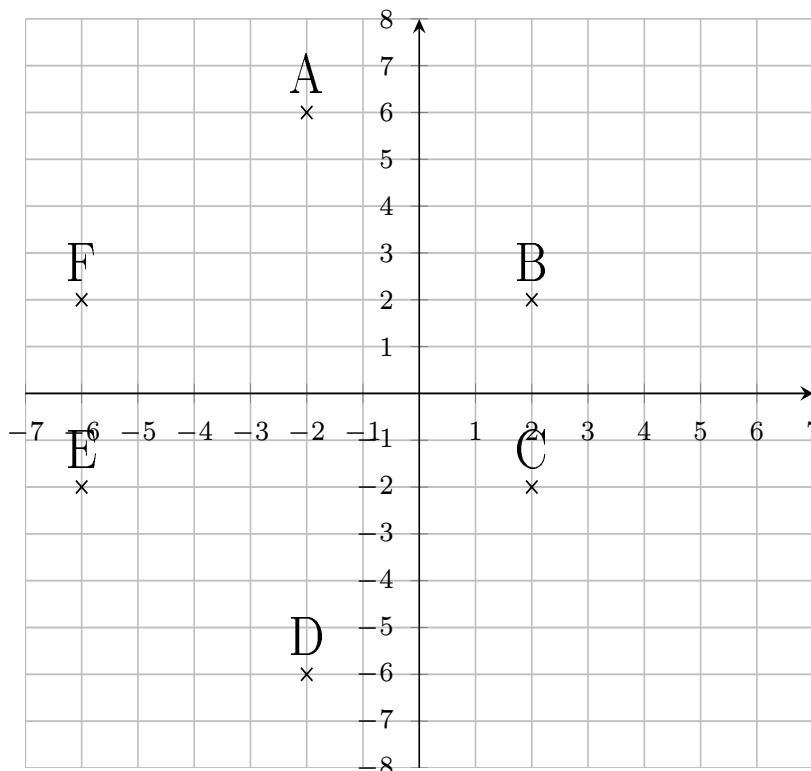
Welcher Punkt gehört zu welchem Koordinatenpaar? Trage die Buchstaben richtig ein.

Quick:
6381

D	C	B	A
(1 -1)	(-2 -1)	(-5 3)	(2 -3)

Aufgabe 2

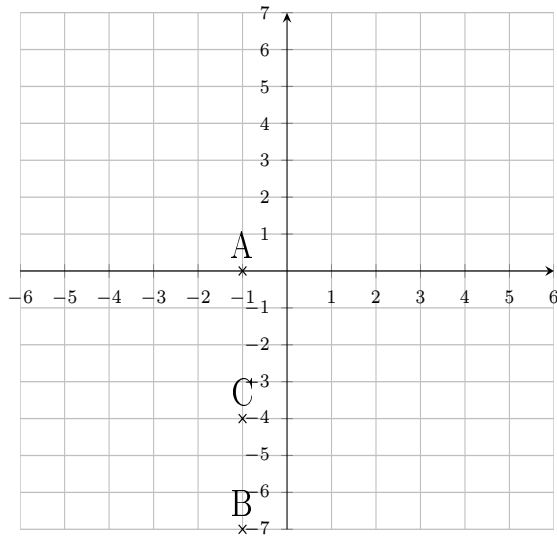
Welcher Punkt gehört zu welchem Koordinatenpaar? Trage die Buchstaben richtig ein.

Quick:
6381

A	C	B	D	E	F
(-2 6)	(2 -2)	(2 2)	(-2 -6)	(-6 -2)	(-6 2)

Aufgabe 3Quick:
6381

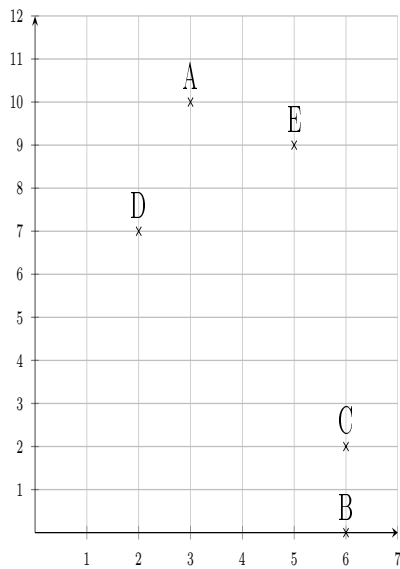
Welcher Punkt gehört zu welchem Koordinatenpaar? Trage die Buchstaben richtig ein.



B	A	C
(-1 -7)	(-1 0)	(-1 -4)

Aufgabe 4Quick:
6381

Welcher Punkt gehört zu welchem Koordinatenpaar? Trage die Buchstaben richtig ein.



E	B	A	C	D
(5 9)	(6 0)	(3 10)	(6 2)	(2 7)

Viel Erfolg!