

Arbeitsblatt

29.01.2016

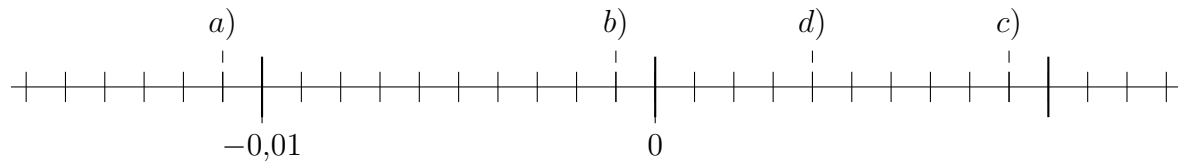
Kostenlos auf dw-aufgaben.de

Aufgaben-Quickname: 7730

Aufgabe 1

Quick:
7730

Welche Zahlen sind am Zahlenstrahl eingezeichnet?

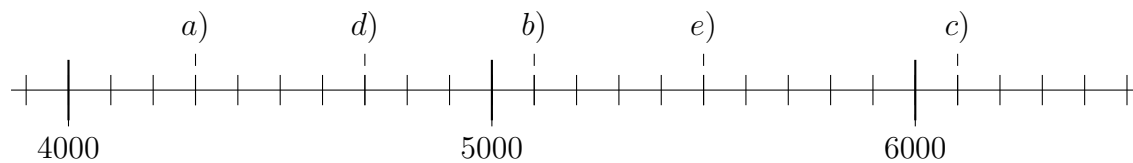


a)= -0,011 b)= -0,001 c)= 0,009 d)= 0,004

Aufgabe 2

Quick:
7730

Welche Zahlen sind am Zahlenstrahl eingezeichnet?

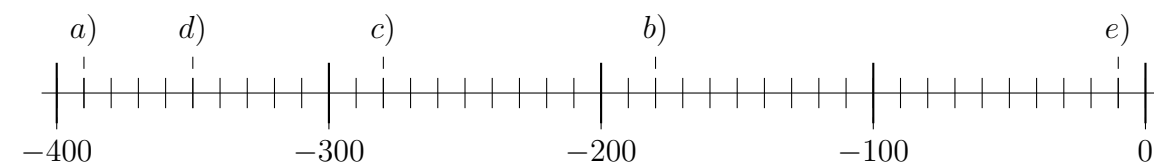


a)= 4300 b)= 5100 c)= 6100 d)= 4700 e)= 5500

Aufgabe 3

Quick:
7730

Welche Zahlen sind am Zahlenstrahl eingezeichnet?

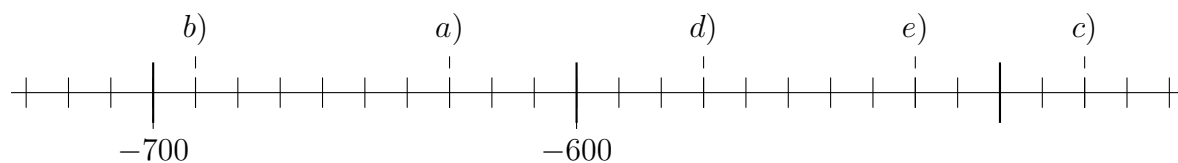


a)= -390 b)= -180 c)= -280 d)= -350 e)= -10

Aufgabe 4

Quick:
7730

Welche Zahlen sind am Zahlenstrahl eingezeichnet?



a) = -630 b) = -690 c) = -480 d) = -570 e) = -520

Viel Erfolg!