

Arbeitsblatt

16.06.2014

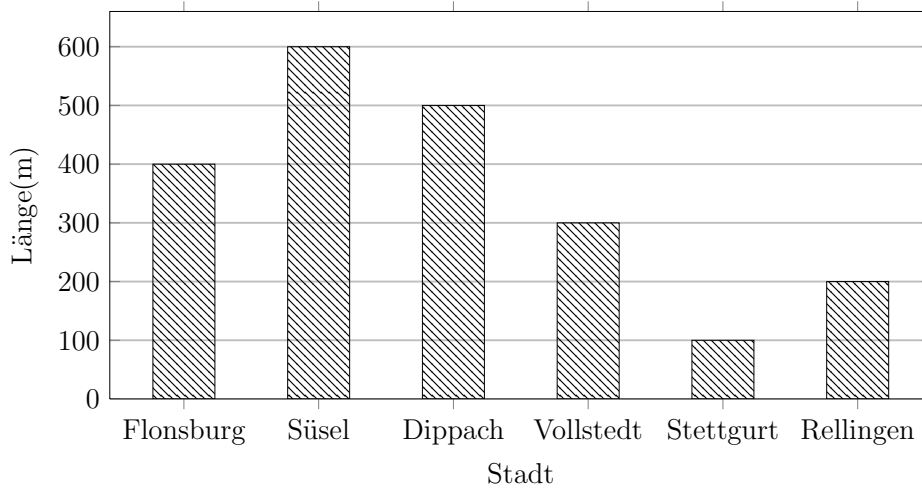
Kostenlos auf dw-aufgaben.de

Aufgaben-Quickname: 4626

Aufgabe 1

Vervollständige die Tabelle mit den Werten aus dem Diagramm.

Quick:
4626

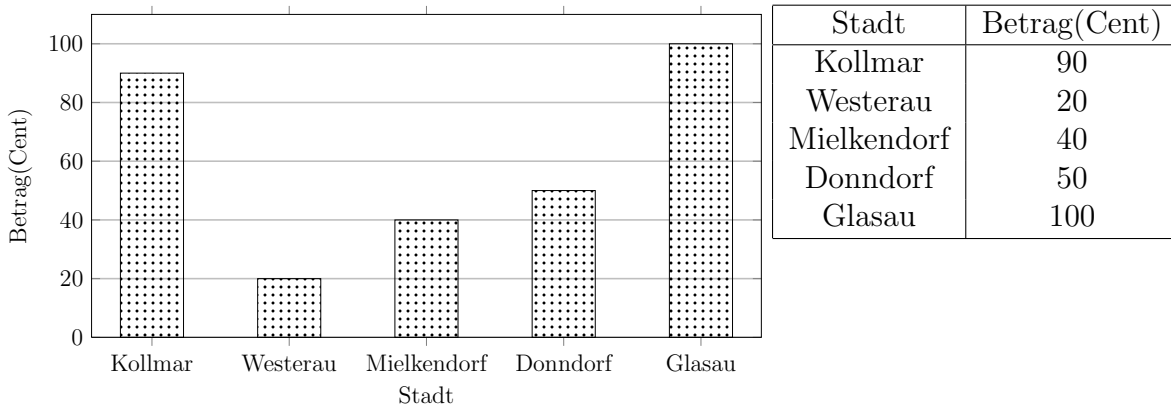


Stadt	Länge(m)
Flonsburg	400
Süsel	600
Dippach	500
Vollstedt	300
Stettgurt	100
Rellingen	200

Aufgabe 2

Vervollständige die Tabelle mit den Werten aus dem Diagramm.

Quick:
4626

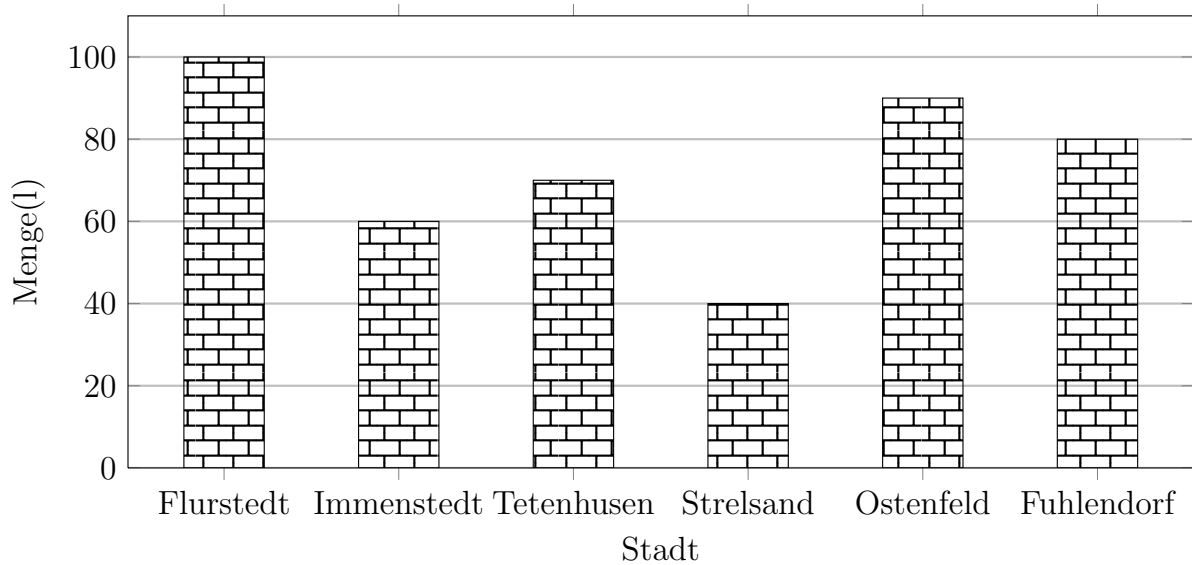


Stadt	Betrag(Cent)
Kollmar	90
Westerau	20
Mielkendorf	40
Donndorf	50
Glasau	100

Aufgabe 3

Quick:
4626

Erstelle zu diesem Säulendiagramm eine Tabelle mit den Werten aus dem Diagramm.

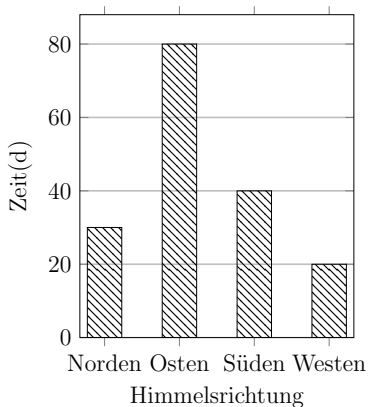


Stadt	Menge(l)
Flurstedt	100
Immenstedt	60
Tetenhusen	70
Strelsand	40
Ostenfeld	90
Fuhlendorf	80

Aufgabe 4

Quick:
4626

Vervollständige die Tabelle mit den Werten aus dem Diagramm.



Himmelsrichtung	Zeit(d)
Norden	30
Osten	80
Süden	40
Westen	20

Viel Erfolg!