

# Arbeitsblatt

28.07.2013

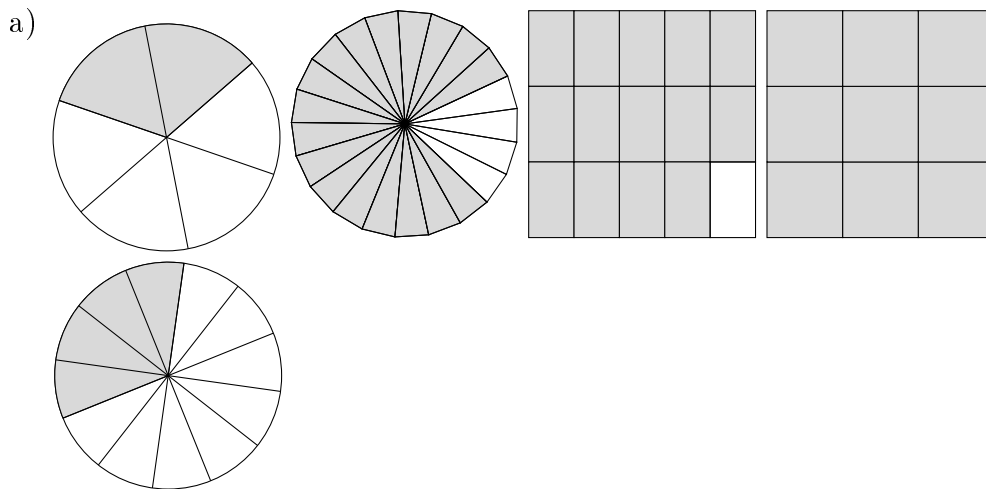
Kostenlos auf [dw-aufgaben.de](http://dw-aufgaben.de)

Aufgaben-Quickname: 5976

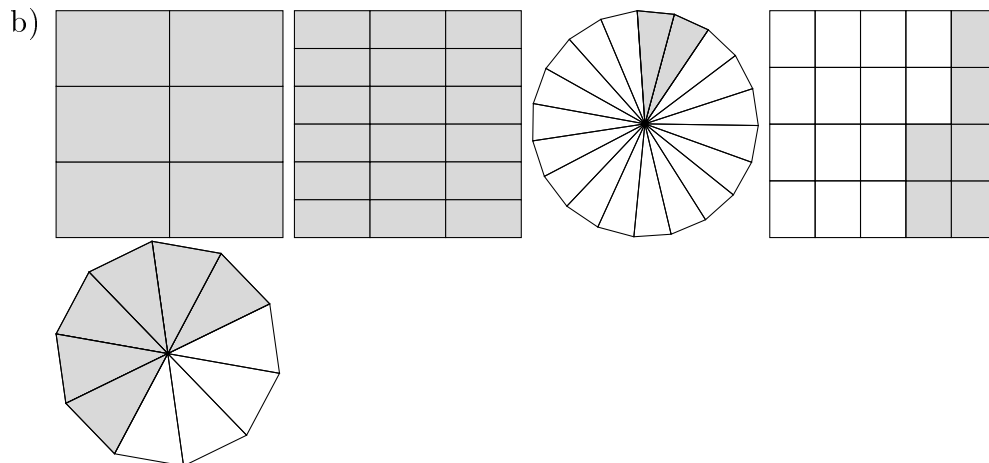
## Aufgabe 1

Bei welchen beiden Figuren ist der gleiche Bruchteil markiert?

Quick:  
5976



Die Figuren stehen an Position 1 und 5. Der Wert des Bruches ist jeweils  $\frac{1}{3}$ .

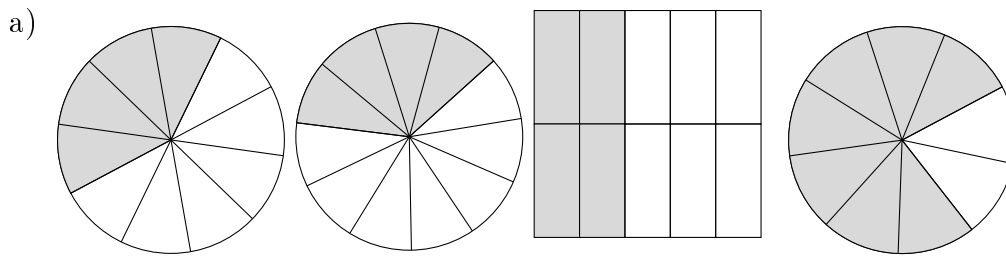


Die Figuren stehen an Position 1 und 2. Der Wert des Bruches ist jeweils  $\frac{1}{1}$ .


Aufgabe 2

Quick:  
5976

Bei welchen beiden Figuren ist der gleiche Bruchteil markiert?



Die Figuren stehen an Position 1 und 3. Der Wert des Bruches ist jeweils  $\frac{2}{5}$ .

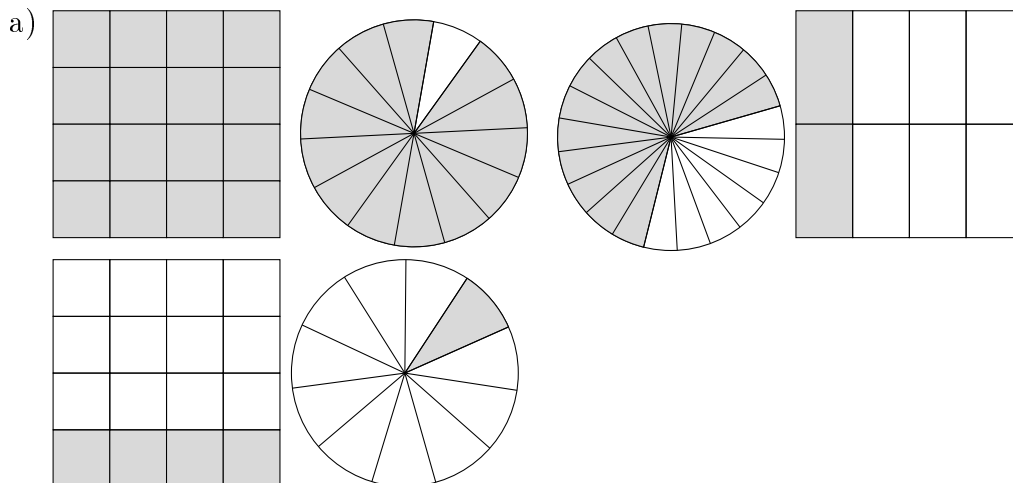


Die Figuren stehen an Position 1 und 4. Der Wert des Bruches ist jeweils  $\frac{1}{4}$ .


Aufgabe 3

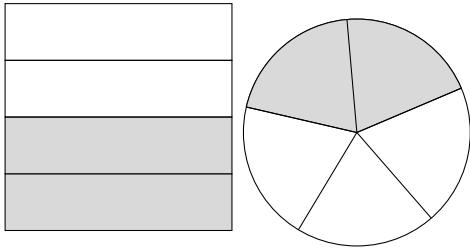
Quick:  
5976

Bei welchen beiden Figuren ist der gleiche Bruchteil markiert?



Die Figuren stehen an Position 4 und 5. Der Wert des Bruches ist jeweils  $\frac{1}{4}$ .



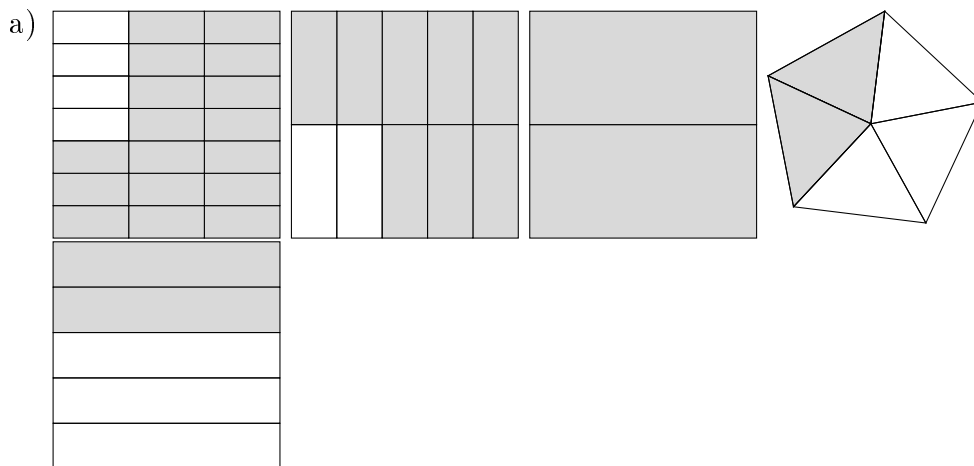


Die Figuren stehen an Position 3 und 6. Der Wert des Bruches ist jeweils  $\frac{2}{5}$ .

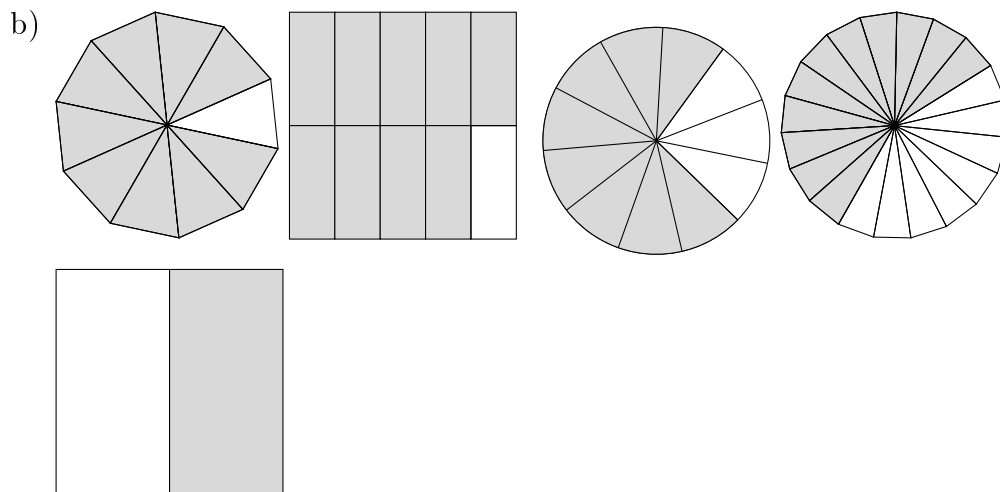
Aufgabe 4

Bei welchen beiden Figuren ist der gleiche Bruchteil markiert?

Quick:  
5976



Die Figuren stehen an Position 4 und 5. Der Wert des Bruches ist jeweils  $\frac{2}{5}$ .



Die Figuren stehen an Position 1 und 2. Der Wert des Bruches ist jeweils  $\frac{9}{10}$ .

Viel Erfolg!