

Arbeitsblatt

12.06.2015

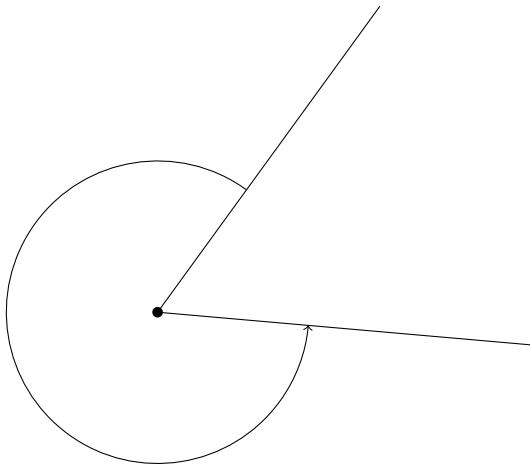
Kostenlos auf dw-aufgaben.de

Aufgaben-Quickname: 3113

Aufgabe 1

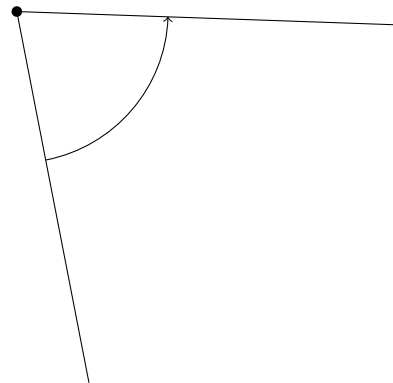
Um was für einen Winkel handelt es sich? Kreuze an!

a)



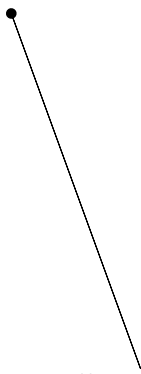
- gestreckter Winkel
- spitzer Winkel
- überstumpfer Winkel

b)



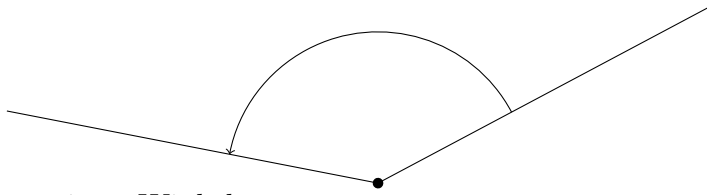
- gestreckter Winkel
- rechter Winkel
- spitzer Winkel

c)



- Nullwinkel
- gestreckter Winkel
- spitzer Winkel

d)

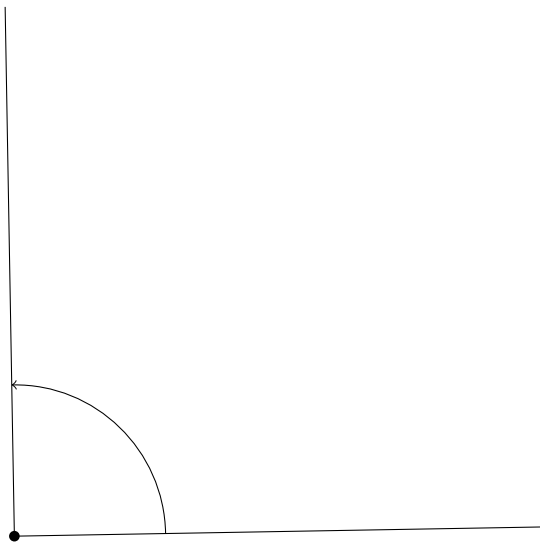


- spitzer Winkel
- rechter Winkel
- stumpfer Winkel

Aufgabe 2

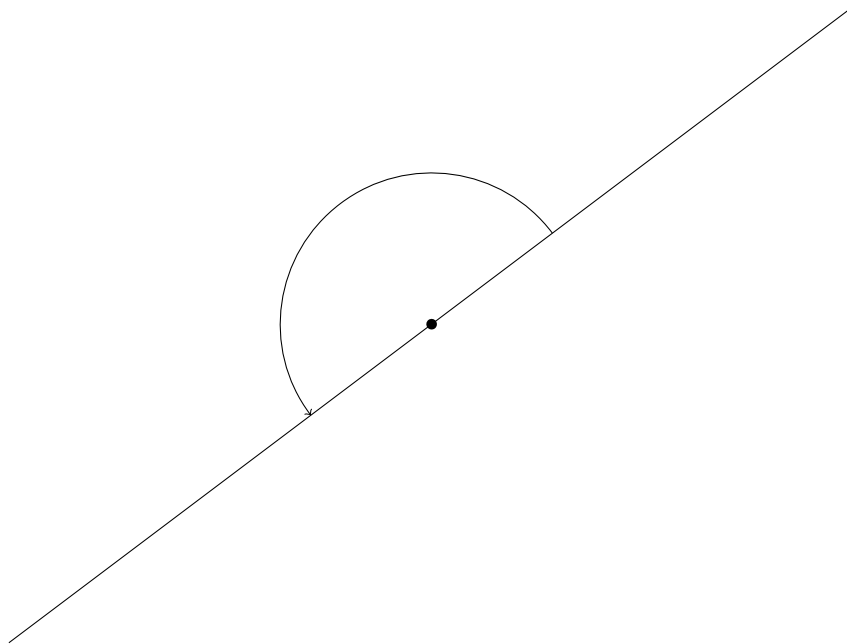
Um was für einen Winkel handelt es sich? Kreuze an!

a)



- rechter Winkel
- spitzer Winkel
- gestreckter Winkel

b)

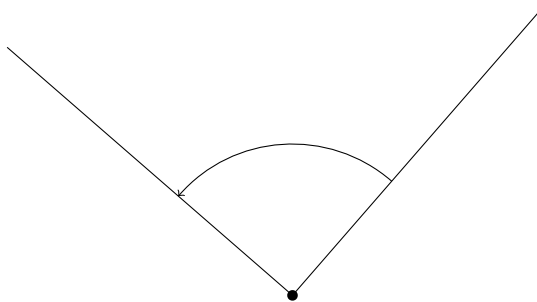


- überstumpfer Winkel
- spitzer Winkel
- gestreckter Winkel

Aufgabe 3

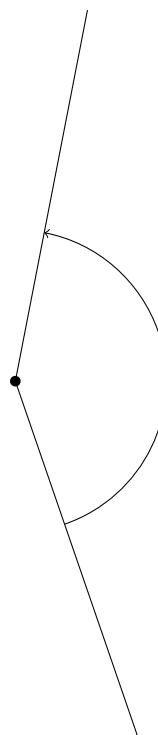
Um was für einen Winkel handelt es sich? Kreuze an!

a)



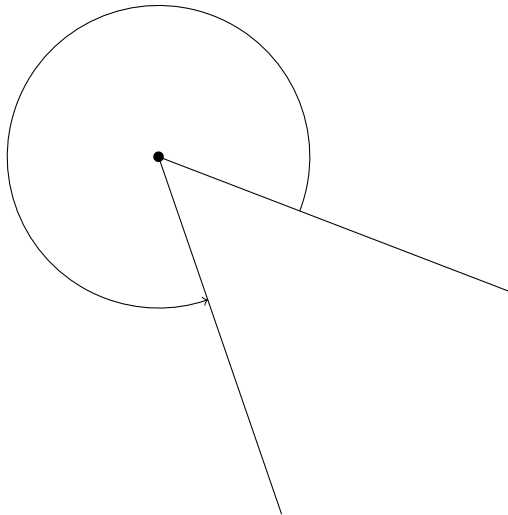
- gestreckter Winkel
- rechter Winkel
- überstumpfer Winkel

b)



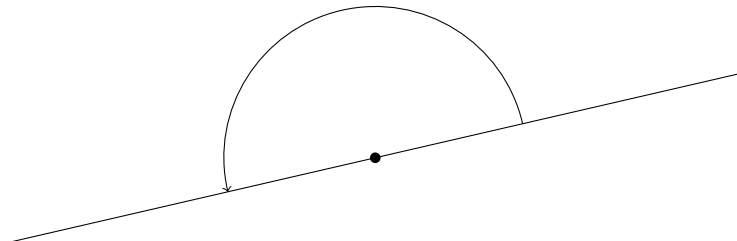
- stumpfer Winkel
- überstumpfer Winkel
- gestreckter Winkel

c)



- spitzer Winkel
- stumpfer Winkel
- überstumpfer Winkel

d)

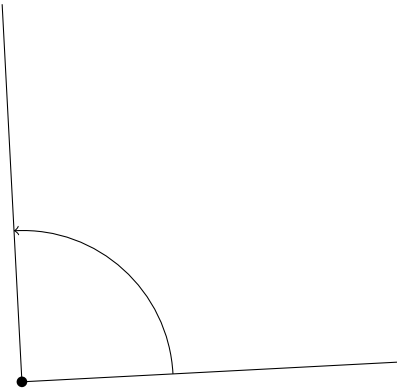


- gestreckter Winkel
- überstumpfer Winkel
- stumpfer Winkel

Aufgabe 4

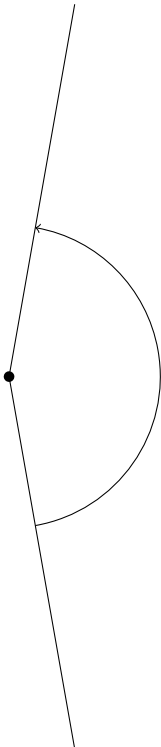
Um was für einen Winkel handelt es sich? Kreuze an!

a)



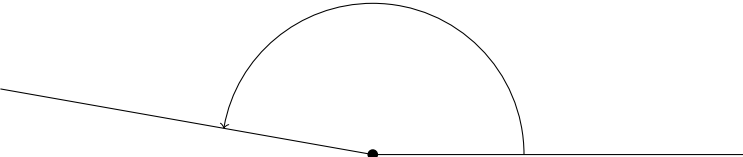
- stumpfer Winkel
- rechter Winkel
- gestreckter Winkel

b)



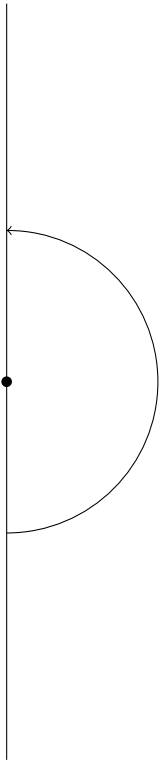
- stumpfer Winkel
- gestreckter Winkel
- spitzer Winkel

c)



- rechter Winkel
- stumpfer Winkel
- spitzer Winkel

d)



- gestreckter Winkel
- rechter Winkel
- spitzer Winkel

Viel Erfolg!