

Arbeitsblatt

28.07.2013

Kostenlos auf dw-aufgaben.de

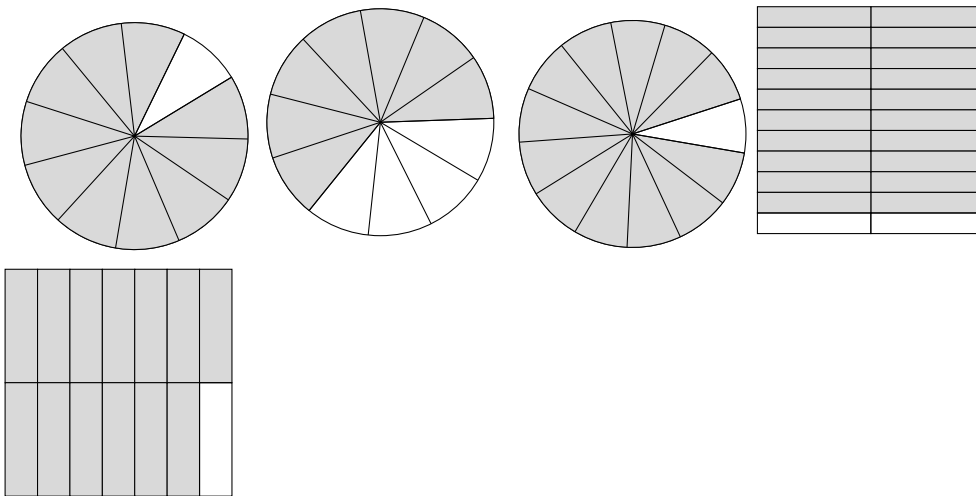
Aufgaben-Quickname: 5976

Aufgabe 1

Bei welchen beiden Figuren ist der gleiche Bruchteil markiert?

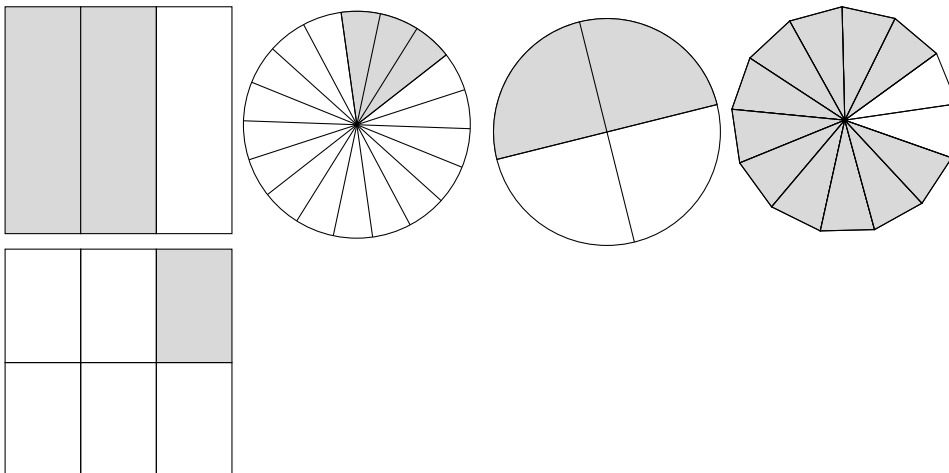
Quick:
5976

a)



Die Figuren stehen an Position 1 und 4. Der Wert des Bruches ist jeweils $\frac{10}{11}$.

b)

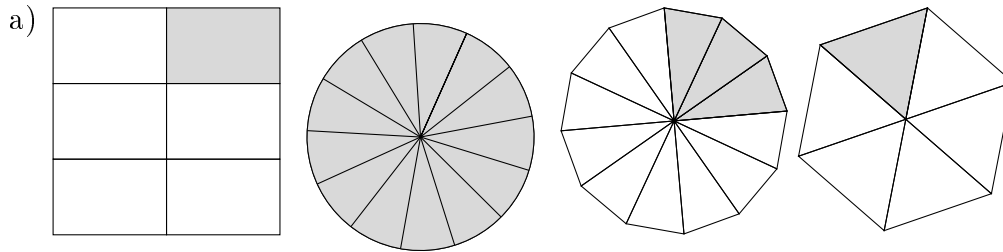


Die Figuren stehen an Position 2 und 5. Der Wert des Bruches ist jeweils $\frac{1}{6}$.

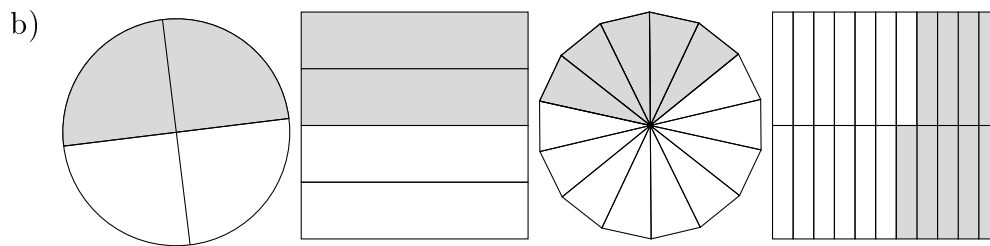
Aufgabe 2

Quick:
5976

Bei welchen beiden Figuren ist der gleiche Bruchteil markiert?



Die Figuren stehen an Position 1 und 4. Der Wert des Bruches ist jeweils $\frac{1}{6}$.

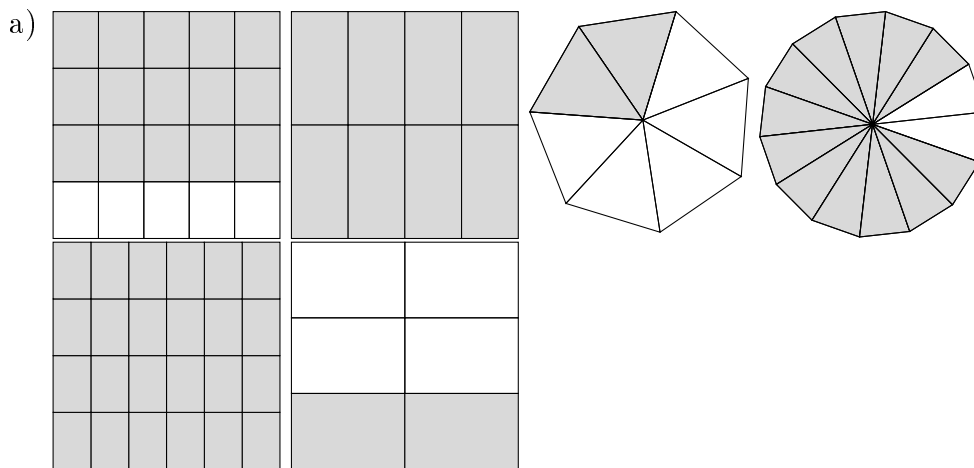


Die Figuren stehen an Position 1 und 2. Der Wert des Bruches ist jeweils $\frac{1}{2}$.

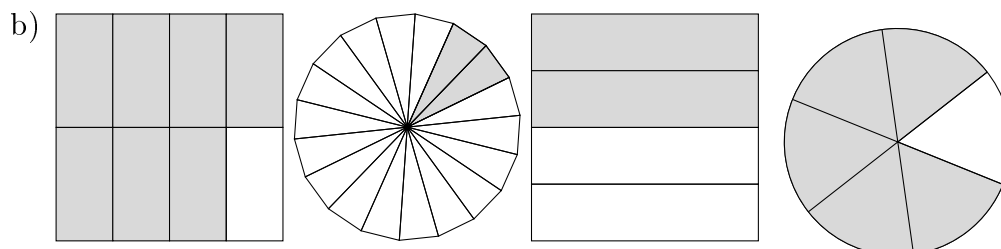
Aufgabe 3

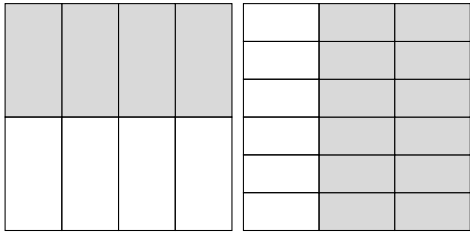
Quick:
5976

Bei welchen beiden Figuren ist der gleiche Bruchteil markiert?



Die Figuren stehen an Position 2 und 5. Der Wert des Bruches ist jeweils $\frac{1}{5}$.



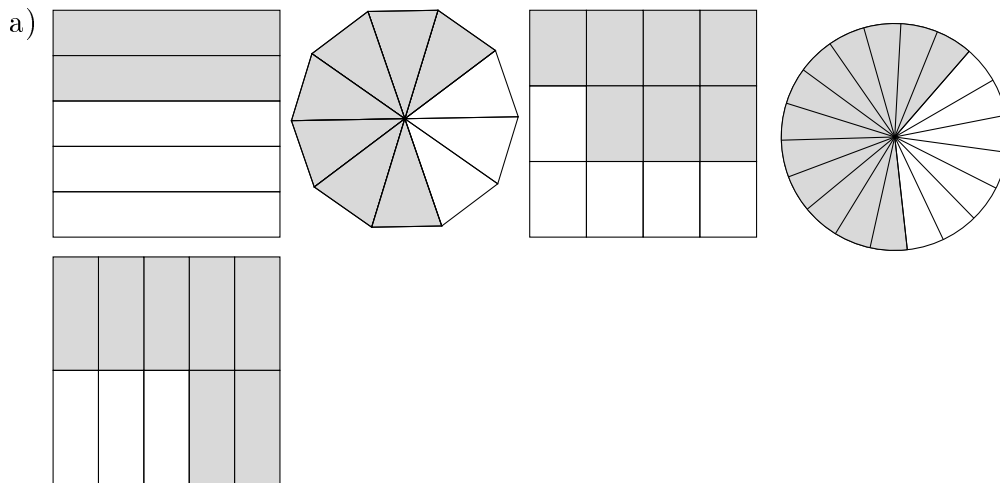


Die Figuren stehen an Position 3 und 5. Der Wert des Bruches ist jeweils $\frac{1}{2}$.

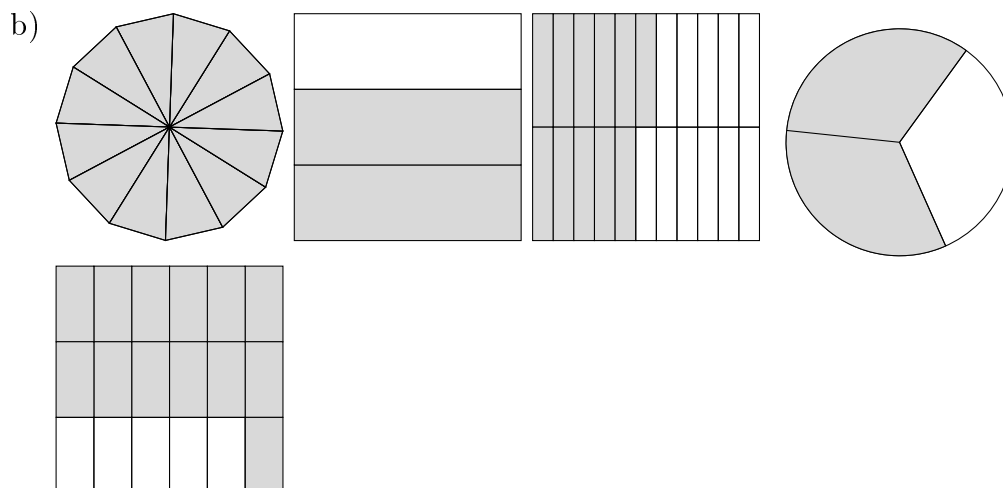
Aufgabe 4

Quick:
5976

Bei welchen beiden Figuren ist der gleiche Bruchteil markiert?



Die Figuren stehen an Position 2 und 5. Der Wert des Bruches ist jeweils $\frac{7}{10}$.



Die Figuren stehen an Position 2 und 4. Der Wert des Bruches ist jeweils $\frac{2}{3}$.

Viel Erfolg!