

Arbeitsblatt

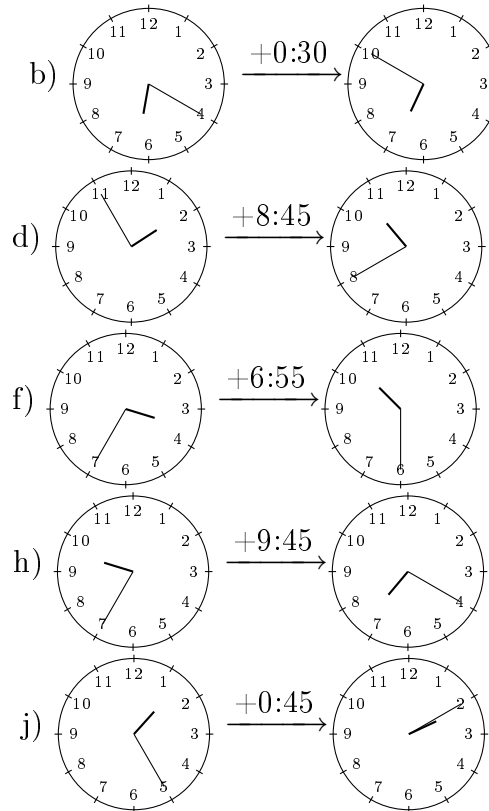
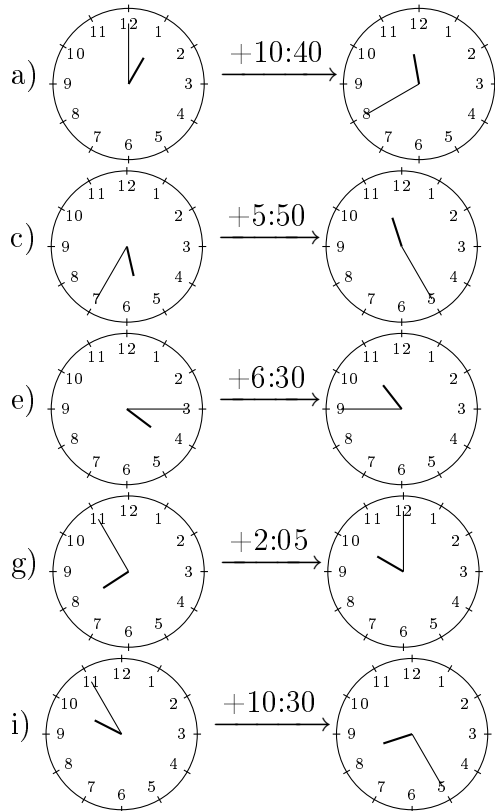
28.07.2013

Kostenlos auf dw-aufgaben.de

Aufgaben-Quickname: 6272

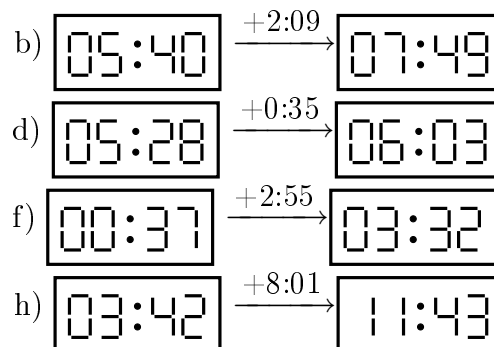
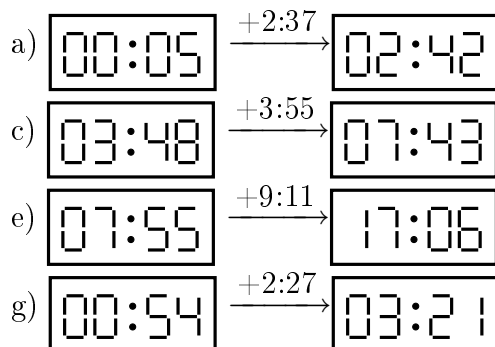
Aufgabe 1

Wie viel Zeit ist zwischen linkem und rechtem Uhrenstand mindestens vergangen?

Quick:
6272

Aufgabe 2

Wie viel Zeit ist zwischen linkem und rechtem Uhrenstand mindestens vergangen?

Quick:
6272

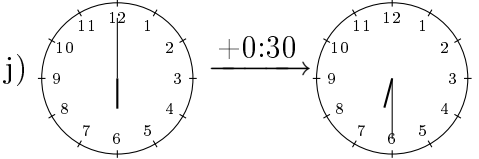
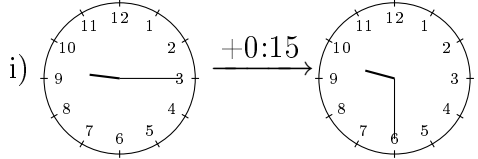
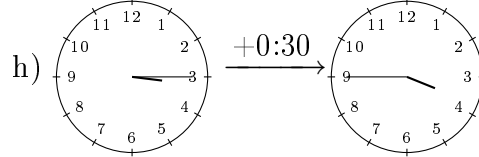
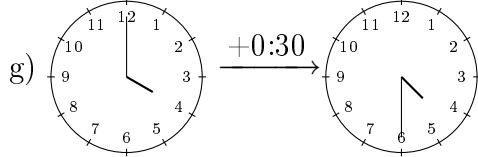
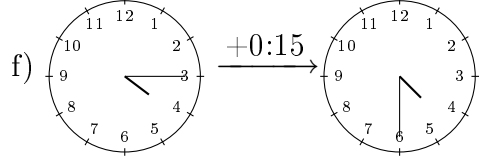
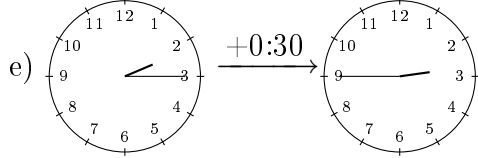
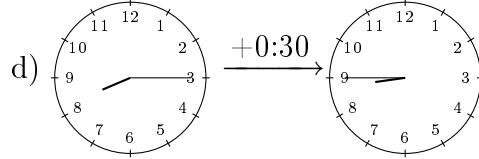
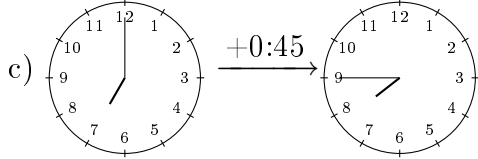
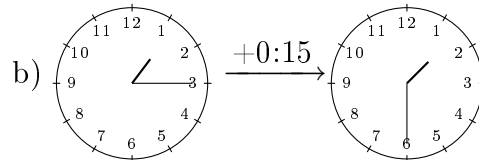
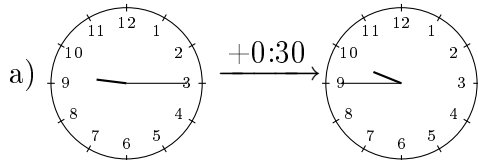
i) $\boxed{06:04} \xrightarrow{+2:38} \boxed{08:42}$

j) $\boxed{09:38} \xrightarrow{+11:52} \boxed{21:30}$

Aufgabe 3

Wie viel Zeit ist zwischen linkem und rechtem Uhrenstand mindestens vergangen?

Quick:
6272



Aufgabe 4

Wie viel Zeit ist zwischen linkem und rechtem Uhrenstand mindestens vergangen?

Quick:
6272

a) $\boxed{10:07} \xrightarrow{+3:39} \boxed{13:46}$

b) $\boxed{07:46} \xrightarrow{+3:20} \boxed{11:06}$

c) $\boxed{09:40} \xrightarrow{+5:39} \boxed{15:19}$

d) $\boxed{10:46} \xrightarrow{+0:21} \boxed{11:07}$

e) $\boxed{00:49} \xrightarrow{+10:08} \boxed{10:57}$

f) $\boxed{03:22} \xrightarrow{+2:31} \boxed{05:53}$

g) $\boxed{10:41} \xrightarrow{+1:27} \boxed{12:08}$

h) $\boxed{01:36} \xrightarrow{+0:33} \boxed{02:09}$

i) $\boxed{02:25} \xrightarrow{+9:45} \boxed{12:10}$

j) $\boxed{04:01} \xrightarrow{+2:13} \boxed{06:14}$

Viel Erfolg!