

Arbeitsblatt

28.07.2013


Kostenlos auf dw-aufgaben.de

Aufgaben-Quickname: 7866

Aufgabe 1

Vervollständige das Balkendiagramm. Beschrifte dabei die X-Achse mit Fläche, die Y-Achse mit Jahreszeit.

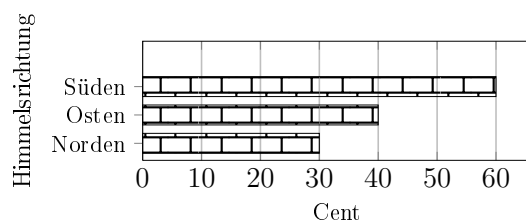
Jahreszeit	Fläche(mm ²)
Frühling	20
Sommer	90
Herbst	40
Winter	60



Aufgabe 2

Vervollständige das Balkendiagramm.

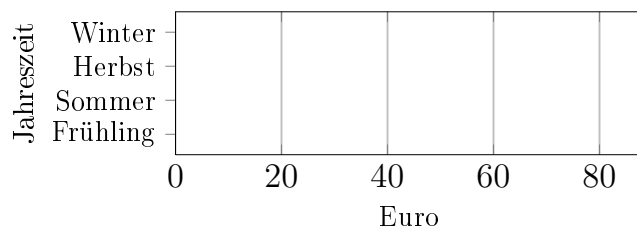
Himmelsrichtung	Betrag(Cent)
Norden	30
Osten	40
Süden	60
Westen	50



Aufgabe 3

Vervollständige das Balkendiagramm.

Jahreszeit	Betrag(Euro)
Frühling	30
Sommer	60
Herbst	80
Winter	70

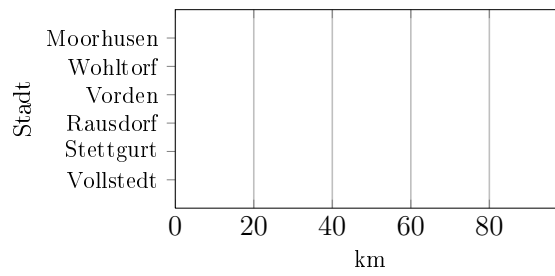


Aufgabe 4

Vervollständige das Balkendiagramm. Beschrifte dabei die X-Achse mit Länge, die

Y-Achse mit Stadt.

Stadt	Länge(km)
Vollstedt	80
Stettgurt	90
Rausdorf	60
Vorden	30
Wohltorf	70
Moorhusen	50



Viel Erfolg!