

Arbeitsblatt

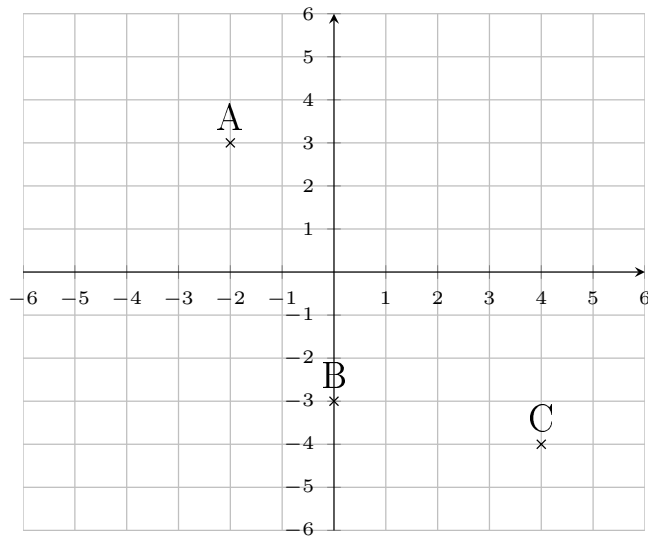
30.12.2013

Kostenlos auf dw-aufgaben.de

Aufgaben-Quickname: 5233

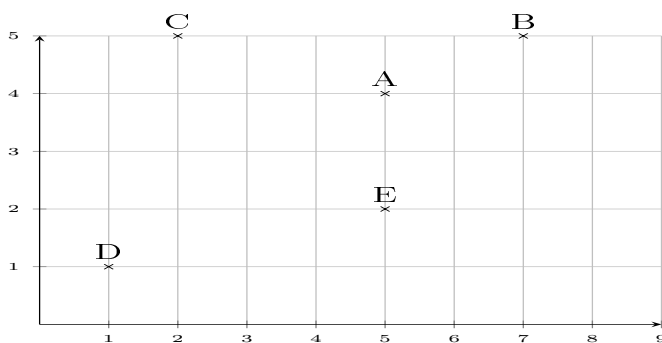
Aufgabe 1

Zeichne die Punkte in ein passendes Koordinatensystem ein.

Quick:
5233 $A(-2|3)$, $B(0|-3)$, $C(4|-4)$

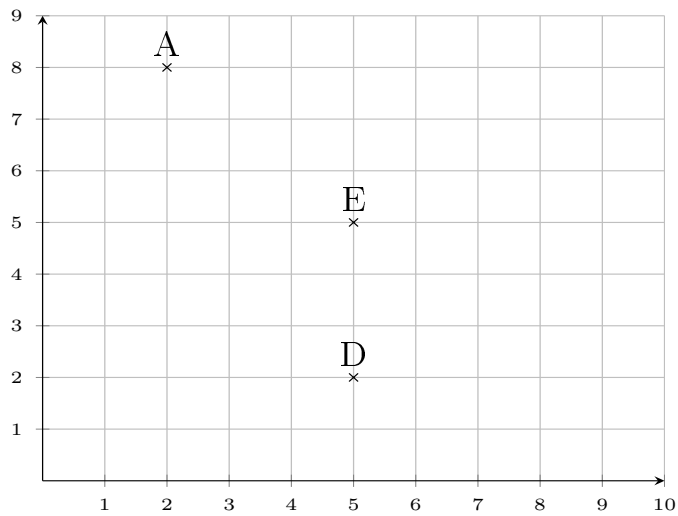
Aufgabe 2

Zeichne die Punkte in ein passendes Koordinatensystem ein.

Quick:
5233 $A(5|4)$, $B(7|5)$, $C(2|5)$, $D(1|1)$, $E(5|2)$

Aufgabe 3Quick:
5233

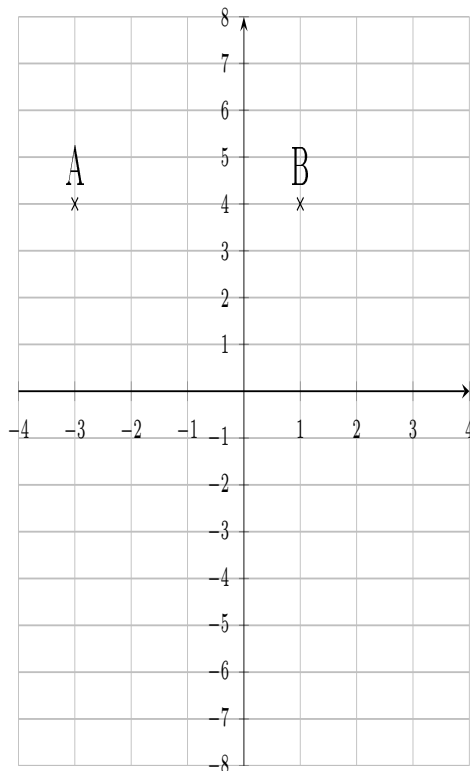
Zeichne die Punkte in das Koordinatensystem ein.



A(2|8), B(2|-1), C(8|-1), D(5|2), E(5|5)

Aufgabe 4Quick:
5233

Zeichne die Punkte in das Koordinatensystem ein.



A(-3|4), B(1|4), C(3|-9), D(-1|-9)

Viel Erfolg!