

# Arbeitsblatt

27.02.2015

Kostenlos auf [dw-aufgaben.de](http://dw-aufgaben.de)

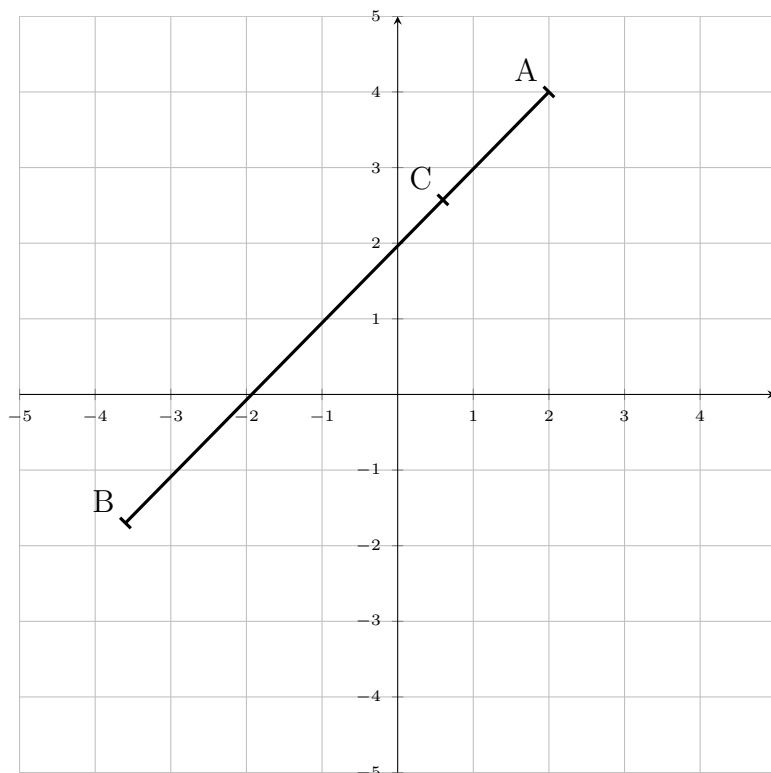
Aufgaben-Quickname: 5490

## Aufgabe 1

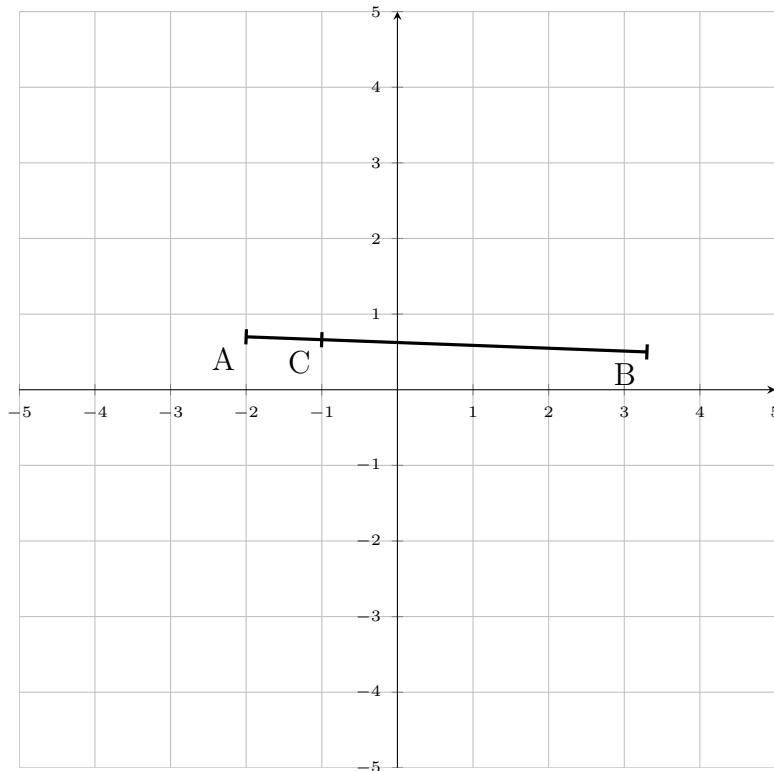
Miss die Länge der angegebenen Strecke auf einen Millimeter genau.

Quick:  
5490

a)

Länge der Strecke  $\overline{AC}$  : 2cm

b)



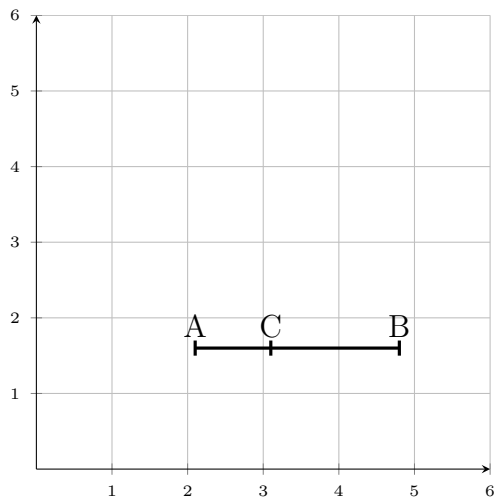
Länge der Strecke  $\overline{CB}$  : 4,3cm

Aufgabe 2

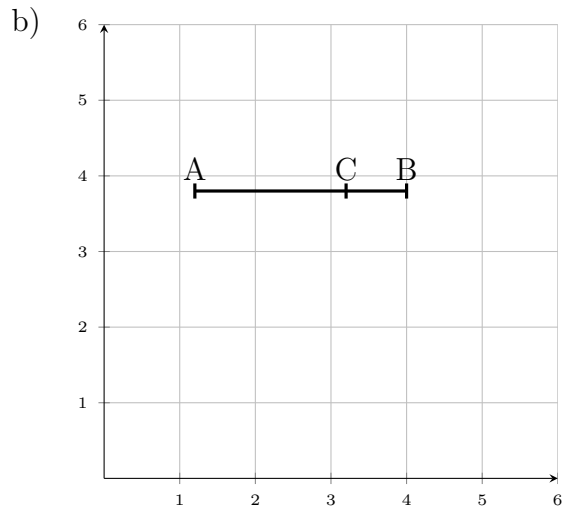
Miss die Länge der angegebenen Strecke auf einen Millimeter genau.

Quick:  
5490

a)



Länge der Strecke  $\overline{AC}$  : 1cm

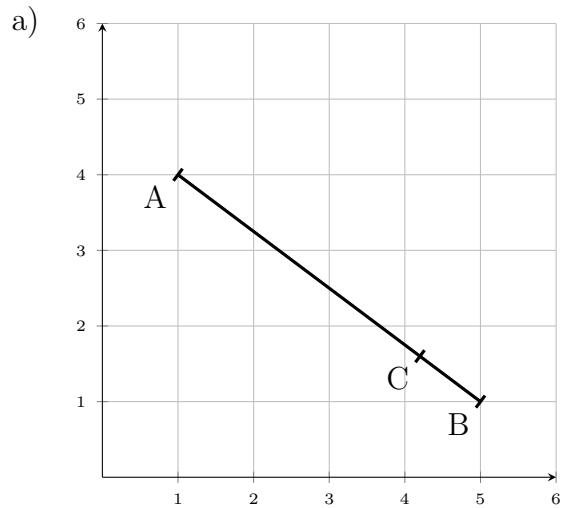


Länge der Strecke  $\overline{AC}$  : 2cm

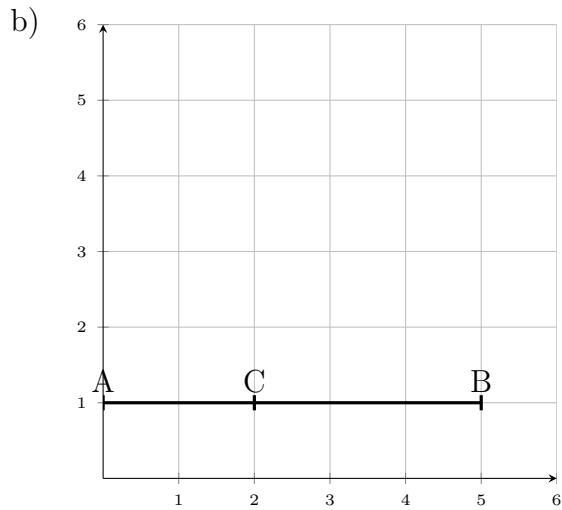
Aufgabe 3

Miss die Länge der angegebenen Strecke auf einen Millimeter genau.

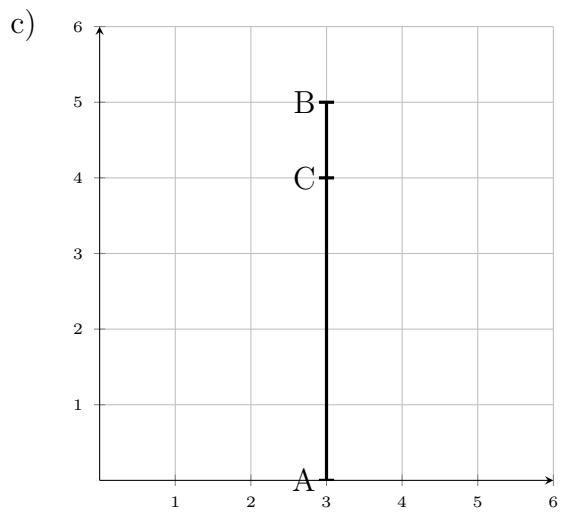
Quick:  
5490



Länge der Strecke  $\overline{CB}$  : 1cm



Länge der Strecke  $\overline{CB}$  : 3cm

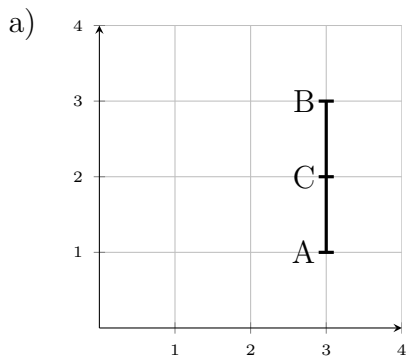


Länge der Strecke  $\overline{CB}$  : 1cm

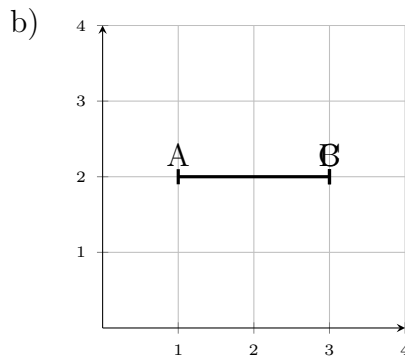
Aufgabe 4

Miss die Länge der angegebenen Strecke auf einen Millimeter genau.

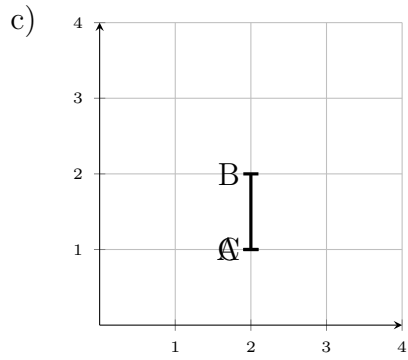
Quick:  
5490



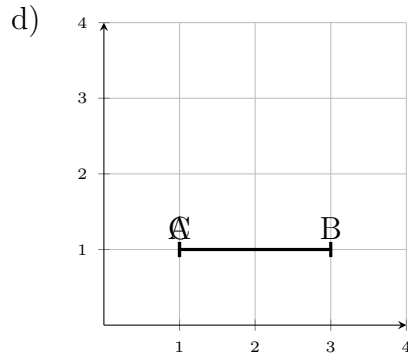
Länge der Strecke  $\overline{CB}$  : 1cm



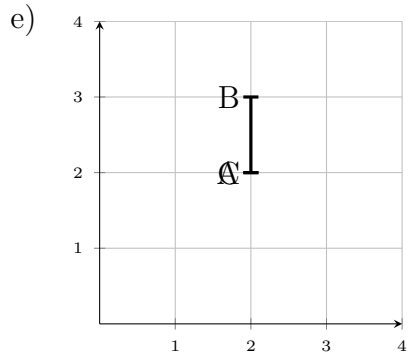
Länge der Strecke  $\overline{AC}$  : 2cm



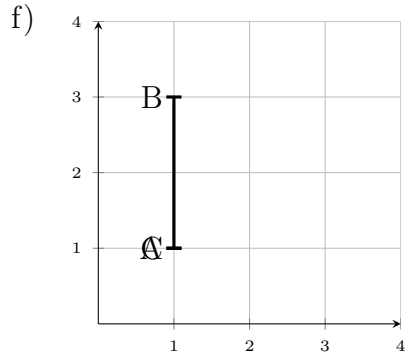
Länge der Strecke  $\overline{CB}$  : 1cm



Länge der Strecke  $\overline{AC}$  : 0cm



Länge der Strecke  $\overline{CB}$  : 1cm



Länge der Strecke  $\overline{CB}$  : 2cm

Viel Erfolg!