

Arbeitsblatt

28.07.2013

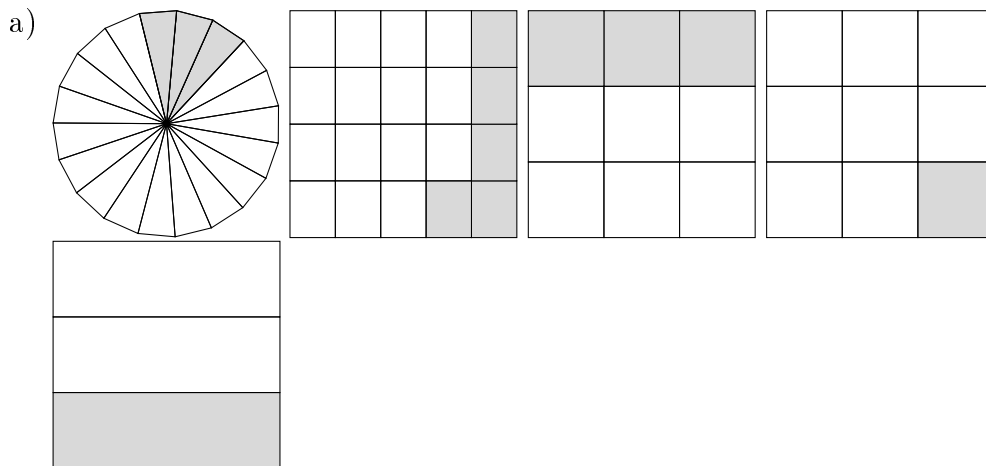
Kostenlos auf dw-aufgaben.de

Aufgaben-Quickname: 5976

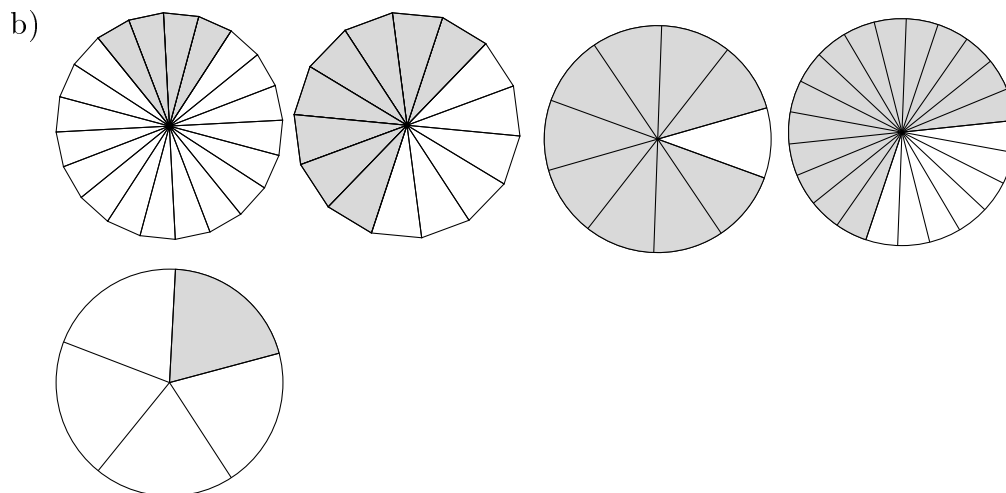
Aufgabe 1

Bei welchen beiden Figuren ist der gleiche Bruchteil markiert?

Quick:
5976



Die Figuren stehen an Position 3 und 5. Der Wert des Bruches ist jeweils $\frac{1}{3}$.

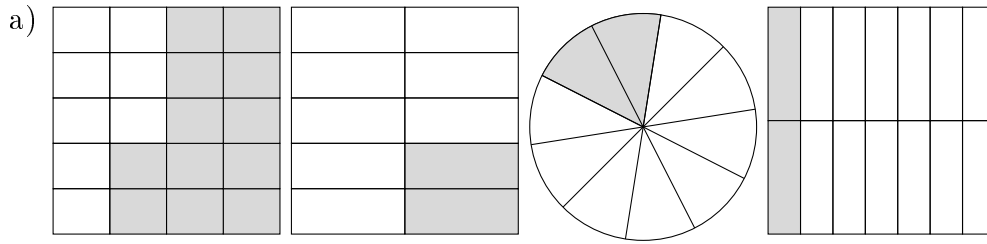


Die Figuren stehen an Position 1 und 5. Der Wert des Bruches ist jeweils $\frac{1}{5}$.

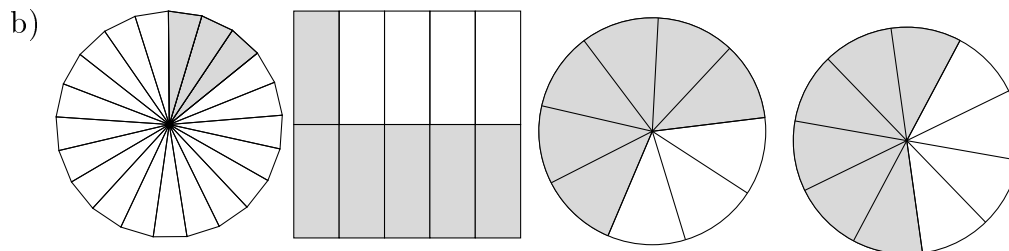
Aufgabe 2

Quick:
5976

Bei welchen beiden Figuren ist der gleiche Bruchteil markiert?



Die Figuren stehen an Position 2 und 3. Der Wert des Bruches ist jeweils $\frac{1}{5}$.

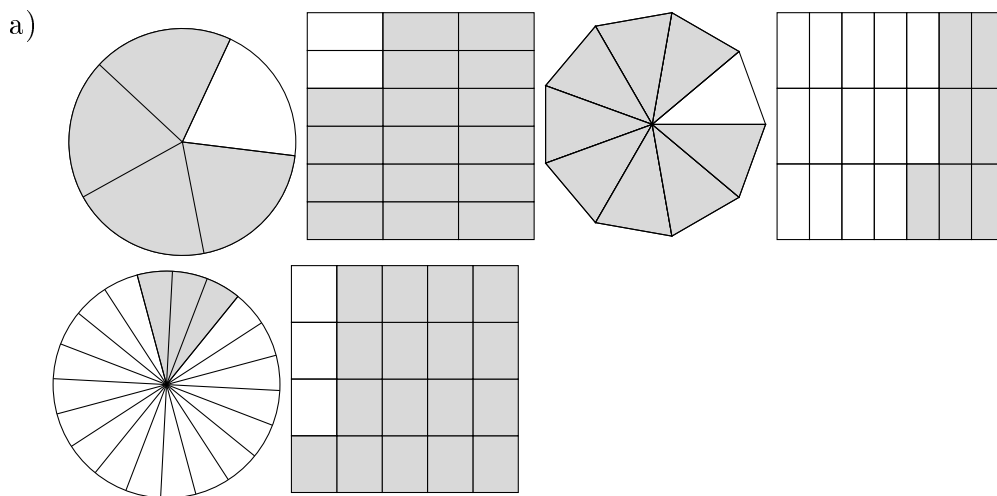


Die Figuren stehen an Position 2 und 4. Der Wert des Bruches ist jeweils $\frac{3}{5}$.

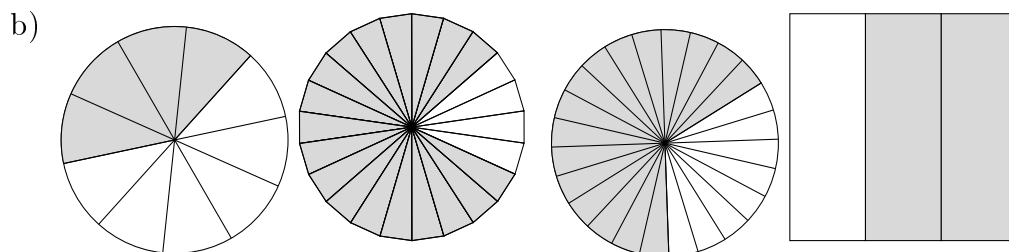
Aufgabe 3

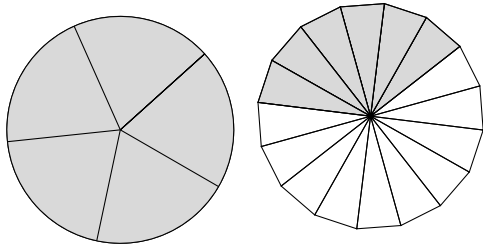
Quick:
5976

Bei welchen beiden Figuren ist der gleiche Bruchteil markiert?



Die Figuren stehen an Position 2 und 3. Der Wert des Bruches ist jeweils $\frac{8}{9}$.





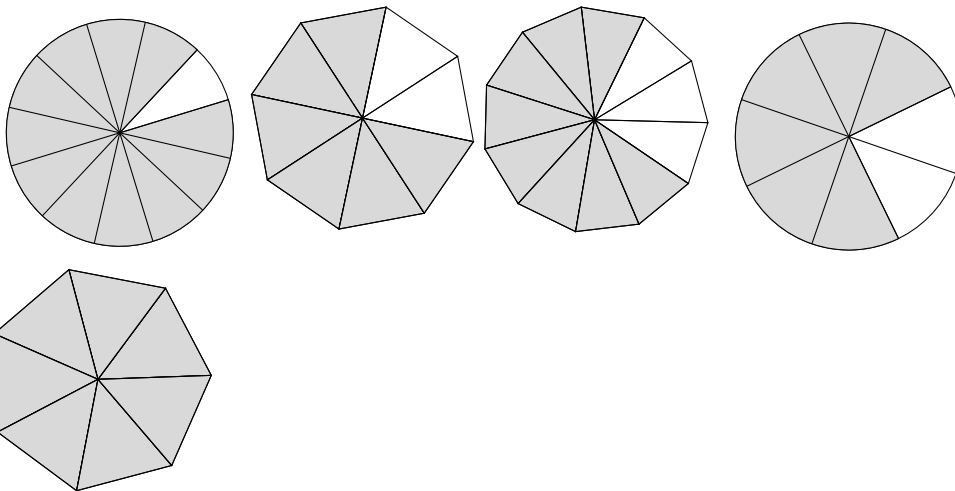
Die Figuren stehen an Position 3 und 4. Der Wert des Bruches ist jeweils $\frac{2}{3}$.

Aufgabe 4

Bei welchen beiden Figuren ist der gleiche Bruchteil markiert?

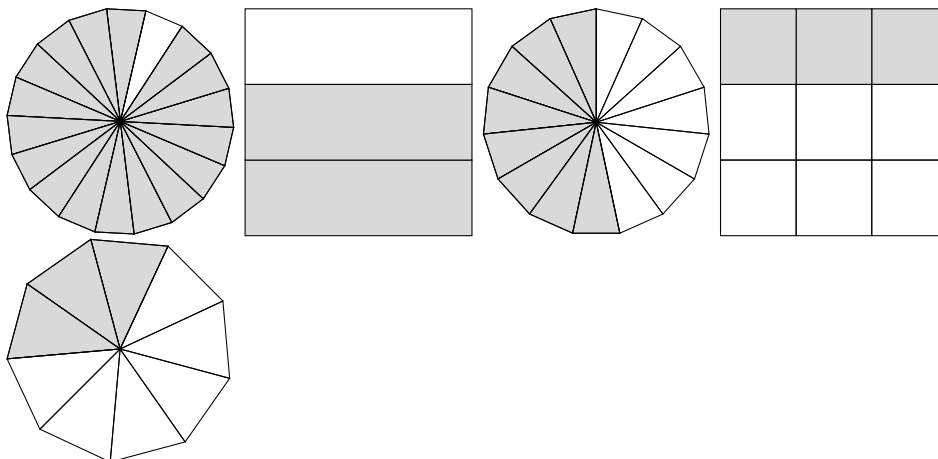
Quick:
5976

a)



Die Figuren stehen an Position 2 und 4. Der Wert des Bruches ist jeweils $\frac{3}{4}$.

b)



Die Figuren stehen an Position 4 und 5. Der Wert des Bruches ist jeweils $\frac{1}{3}$.

Viel Erfolg!