

Arbeitsblatt

12.04.2014

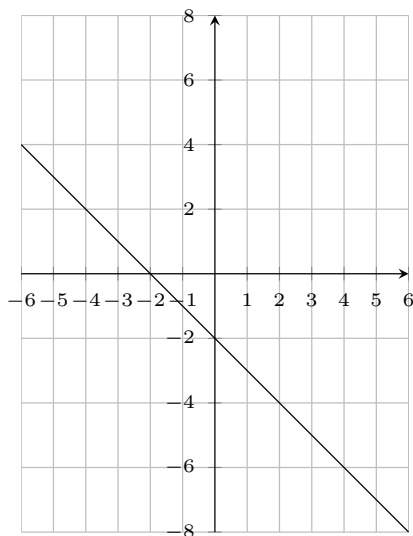
Kostenlos auf dw-aufgaben.de

Aufgaben-Quickname: 6030

Aufgabe 1

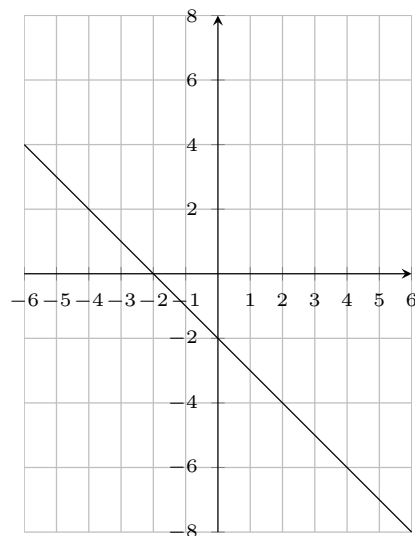
Vervollständige die Geradengleichung für die dargestellte Gerade.

a)



$$y = -x \quad \square \quad \square$$

b)

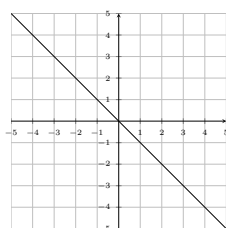


$$y = -x \quad \square \quad \square$$

Aufgabe 2

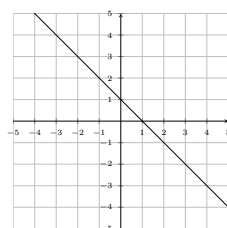
Vervollständige die Geradengleichung für die dargestellte Gerade.

a)



$$y = -x \quad \square \quad \square$$

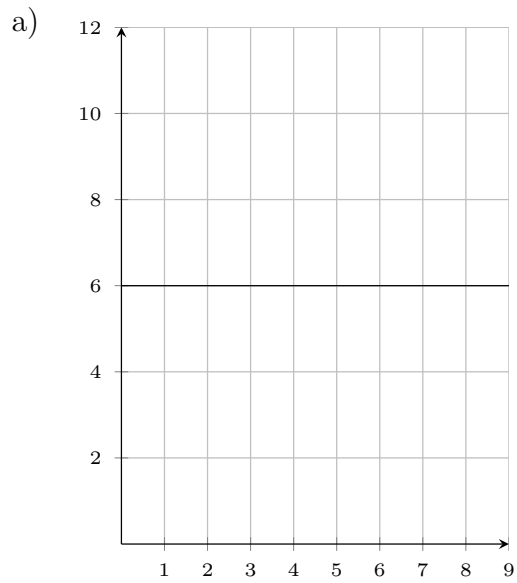
b)



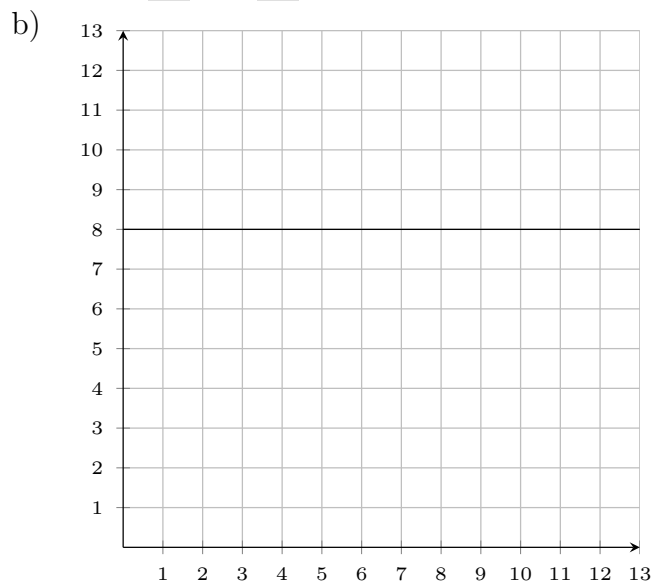
$$y = -\square x + \square$$

Aufgabe 3

Vervollständige die Geradengleichung für die dargestellte Gerade.



$$y = + \blacksquare x + \blacksquare$$

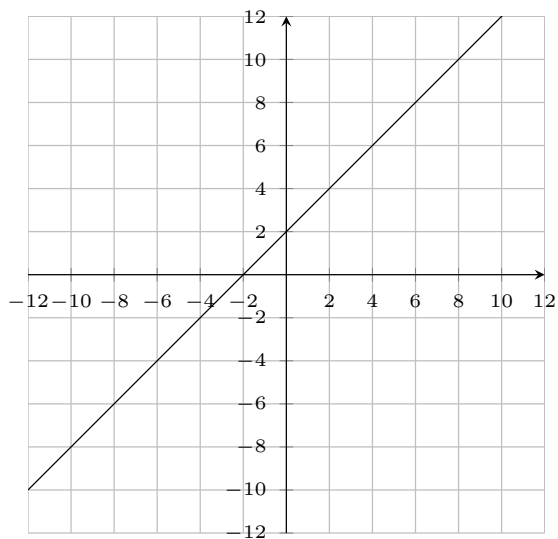


$$y = \frac{0}{1}x + \blacksquare$$

Aufgabe 4

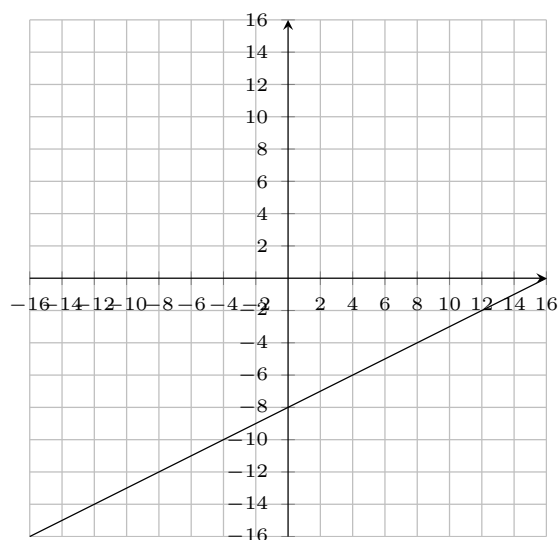
Vervollständige die Geradengleichung für die dargestellte Gerade.

a)



$$y = x + \blacksquare$$

b)



$$y = \blacksquare x - 8$$

Viel Erfolg!