

Arbeitsblatt

12.04.2014

Kostenlos auf dw-aufgaben.de

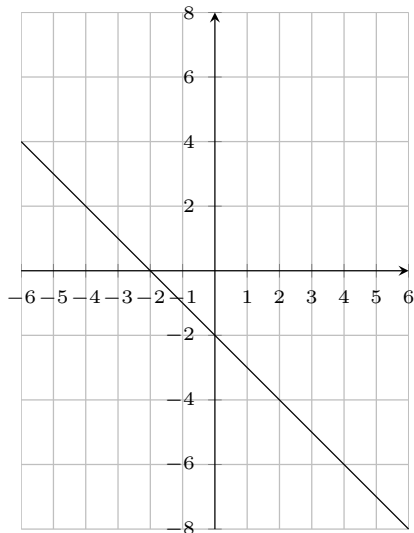
Aufgaben-Quickname: 6030

Aufgabe 1

Vervollständige die Geradengleichung für die dargestellte Gerade.

Quick:
6030

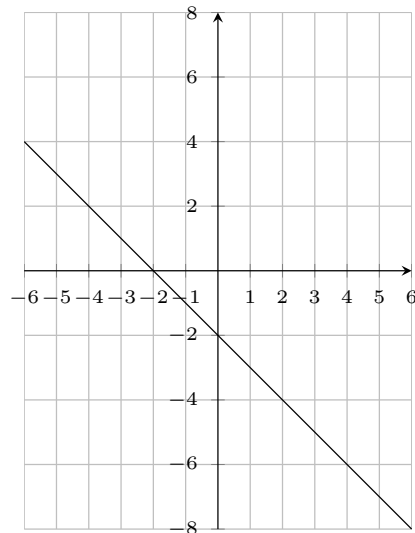
a)



$$y = -x - 2$$

$$y = -x - 2$$

b)



$$y = -x - 2$$

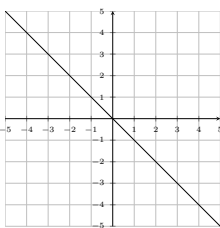
$$y = -x - 2$$

Aufgabe 2

Vervollständige die Geradengleichung für die dargestellte Gerade.

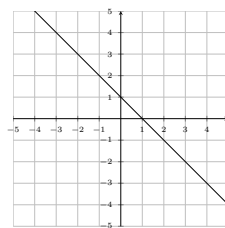
Quick:
6030

a)



$$y = -x$$

b)

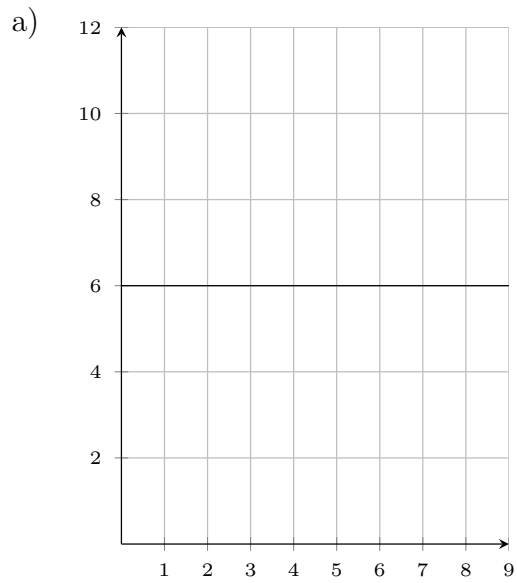


$$y = -x + 1$$

$$y = -x + 1$$

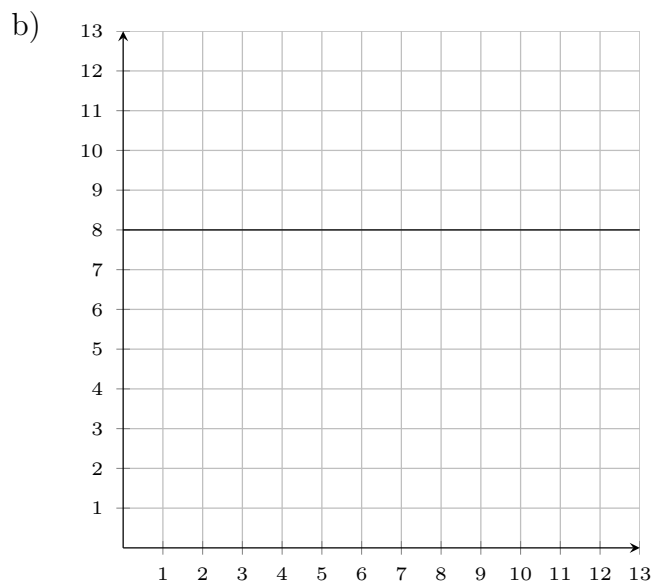
Aufgabe 3

Vervollständige die Geradengleichung für die dargestellte Gerade.



$$y = 6$$

$$y = 6$$



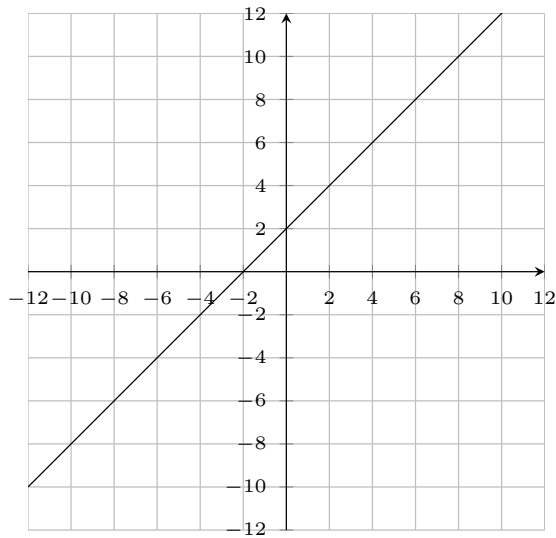
$$y = 8$$

$$y = 8$$

Aufgabe 4

Vervollständige die Geradengleichung für die dargestellte Gerade.

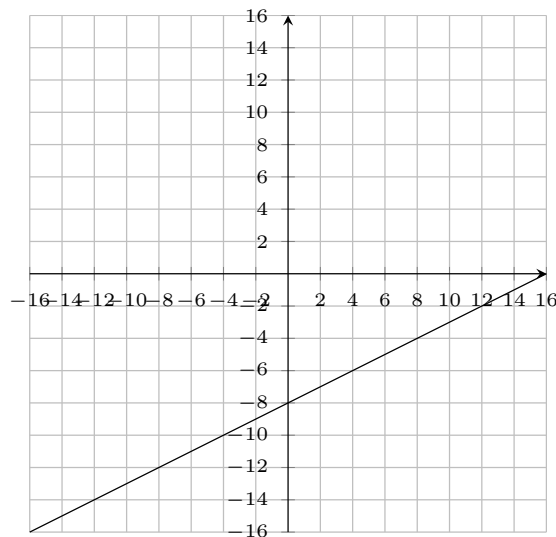
a)



$$y = x + 2$$

$$y = x + 2$$

b)



$$y = \frac{1}{2}x - 8$$

$$y = 0,5x - 8$$

Viel Erfolg!