

Arbeitsblatt

28.07.2013

Kostenlos auf dw-aufgaben.de


Aufgaben-Quickname: 6353

Aufgabe 1

Das Rechteck stellt eine Fläche im angegebenen Maßstab dar. Welche Fläche hat es in der Darstellung? Welche Länge, Breite und Fläche hat es in Wirklichkeit?




Maßstab:1:125000



Maßstab:1:100000

Aufgabe 2

Das Rechteck stellt eine Fläche im angegebenen Maßstab dar. Welche Fläche hat es in der Darstellung? Welche Länge, Breite und Fläche hat es in Wirklichkeit?




Maßstab:1:5


Aufgabe 3

Das Rechteck stellt eine Fläche im angegebenen Maßstab dar. Welche Länge und

Breite hat es in Wirklichkeit?



Maßstab:1:10



Maßstab:1:100


Aufgabe 4

Das Rechteck stellt eine Fläche im angegebenen Maßstab dar. Welche Fläche hat es in der Darstellung? Welche Länge, Breite und Fläche hat es in Wirklichkeit?



Maßstab:1:125000

b)



Maßstab:1:125000

Viel Erfolg!