

# Arbeitsblatt

16.06.2014

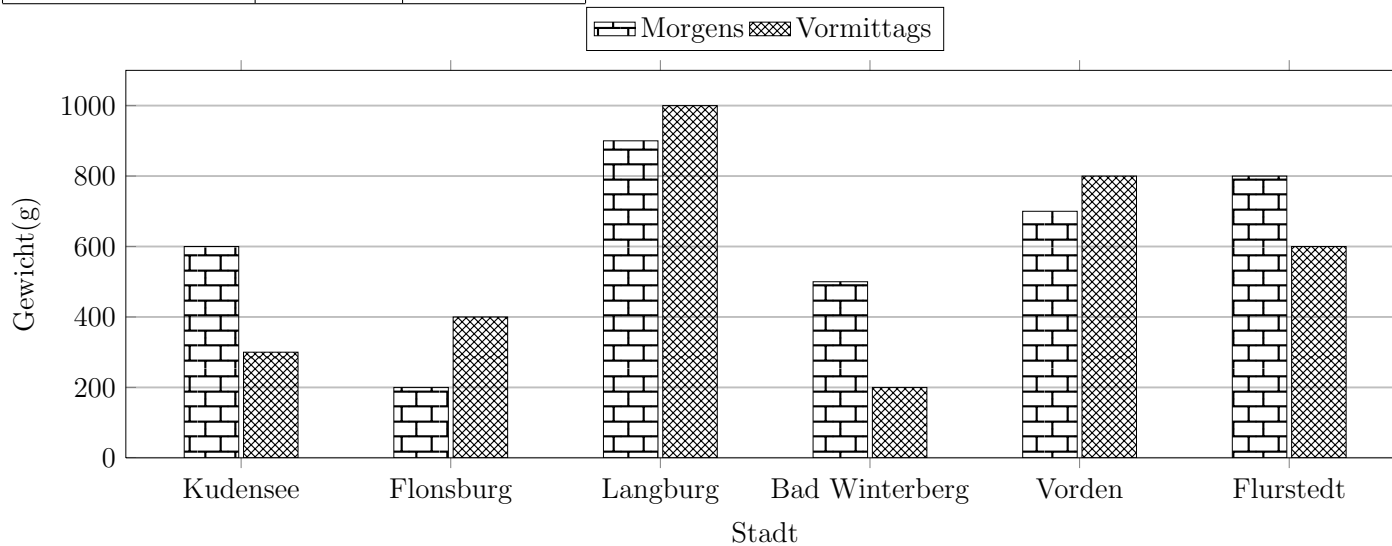
Kostenlos auf [dw-aufgaben.de](http://dw-aufgaben.de)

Aufgaben-Quickname: 7623

## Aufgabe 1

Vervollständige die Tabelle mit den Werten aus dem Diagramm.

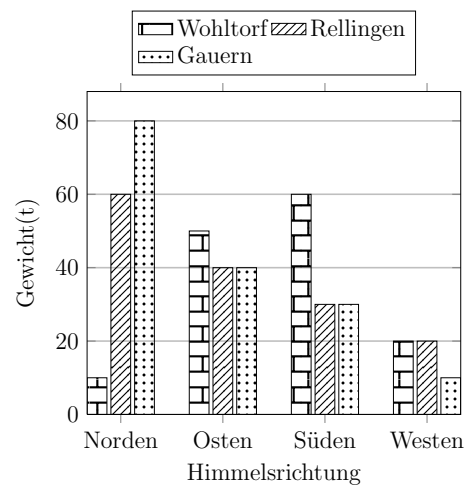
Stadt	Gewicht(g)	
	Morgens	Vormittags
Kudensee		
Flonsburg		
Langburg		
Bad Winterberg		
Vorden		
Flurstedt		



### Aufgabe 2

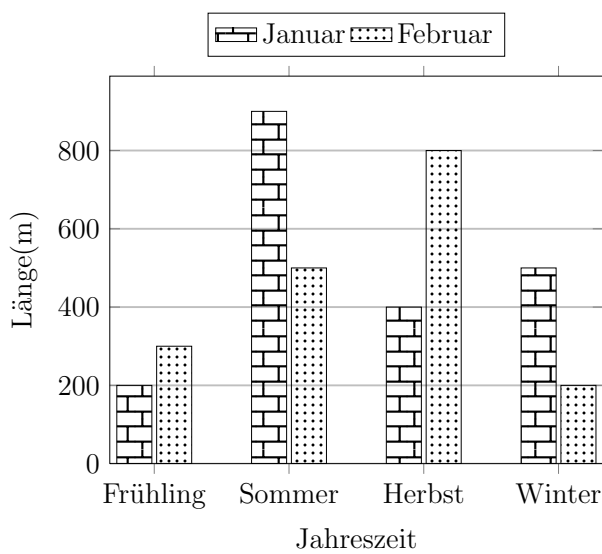
Vervollständige die Tabelle mit den Werten aus dem Diagramm.

Himmelsrichtung	Gewicht(t)		
	Wohltorf	Rellingen	Gauern
Norden			
Osten			40
Süden			
Westen	20		



### Aufgabe 3

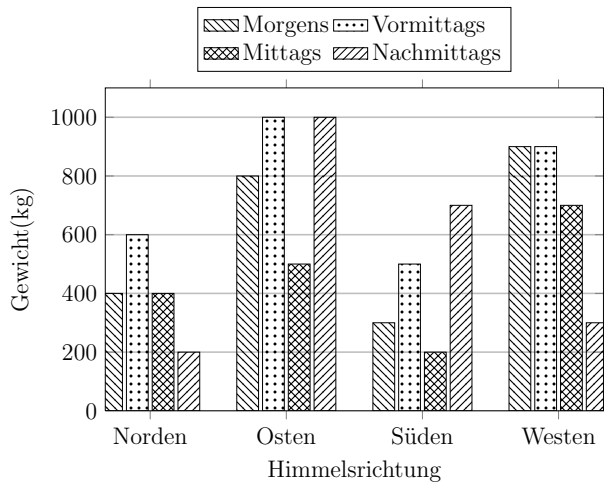
Erstelle zu diesem Säulendiagramm eine Tabelle mit den Werten aus dem Diagramm.



### Aufgabe 4

Vervollständige die Tabelle mit den Werten aus dem Diagramm.

Himmelsrichtung	Gewicht(kg)			
	Morgens	Vormittags	Mittags	Nachmittags
Norden				
Osten				
Süden				
Westen				



Viel Erfolg!