

Arbeitsblatt

28.07.2013

Kostenlos auf dw-aufgaben.de

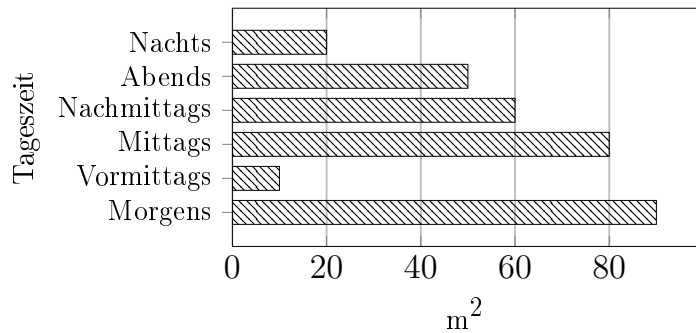
Aufgaben-Quickname: 7866

Aufgabe 1

Vervollständige das Balkendiagramm. Beschrifte dabei die X-Achse mit Fläche, die Y-Achse mit Tageszeit.

Quick:
7866

Tageszeit	Fläche(m ²)
Morgens	90
Vormittags	10
Mittags	80
Nachmittags	60
Abends	50
Nachts	20

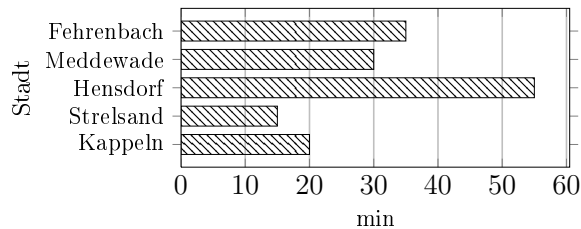


Aufgabe 2

Vervollständige das Balkendiagramm.

Quick:
7866

Stadt	Zeit(min)
Kappeln	20
Strelsand	15
Hensdorf	55
Meddewade	30
Fehrenbach	35

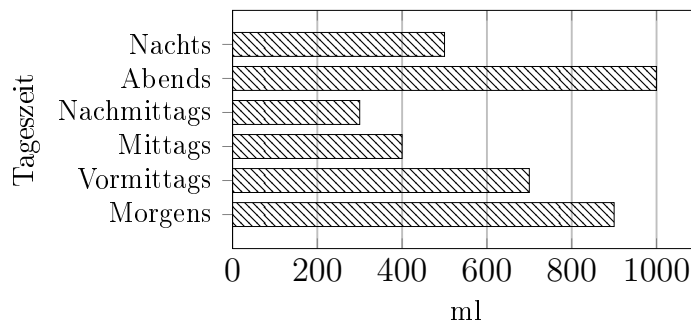


Aufgabe 3

Vervollständige das Balkendiagramm.

Quick:
7866

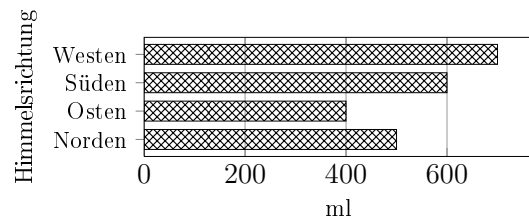
Tageszeit	Menge(ml)
Morgens	900
Vormittags	700
Mittags	400
Nachmittags	300
Abends	1000
Nachts	500



Aufgabe 4Quick:
7866

Vervollständige das Balkendiagramm. Beschrifte dabei die X-Achse mit Menge, die Y-Achse mit Himmelsrichtung.

Himmelsrichtung	Menge(ml)
Norden	500
Osten	400
Süden	600
Westen	700



Viel Erfolg!