

Arbeitsblatt

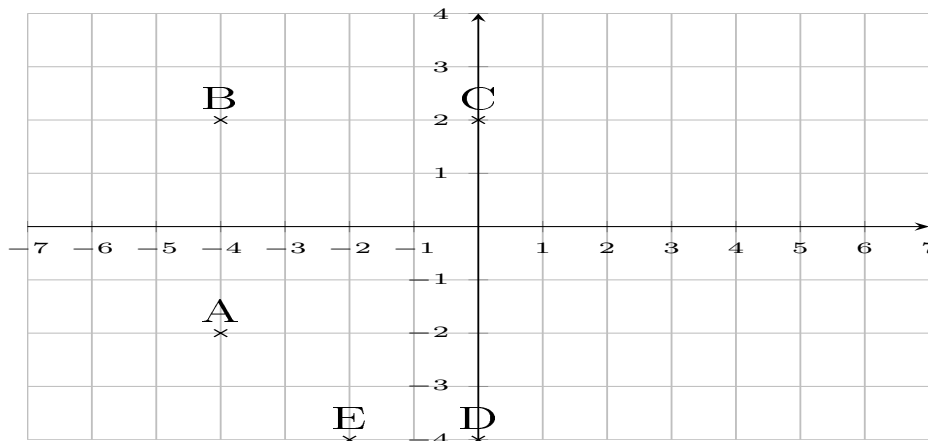
30.12.2013

Kostenlos auf dw-aufgaben.de

Aufgaben-Quickname: 5233

Aufgabe 1

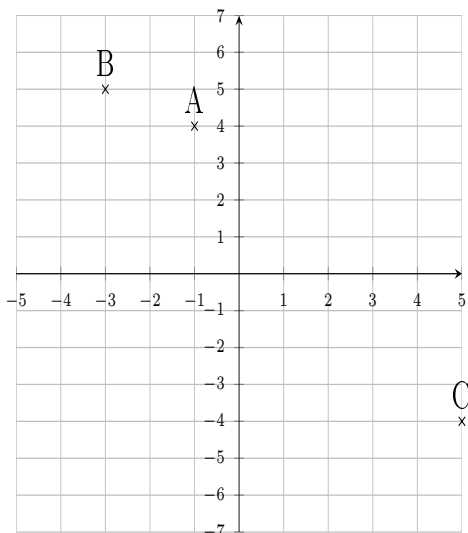
Zeichne die Punkte in ein passendes Koordinatensystem ein.

Quick:
5233

A(-4|-2), B(-4|2), C(0|2), D(0|-4), E(-2|-4)

Aufgabe 2

Zeichne die Punkte in ein passendes Koordinatensystem ein.

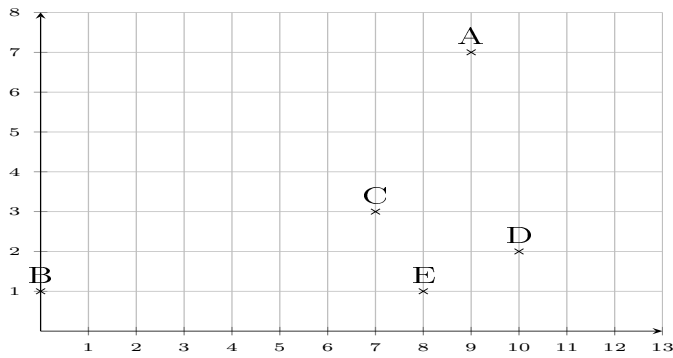
Quick:
5233

A(-1|4), B(-3|5), C(5|-4)

Aufgabe 3

Quick:
5233

Zeichne die Punkte in ein passendes Koordinatensystem ein.

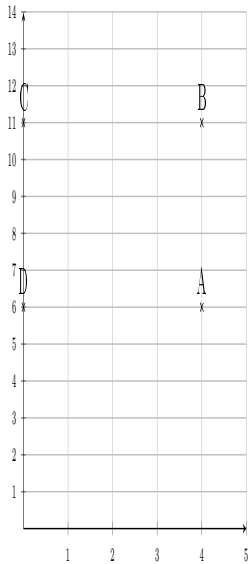


$A(9|7)$, $B(0|1)$, $C(7|3)$, $D(10|2)$, $E(8|1)$

Aufgabe 4

Quick:
5233

Zeichne die Punkte in das Koordinatensystem ein.



$A(4|6)$, $B(4|11)$, $C(0|11)$, $D(0|6)$

Viel Erfolg!