

Arbeitsblatt




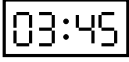
12.11.2013

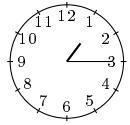
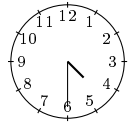
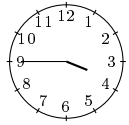
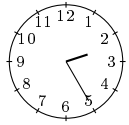
Kostenlos auf dw-aufgaben.de

Aufgaben-Quickname: 5922

Aufgabe 1

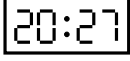
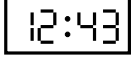
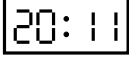
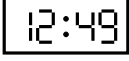
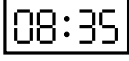
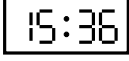
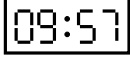
Zu jeder Uhr in der oberen Reihe gibt es eine Uhr in der unteren Reihe, die die gleiche Uhrzeit anzeigt. Ordne diese Uhren richtig zu!



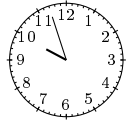




			
A	B	C	D

1	2	3	4
			

Aufgabe 2

Zu jeder Uhr in der oberen Reihe gibt es eine Uhr in der unteren Reihe, die die gleiche Uhrzeit anzeigt. Ordne diese Uhren richtig zu!

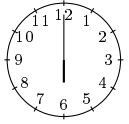
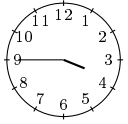
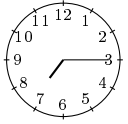
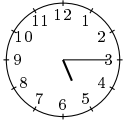

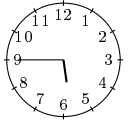

						
A	B	C	D	E	F	G

1	2	3	4	5	6	7
						

Aufgabe 3

Zu jeder Uhr in der oberen Reihe gibt es eine Uhr in der unteren Reihe, die die gleiche

Uhrzeit anzeigt. Ordne diese Uhren richtig zu!








						
A	B	C	D	E	F	G

1	2	3	4	5	6	7
05:45	06:00	18:30	15:45	11:00	07:15	17:15

Aufgabe 4

Zu jeder Uhr in der oberen Reihe gibt es eine Uhr in der unteren Reihe, die die gleiche Uhrzeit anzeigt. Ordne diese Uhren richtig zu!

02:57	05:49	04:56	10:30	16:25	12:47	05:10
A	B	C	D	E	F	G

1	2	3	4	5	6	7
						

Viel Erfolg!