

Arbeitsblatt

12.04.2014

Kostenlos auf dw-aufgaben.de

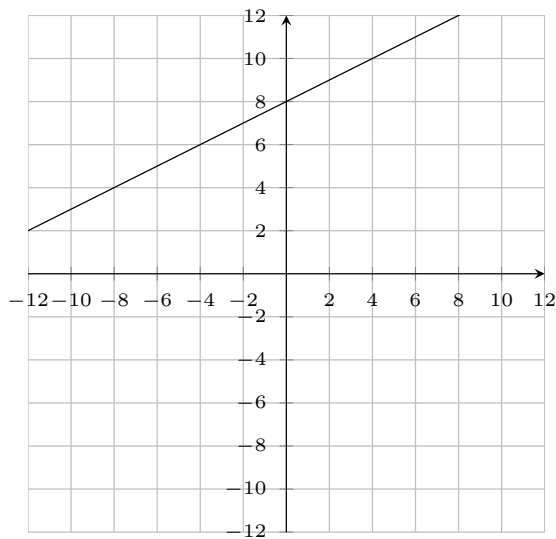
Aufgaben-Quickname: 6030

Aufgabe 1

Vervollständige die Geradengleichung für die dargestellte Gerade.

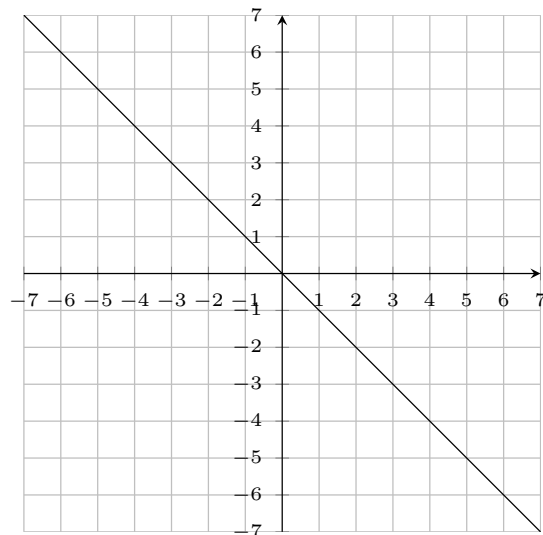
Quick:
6030

a)



$$y = \frac{1}{2}x + 8$$
$$y = 0,5x + 8$$

b)

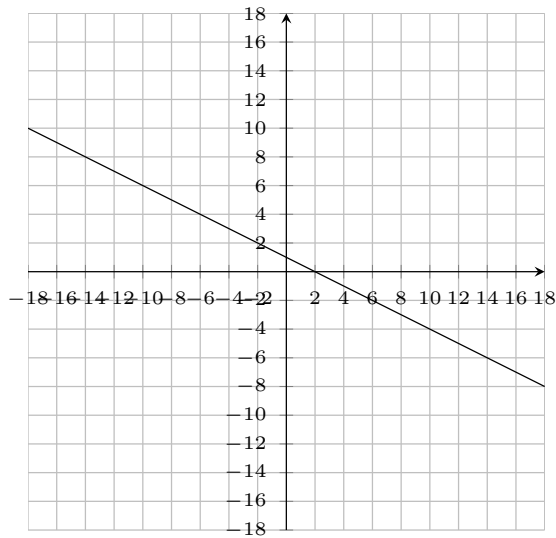


$$y = -x$$

Aufgabe 2Quick:
6030

Vervollständige die Geradengleichung für die dargestellte Gerade.

a)



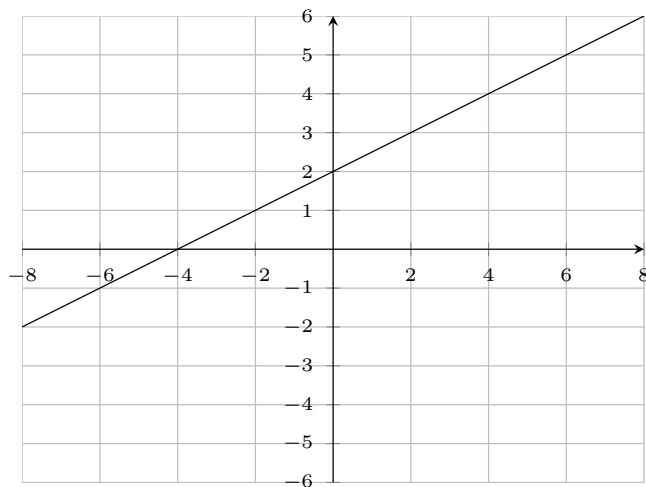
$$y = -\frac{1}{2}x + 1$$

$$y = -0,5x + 1$$

Aufgabe 3Quick:
6030

Vervollständige die Geradengleichung für die dargestellte Gerade.

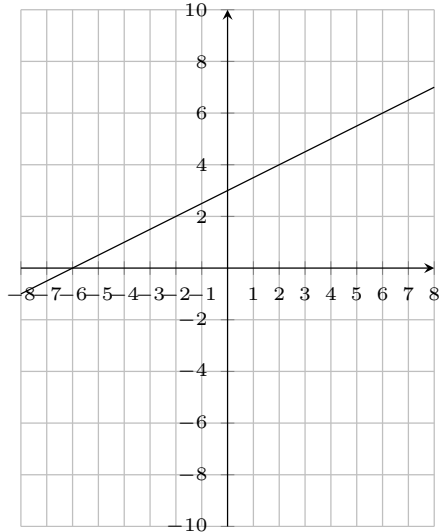
a)



$$y = \frac{1}{2}x + 2$$

$$y = 0,5x + 2$$

b)



$$y = \frac{1}{2}x + 3$$

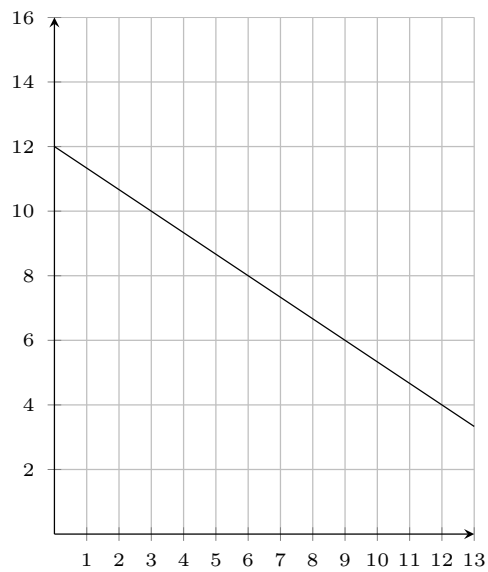
$$y = 0,5x + 3$$

Aufgabe 4

Vervollständige die Geradengleichung für die dargestellte Gerade.

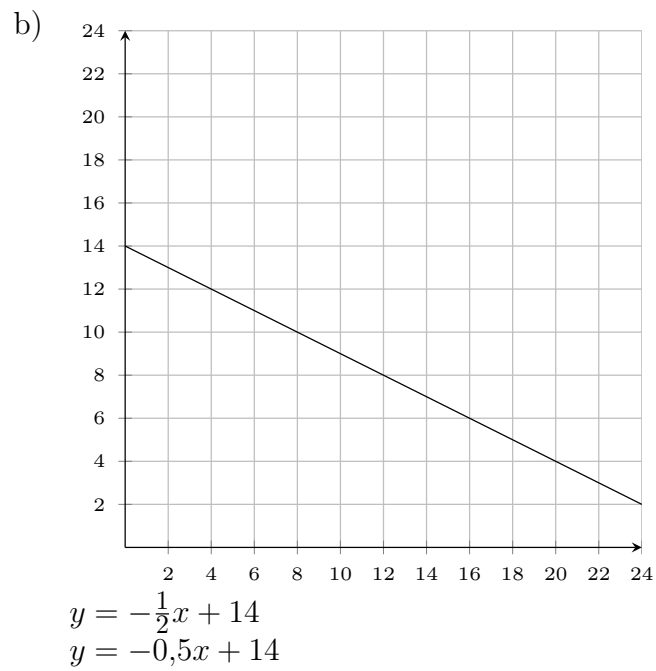
Quick:
6030

a)



$$y = -\frac{2}{3}x + 12$$

$$y = -0,67x + 12$$



Viel Erfolg!