

Arbeitsblatt

28.07.2013

Kostenlos auf dw-aufgaben.de

Aufgaben-Quickname: 6272

Aufgabe 1

Wie viel Zeit ist zwischen linkem und rechtem Uhrenstand mindestens vergangen?

a) $\boxed{09:34} \xrightarrow{+ \blacksquare} \boxed{17:20}$

b) $\boxed{04:29} \xrightarrow{+ \blacksquare} \boxed{10:23}$

c) $\boxed{09:00} \xrightarrow{+ \blacksquare} \boxed{18:08}$

d) $\boxed{10:39} \xrightarrow{+ \blacksquare} \boxed{19:43}$

e) $\boxed{07:45} \xrightarrow{+ \blacksquare} \boxed{17:23}$

f) $\boxed{00:24} \xrightarrow{+ \blacksquare} \boxed{01:15}$

g) $\boxed{03:24} \xrightarrow{+ \blacksquare} \boxed{04:03}$

h) $\boxed{08:12} \xrightarrow{+ \blacksquare} \boxed{11:51}$

i) $\boxed{03:49} \xrightarrow{+ \blacksquare} \boxed{09:02}$

j) $\boxed{02:08} \xrightarrow{+ \blacksquare} \boxed{07:39}$

Aufgabe 2

Wie viel Zeit ist zwischen linkem und rechtem Uhrenstand mindestens vergangen?

a) $\boxed{02:07} \xrightarrow{+ \blacksquare} \boxed{02:36}$

b) $\boxed{09:32} \xrightarrow{+ \blacksquare} \boxed{09:37}$

c) $\boxed{08:35} \xrightarrow{+ \blacksquare} \boxed{08:45}$

d) $\boxed{10:45} \xrightarrow{+ \blacksquare} \boxed{10:48}$

e) $\boxed{02:16} \xrightarrow{+ \blacksquare} \boxed{02:32}$

f) $\boxed{08:24} \xrightarrow{+ \blacksquare} \boxed{08:28}$

g) $\boxed{01:04} \xrightarrow{+ \blacksquare} \boxed{01:32}$

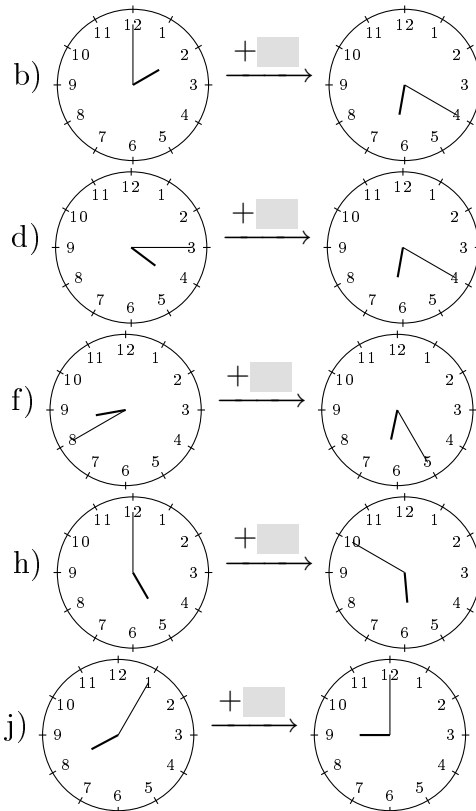
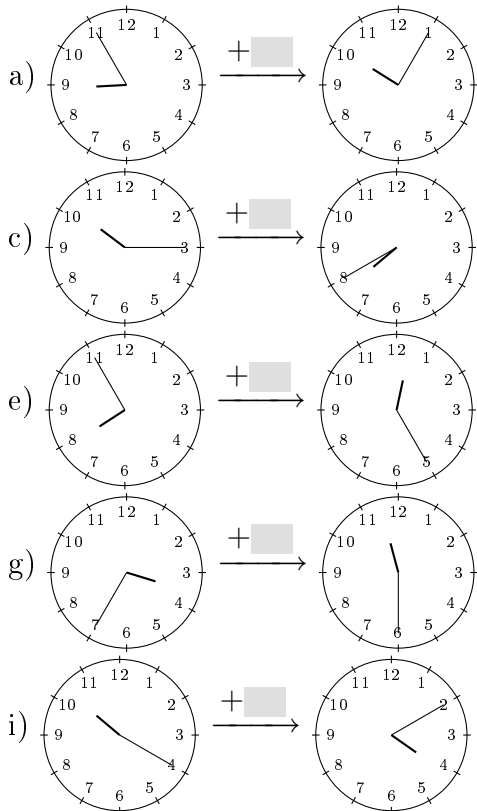
h) $\boxed{01:16} \xrightarrow{+ \blacksquare} \boxed{01:19}$

i) $\boxed{06:34} \xrightarrow{+ \blacksquare} \boxed{06:50}$

j) $\boxed{01:31} \xrightarrow{+ \blacksquare} \boxed{01:52}$

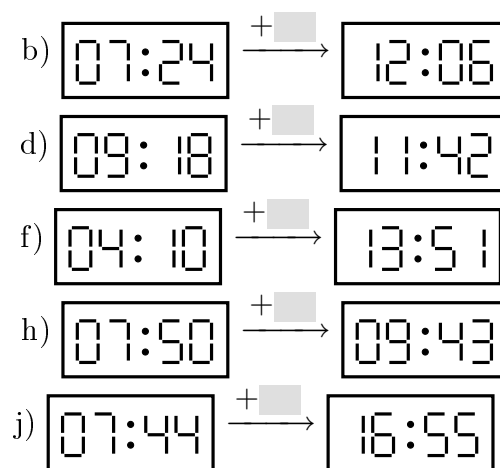
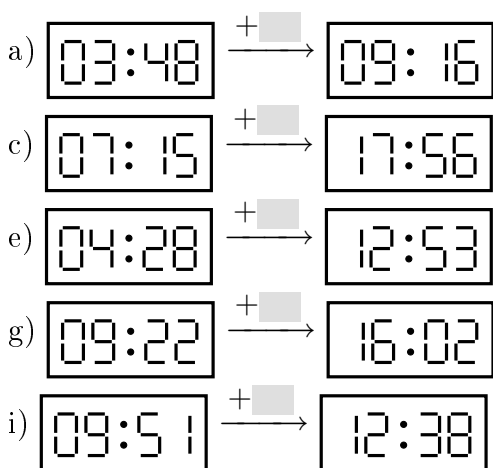
Aufgabe 3

Wie viel Zeit ist zwischen linkem und rechtem Uhrenstand mindestens vergangen?



Aufgabe 4

Wie viel Zeit ist zwischen linkem und rechtem Uhrenstand mindestens vergangen?



Viel Erfolg!