

# Arbeitsblatt

16.06.2014

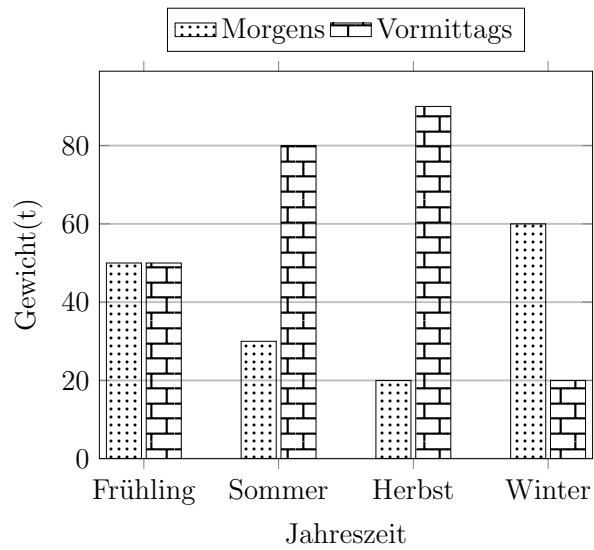
Kostenlos auf [dw-aufgaben.de](http://dw-aufgaben.de)

Aufgaben-Quickname: 7623

## Aufgabe 1

Vervollständige die Tabelle mit den Werten aus dem Diagramm.

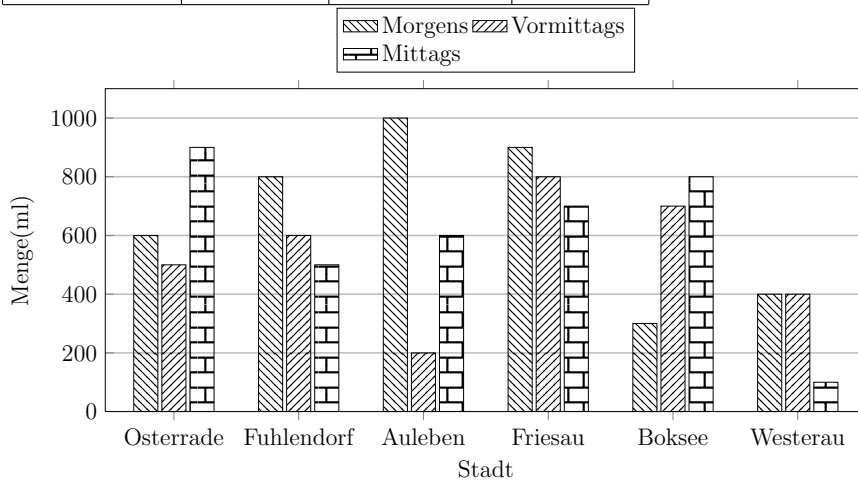
Jahreszeit	Gewicht(t)	
	Morgens	Vormittags
Frühling		
Sommer		
Herbst		
Winter		20



## Aufgabe 2

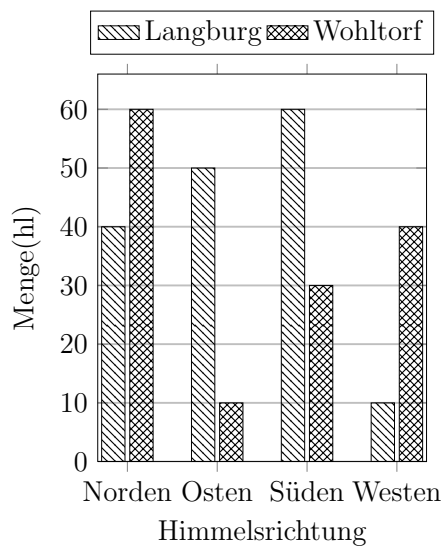
Vervollständige die Tabelle mit den Werten aus dem Diagramm.

Stadt	Menge(ml)		
	Morgens	Vormittags	Mittags
Osterrade	900	200	800
Fuhlendorf			
Auleben			
Friesau			
Boksee			
Westerau			



## Aufgabe 3

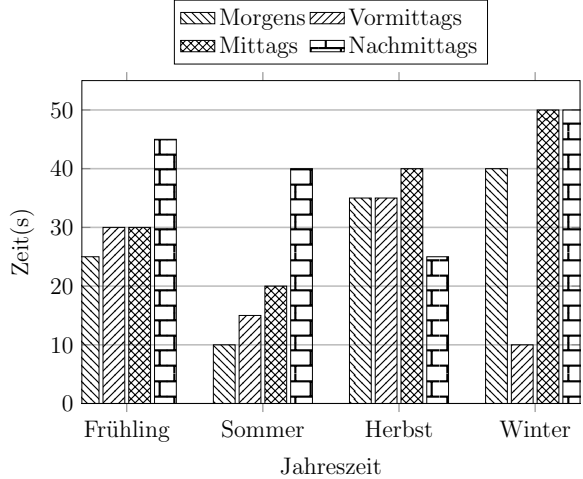
Erstelle zu diesem Säulendiagramm eine Tabelle mit den Werten aus dem Diagramm.



Aufgabe 4

Vervollständige die Tabelle mit den Werten aus dem Diagramm.

	Zeit(s)			
Jahreszeit	Morgens	Vormittags	Mittags	Nachmittags
Frühling				
Sommer				
Herbst				
Winter				



Viel Erfolg!