

Arbeitsblatt

28.07.2013

Kostenlos auf dw-aufgaben.de

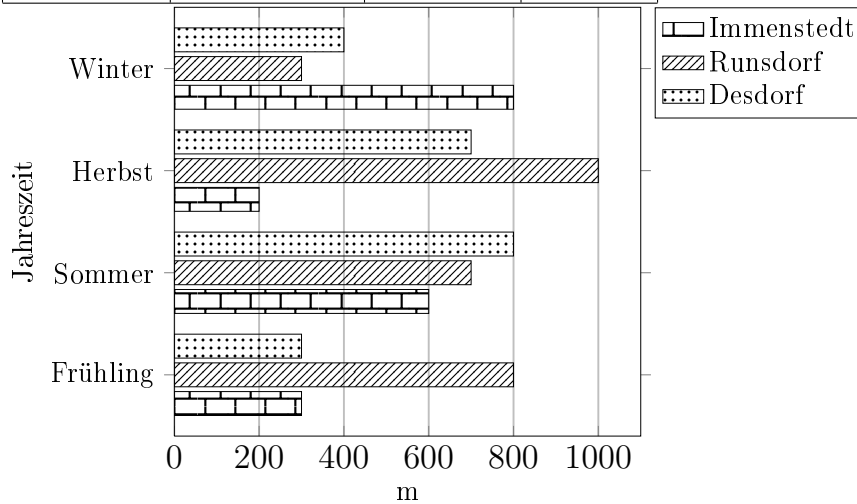
Aufgaben-Quickname: 7704

Aufgabe 1

Vervollständige das Balkendiagramm. Beschrifte dabei die X-Achse mit Länge, die Y-Achse mit Jahreszeit.

Quick:
7704

Jahreszeit	Länge(m)		
	Immenstedt	Runsdorf	Desdorf
Frühling	300	800	300
Sommer	600	700	800
Herbst	200	1000	700
Winter	800	300	400

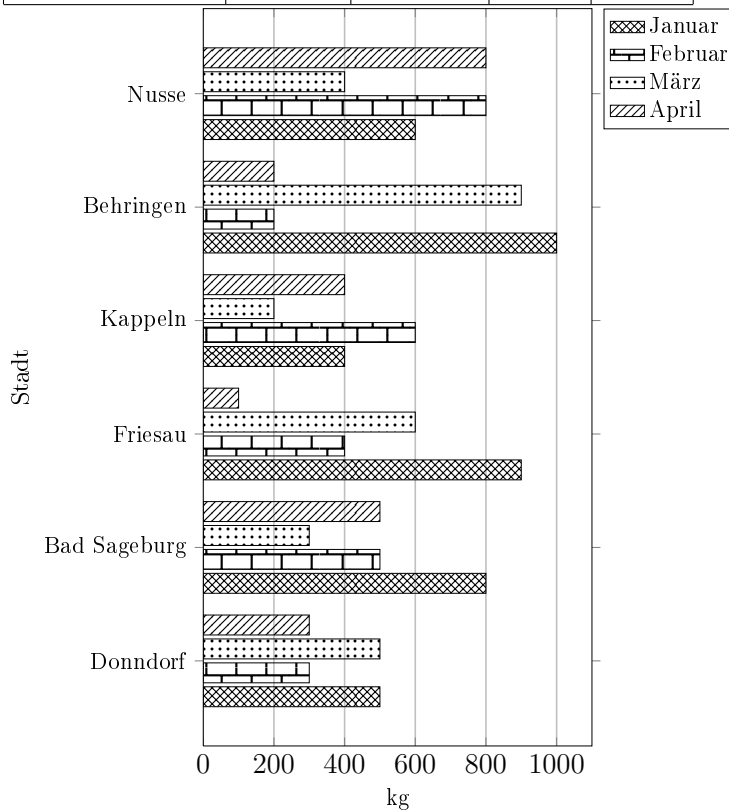


Aufgabe 2

Quick:
7704

Vervollständige das Balkendiagramm.

Stadt	Gewicht(kg)			
	Januar	Februar	März	April
Donndorf	500	300	500	300
Bad Sageburg	800	500	300	500
Friesau	900	400	600	100
Kappeln	400	600	200	400
Behringen	1000	200	900	200
Nusse	600	800	400	800

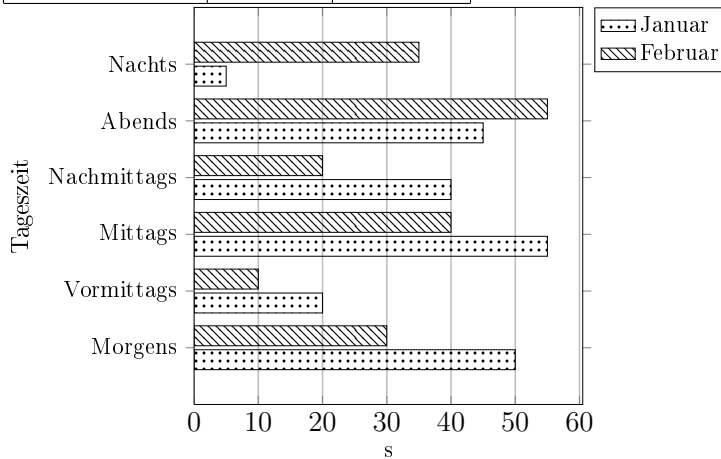


Aufgabe 3

Quick:
7704

Vervollständige das Balkendiagramm.

Tageszeit	Zeit(s)	
	Januar	Februar
Morgens	50	30
Vormittags	20	10
Mittags	55	40
Nachmittags	40	20
Abends	45	55
Nachts	5	35

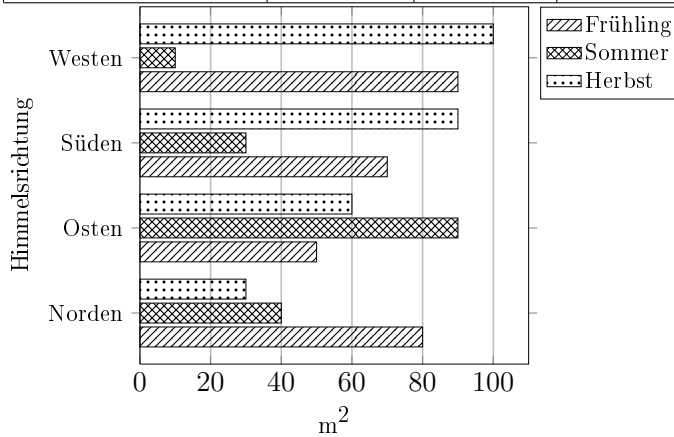


Aufgabe 4

Quick:
7704

Vervollständige das Balkendiagramm.

Himmelsrichtung	Fläche(m ²)		
	Frühling	Sommer	Herbst
Norden	80	40	30
Osten	50	90	60
Süden	70	30	90
Westen	90	10	100



Viel Erfolg!