

Arbeitsblatt

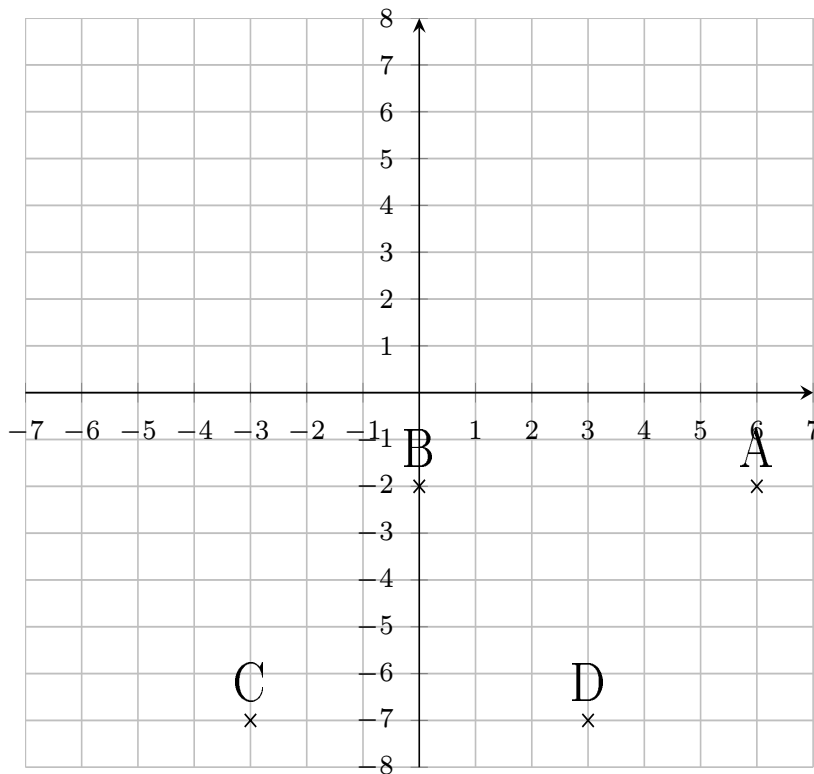
30.12.2013

Kostenlos auf dw-aufgaben.de

Aufgaben-Quickname: 5233

Aufgabe 1

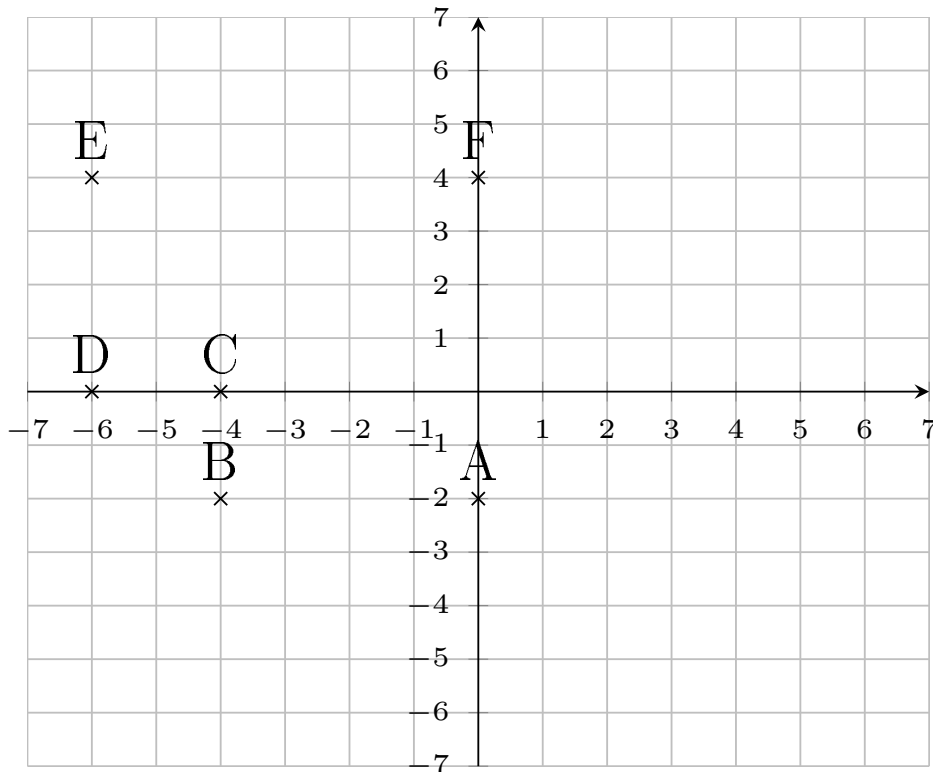
Zeichne die Punkte in das Koordinatensystem ein.

Quick:
5233 $A(6|-2)$, $B(0|-2)$, $C(-3|-7)$, $D(3|-7)$

Aufgabe 2

Quick:
5233

Zeichne die Punkte in ein passendes Koordinatensystem ein.

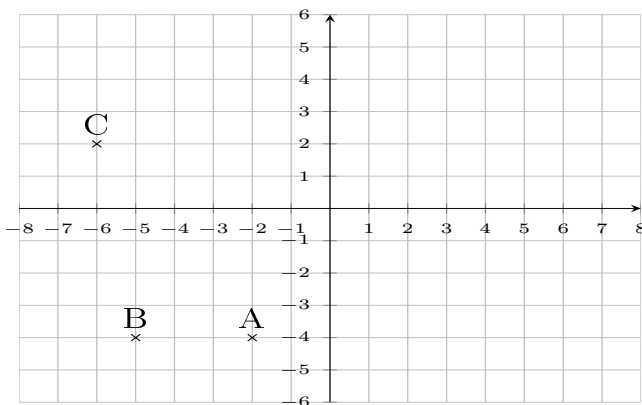


$A(0|-2)$, $B(-4|-2)$, $C(-4|0)$, $D(-6|0)$, $E(-6|4)$, $F(0|4)$

Aufgabe 3

Quick:
5233

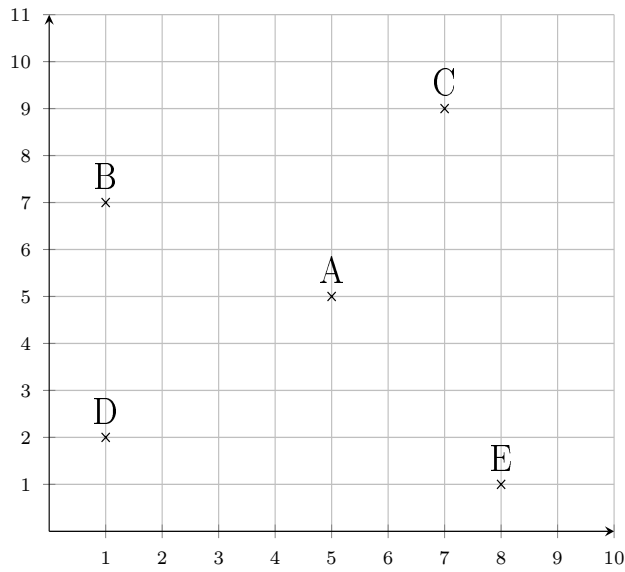
Zeichne die Punkte in ein passendes Koordinatensystem ein.



$A(-2|-4)$, $B(-5|-4)$, $C(-6|2)$

Aufgabe 4Quick:
5233

Zeichne die Punkte in ein passendes Koordinatensystem ein.



A(5|5), B(1|7), C(7|9), D(1|2), E(8|1)

Viel Erfolg!