

Lücken korrekt ausfüllst.

a)

m	g
\square	45
$\cdot 3$	\square
1	\square
\square	\square
45	\square

b)

min	ml
\square	26
\square	$\cdot 23$
1	\square
\square	\square
\square	46

c)

h	g
\square	\square
5	\square
1	680
\square	\square
68	\square

d)

min	dm ²
$\cdot 10$	9
\square	\square
1	\square
\square	\square
3	\square

e)

d	ml
\square	9
\square	$\cdot 38$
1	\square
\square	\square
\square	$\cdot 3$

f)

s	a
\square	4
\square	\square
1	\square
\square	\square
\square	48
	$\cdot 2$

Aufgabe 3

Ergänze diese Tabelle zu einer umgekehrt proportionalen Zuordnung, in dem Du die Lücken korrekt ausfüllst wie im Beispiel a).

a)

km	t
$\cdot 3$	11
\square	$\cdot 3$
1	33
\square	\square
$\cdot 11$	3
11	$\cdot 11$

b)

l	Cent
\square	8
\square	$\cdot 7$
7	\square
\square	\square
$\cdot 2$	\square
\square	\square

c)

t	d
<input type="checkbox"/>	6
<input type="checkbox"/>	11
$\cdot 11$	$\cdot 6$
<input type="checkbox"/>	<input type="checkbox"/>
<input type="checkbox"/>	<input type="checkbox"/>

d)

dm	g
<input type="checkbox"/>	3
<input type="checkbox"/>	88
<input type="checkbox"/>	1
<input type="checkbox"/>	<input type="checkbox"/>
<input type="checkbox"/>	$\cdot 11$

e)

h	cm
<input type="checkbox"/>	3
<input type="checkbox"/>	2
<input type="checkbox"/>	1
<input type="checkbox"/>	<input type="checkbox"/>
<input type="checkbox"/>	$\cdot 2$

f)

dm	g
<input type="checkbox"/>	12
<input type="checkbox"/>	30
$\cdot 30$	1
<input type="checkbox"/>	<input type="checkbox"/>
<input type="checkbox"/>	<input type="checkbox"/>

g)

hl	h
<input type="checkbox"/>	2
<input type="checkbox"/>	8
<input type="checkbox"/>	<input type="checkbox"/>
<input type="checkbox"/>	$\cdot 2$
<input type="checkbox"/>	$\cdot 4$

h)

kg	m
<input type="checkbox"/>	3
<input type="checkbox"/>	96
$\cdot 24$	1
<input type="checkbox"/>	<input type="checkbox"/>
<input type="checkbox"/>	<input type="checkbox"/>

Aufgabe 4

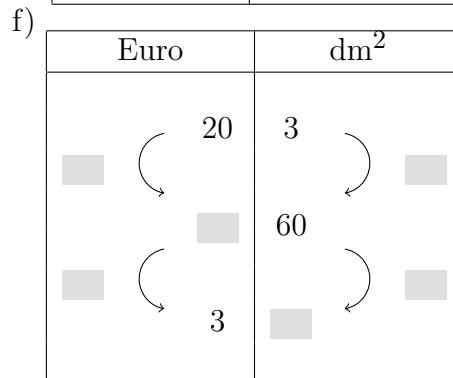
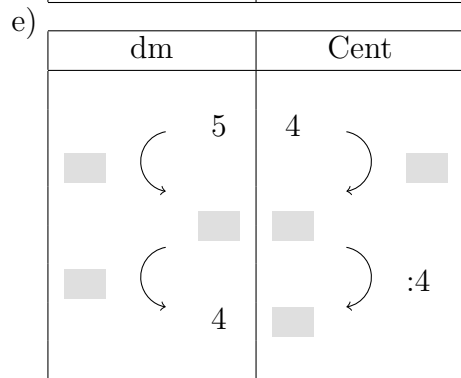
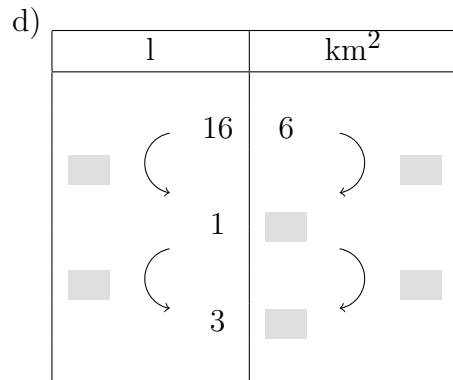
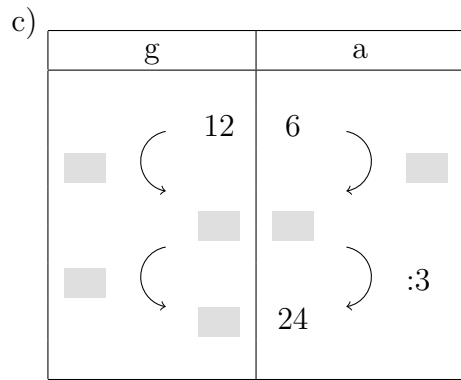
Ergänze diese Tabelle zu einer umgekehrt proportionalen Zuordnung, in dem Du die Lücken korrekt ausfüllst wie im Beispiel a).

a)

t	Cent
$\cdot 8$	8
<input type="checkbox"/>	5
<input type="checkbox"/>	40
$\cdot 5$	5
<input type="checkbox"/>	8

b)

m ²	Euro
<input type="checkbox"/>	3
<input type="checkbox"/>	30
$\cdot 15$	<input type="checkbox"/>
<input type="checkbox"/>	15
<input type="checkbox"/>	<input type="checkbox"/>



Viel Erfolg!