

Arbeitsblatt

12.11.2013






Kostenlos auf dw-aufgaben.de





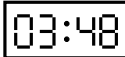
Aufgaben-Quickname: 5922

Aufgabe 1

Quick:
5922

Zu jeder Uhr in der oberen Reihe gibt es eine Uhr in der unteren Reihe, die die gleiche Uhrzeit anzeigt. Ordne diese Uhren richtig zu!

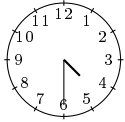



				
A	B	C	D	E

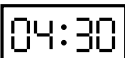
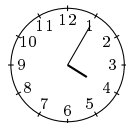
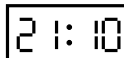

3	5	4	2	1
				

Aufgabe 2

Quick:
5922

Zu jeder Uhr in der oberen Reihe gibt es eine Uhr in der unteren Reihe, die die gleiche Uhrzeit anzeigt. Ordne diese Uhren richtig zu!

			
A	B	C	D

2	4	1	3
			








Aufgabe 3

Quick:
5922

Zu jeder Uhr in der oberen Reihe gibt es eine Uhr in der unteren Reihe, die die gleiche

Uhrzeit anzeigt. Ordne diese Uhren richtig zu!

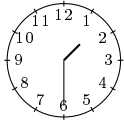
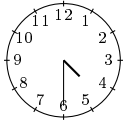


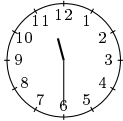
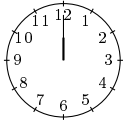

18:40	22:50	11:53	17:11	09:30	00:16	06:38
A	B	C	D	E	F	G

7	4	5	6	1	3	2
						

Aufgabe 4

Quick:
5922

Zu jeder Uhr in der oberen Reihe gibt es eine Uhr in der unteren Reihe, die die gleiche Uhrzeit anzeigt. Ordne diese Uhren richtig zu!

						
A	B	C	D	E	F	G

4	6	7	2	1	3	5
01:30	16:30	07:30	03:15	23:30	12:00	04:00

Viel Erfolg!