

Arbeitsblatt

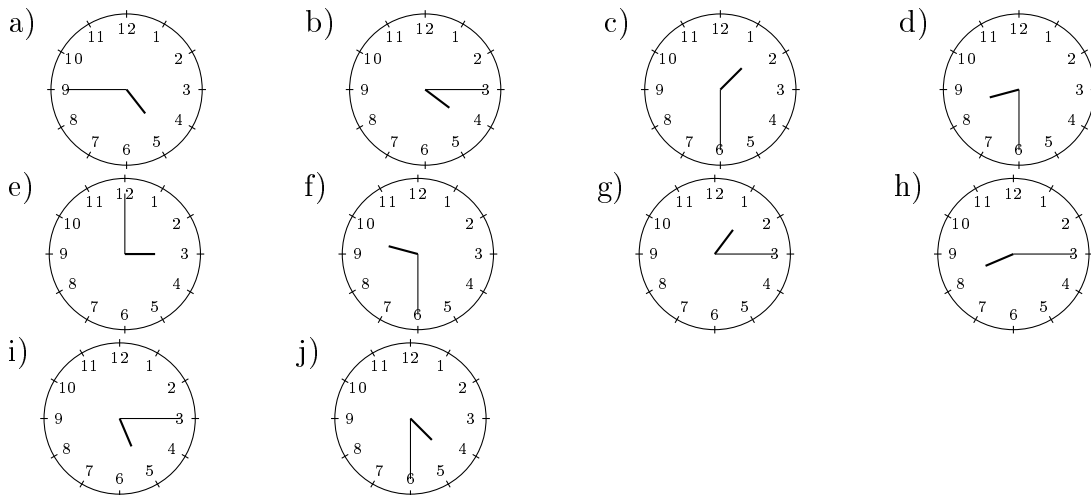
28.07.2013

Kostenlos auf dw-aufgaben.de

Aufgaben-Quickname: 7352

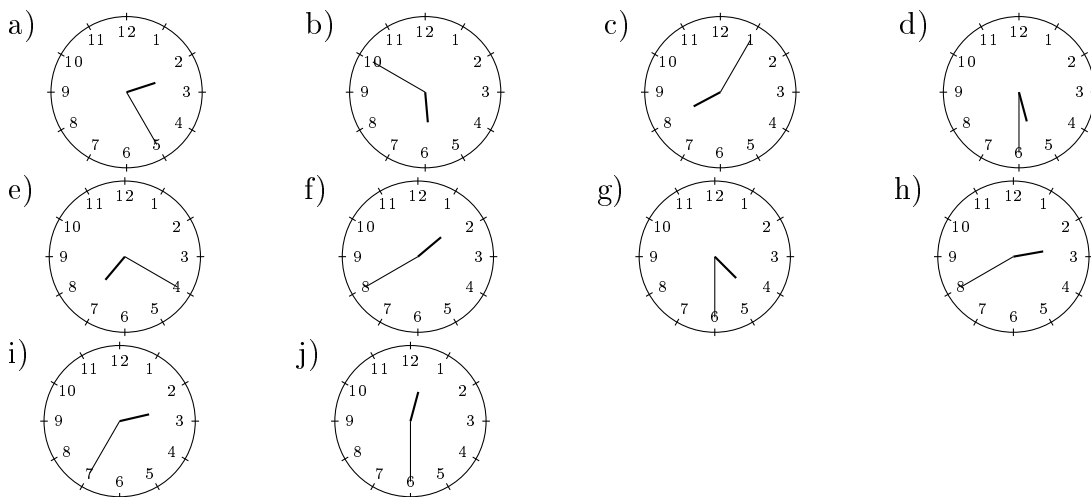
Aufgabe 1

Nenne die angezeigte Uhrzeit, beispielsweise viertel nach Zehn.



Aufgabe 2

Nenne die angezeigte Uhrzeit, beispielsweise 10:15 Uhr. Nenne jeweils zwei mögliche Zeiten.

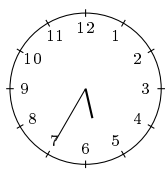


Aufgabe 3

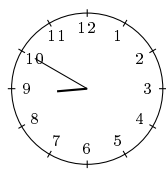
Nenne die angezeigte Uhrzeit, beispielsweise 10:15 Uhr. Nenne jeweils zwei mögliche

Zeiten.

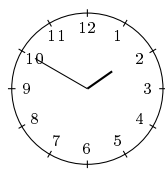
a)



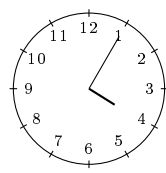
b)



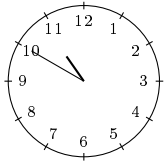
c)



d)



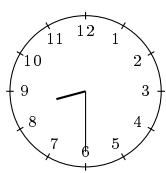
e)



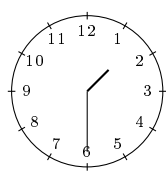
Aufgabe 4

Nenne die angezeigte Uhrzeit, beispielsweise viertel nach Zehn.

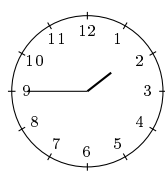
a)



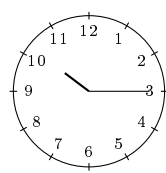
b)



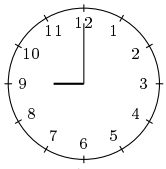
c)



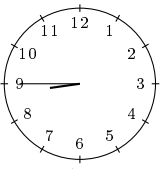
d)



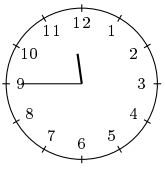
e)



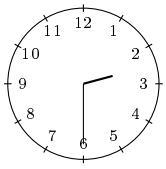
f)



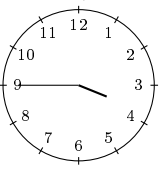
g)



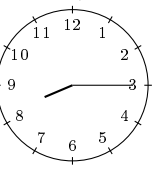
h)



i)



j)



Viel Erfolg!