

Arbeitsblatt

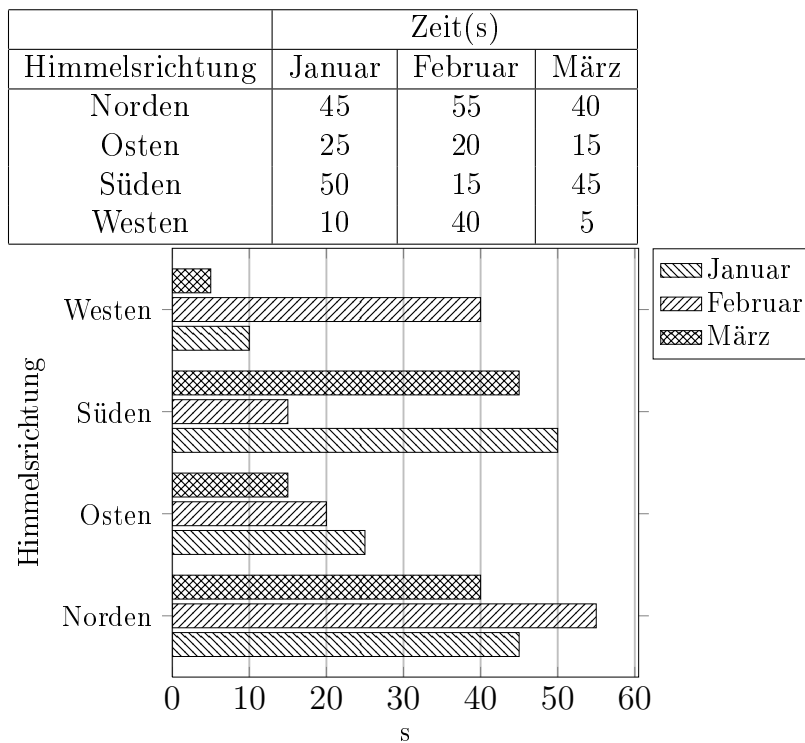
28.07.2013

Kostenlos auf dw-aufgaben.de

Aufgaben-Quickname: 7704

Aufgabe 1

Vervollständige das Balkendiagramm. Beschrifte dabei die X-Achse mit Zeit, die Y-Achse mit Himmelsrichtung.

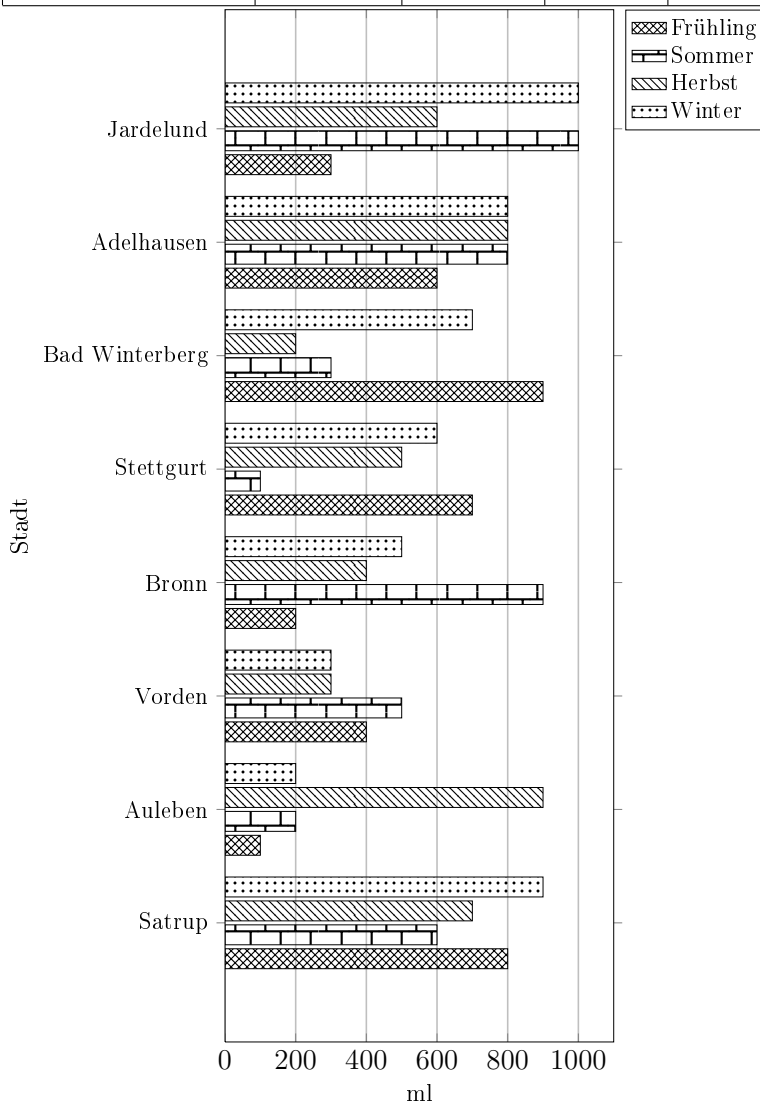
Quick:
7704

Aufgabe 2

Quick:
7704

Vervollständige das Balkendiagramm.

Stadt	Menge(ml)			
	Frühling	Sommer	Herbst	Winter
Satrup	800	600	700	900
Auleben	100	200	900	200
Vorden	400	500	300	300
Bronn	200	900	400	500
Stettgurt	700	100	500	600
Bad Winterberg	900	300	200	700
Adelhausen	600	800	800	800
Jardelund	300	1000	600	1000

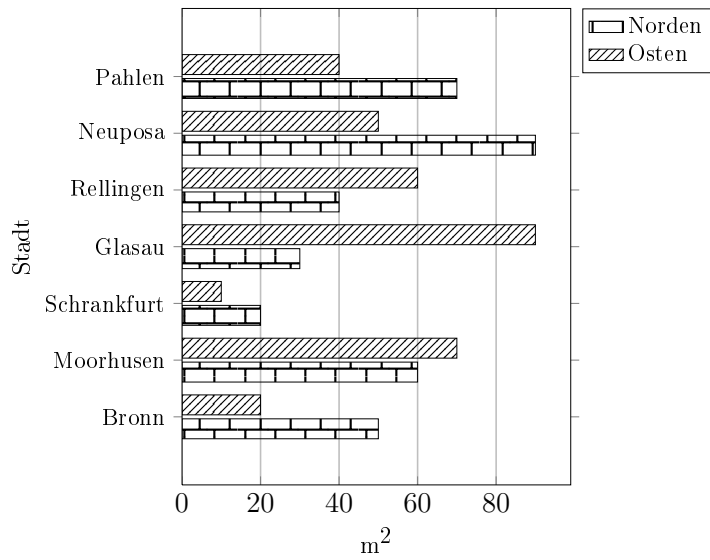


Aufgabe 3

Quick:
7704

Vervollständige das Balkendiagramm.

Stadt	Fläche(m ²)	
	Norden	Osten
Bronn	50	20
Moorhusen	60	70
Schrankfurt	20	10
Glasau	30	90
Rellingen	40	60
Neuposa	90	50
Pahlen	70	40

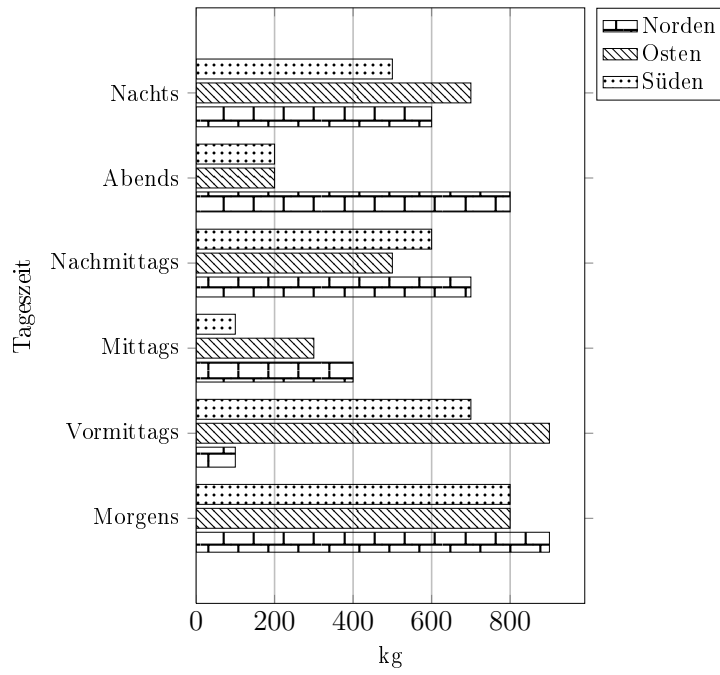


Aufgabe 4

Quick:
7704

Vervollständige das Balkendiagramm.

Tageszeit	Gewicht(kg)		
	Norden	Osten	Süden
Morgens	900	800	800
Vormittags	100	900	700
Mittags	400	300	100
Nachmittags	700	500	600
Abends	800	200	200
Nachts	600	700	500



Viel Erfolg!