

Arbeitsblatt

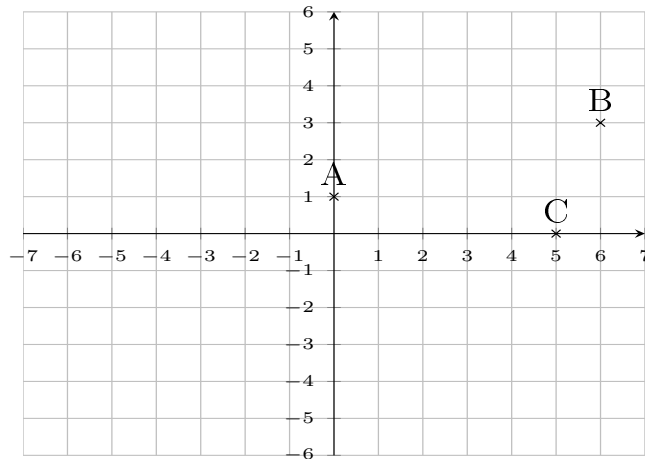
30.12.2013

Kostenlos auf dw-aufgaben.de

Aufgaben-Quickname: 4923

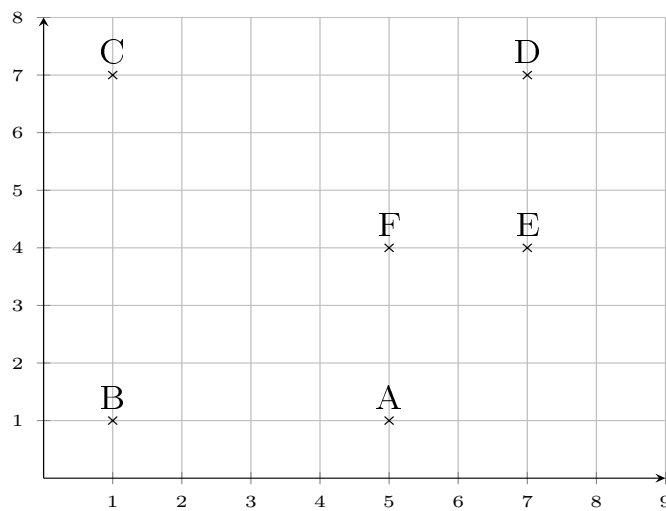
Aufgabe 1

Gib die Koordinaten der Punkte an.

Quick:
4923 $A(0|1)$, $B(6|3)$, $C(5|0)$

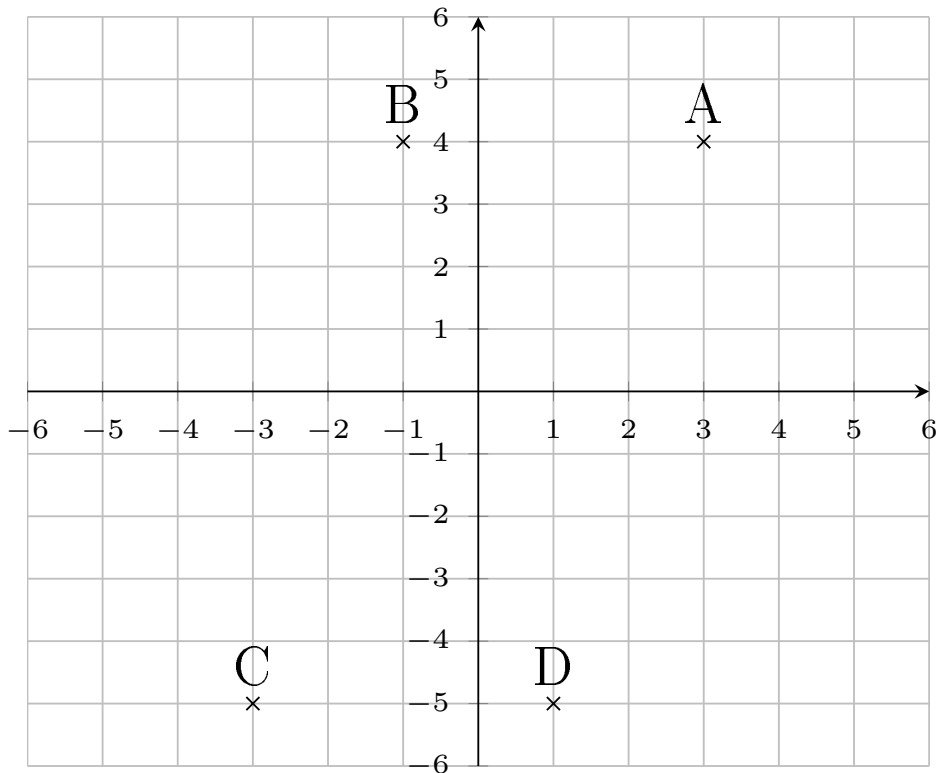
Aufgabe 2

Gib die Koordinaten der Punkte an.

Quick:
4923 $A(5|1)$, $B(1|1)$, $C(1|7)$, $D(7|7)$, $E(7|4)$, $F(5|4)$

Aufgabe 3Quick:
4923

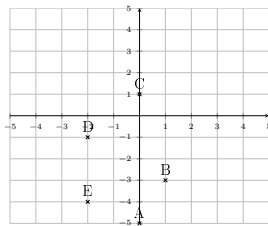
Gib die Koordinaten der Punkte an.



A(3|4), B(-1|4), C(-3|-5), D(1|-5)

Aufgabe 4Quick:
4923

Gib die Koordinaten der Punkte an.



A(0|-5), B(1|-3), C(0|1), D(-2|-1), E(-2|-4)

Viel Erfolg!